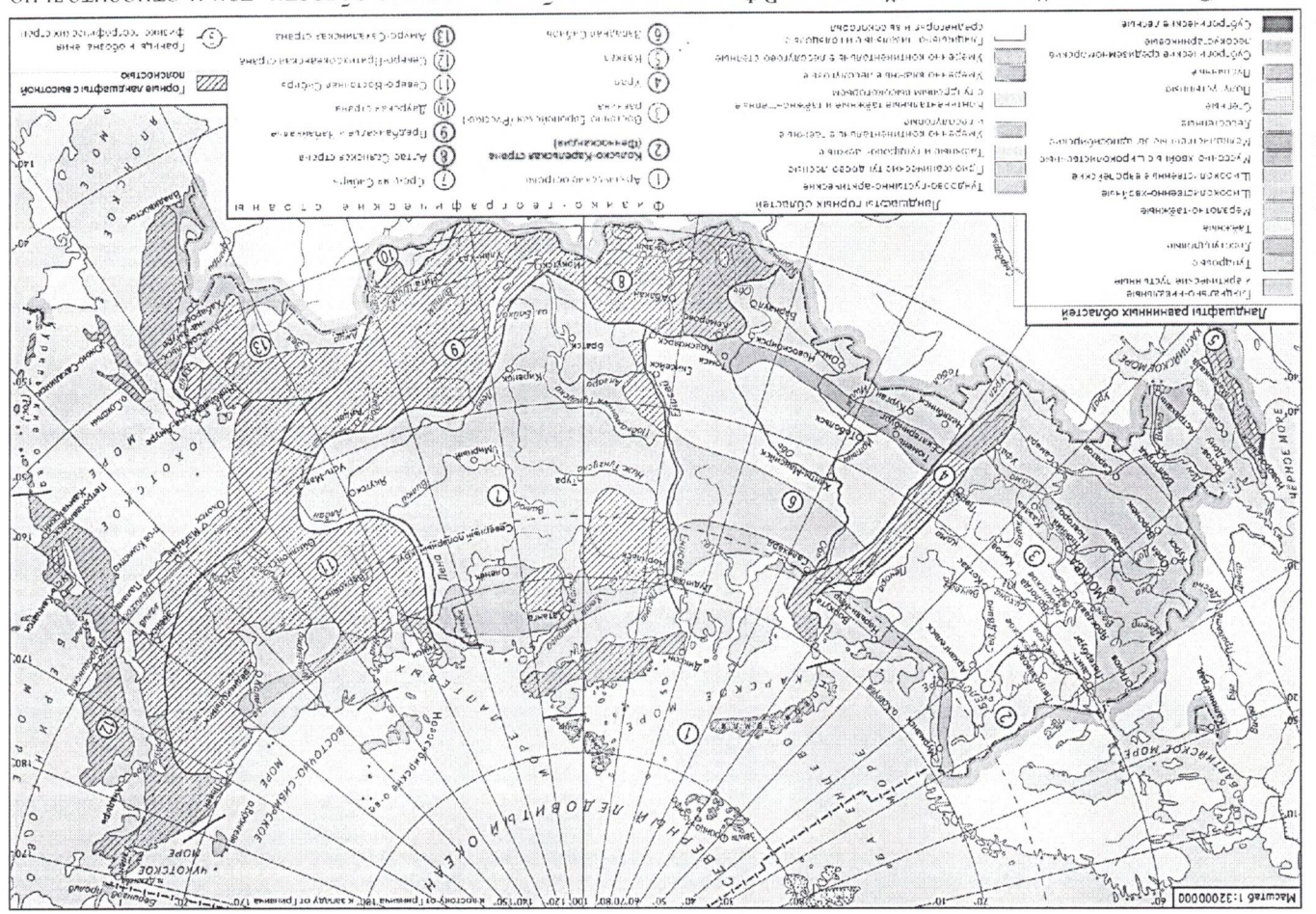


Задание 1

Пользуясь предложенной картой физико-географического районирования России, определите,

о какой физико-географической стране идет речь и заполните таблицу.



Этот крупный природный регион РФ включает в себя как горные области, так и относительно обширные равнины (преимущественно низменные). Горные породы, слагающие территорию, имеют морское происхождение и сформировались еще в конце палеозоя и мезозоя. А позднее эти породы были смяты в складчатые тектонические структуры, поэтому возраст складчатости для этой преобладающей горной области определяется именно так. В горах отчетливо проявляются высотная поясность. Горные склоны покрывают таёжные леса, а на вершинах расположены ледники. В силу суровости природно-климатических условий этот регион (и соседний с запада) иногда именуют «Мерзлотной Россией» - на большей части территории здесь господствует многолетняя мерзлота. Регион славится богатыми запасами полезных ископаемых, но особенную известность приобрел благодаря россыпным месторождениям этого металла, неорганизованная массовая добыча

Задание 4

При движении с запада на восток от Тринидадского меридиана путешественница Аня посетила несколько стран мира, пересекающихся определённой параллелью. Аня двинулась строго вдоль параллели, но останавливалась не во всех странах, пересекаемых параллелью. Определите по описанию, в каких странах побывала Аня и ответьте на дополнительные вопросы.

Страна А: созвучна по названию со страной Б и со второй по протяжённости реки части света, в которой страна расположена. Её столица располагается на берегах этой реки ровно напротив столицы страны Б.

Страна Б: созвучна по названию со страной А и со второй по протяжённости реки части света, в которой страна расположена. Её столица располагается на берегах этой реки ровно напротив столицы страны А.

Страна В: расположена в той же части света, что и страны А и Б. Запад страны омывается водами самого по площади крупного озера, одно из названий которого созвучно с названием страны, а второе содержит терпипоно полуострова, одно из названий которого созвучно с названием страны, а второе содержит в себе слово «Рор».


Страна Д: четвёртая страна мира по численности населения, полностью расположена на островах Страна Е: получила своё название от искомой параллели, вдоль которой путешествовала Аня.

Страна Е: омывается водами двух океанов. Название страны происходит от фамилии известного мореплавателя Страна Ж: на территории страны располагается устье самой полноводной реки мира

Назовите параллель, вдоль которой путешествовала Аня *экватор*

Назовите страны, которые она посетила:

- Страна А: ДРК
- Страна Б: Коста
- Страна В: ~~Филиппины~~ Кения
- Страна Г: Сомали
- Страна Д: ~~Индонезия~~ Индонезия
- Страна Е: Экватор
- Страна Е: Австралия
- Страна Ж: Бразилия



Название формы рельефа:

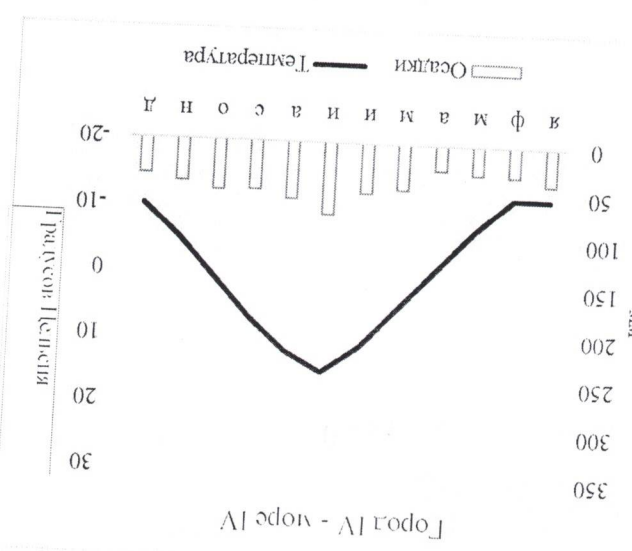
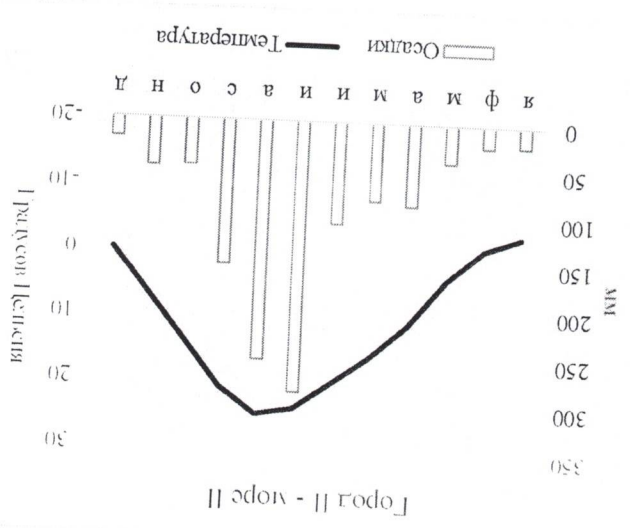
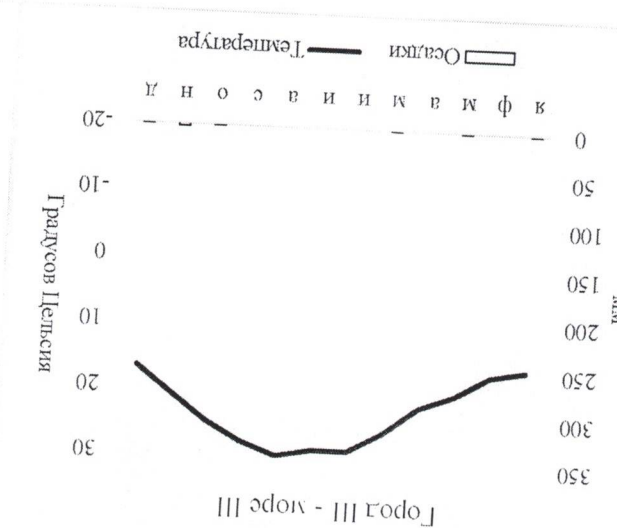
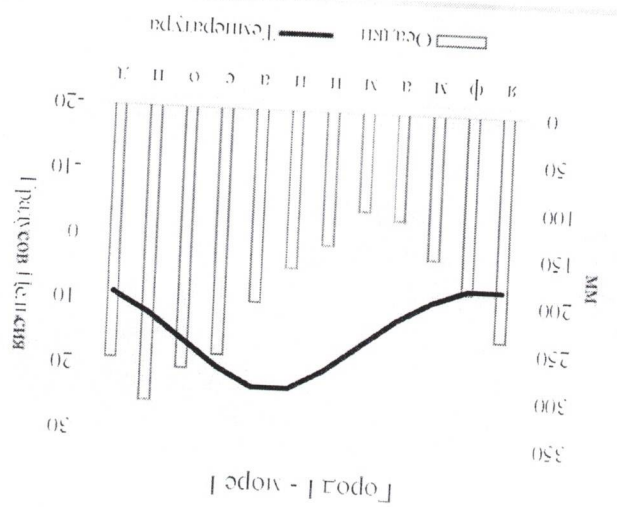
Происхождение формы рельефа:

Назовите две формы рельефа аналогичного происхождения:

Задание 3.

В мире существует четыре «цветных» моря. «Летними» они считаются не по цвету воды, а по названию. По климатограммам определите, на берегах какого из «цветных» морей стоит город, которому соответствует климатограмма, а также ответьте на дополнительные вопросы.

Курсовое задание



- Город I расположен на берегу **Черное** моря
- Город II расположен на берегу **Желтое** моря
- Город III расположен на берегу **Красное** моря
- Город IV расположен на берегу **Берингово** моря

Какое из цветных морей обладает наибольшей солёностью? **Красное**
 Чем это связано? Укажите три причины **иссохлация**

Назовите самую длинную из рек, впадающую в море I: **Фьганай**
 Назовите самую длинную из рек, впадающую в море II: **Хугакха**
 Назовите самую длинную из рек, впадающую в море IV:

Какое из цветных морей омывает берега наибольшего числа государств?
 Какое из цветных морей омывает берега наименьшего числа государств? **Берингово**

Как называется тип климата, характерный для города II?

Берега какой страны омываются сразу двумя цветными морями? **Россия**

Задание 1

Перед вами климатограммы некоторых населённых пунктов мира, расположенных на крупных полуостровах. Определите полуострова, опираясь на подсказки и соотнесите их с соответствующей климатограммой. Все термины и слова в одной подсказке относятся к одному полуострову. Порядок подсказок не обязательно соответствует порядку климатограмм (**подсказка 1 не обязательно относится к климатограмме полуострова 1**).

Подсказка I – Кра, мантры, Пинай, Джохор, Тививангса

Подсказка II – Сонора, холодное течение, Сан-Лукас, штаты, море Кортеза

Подсказка III – Эверглейдс, Канаверал, мантры, Окичоби, аллитаторы

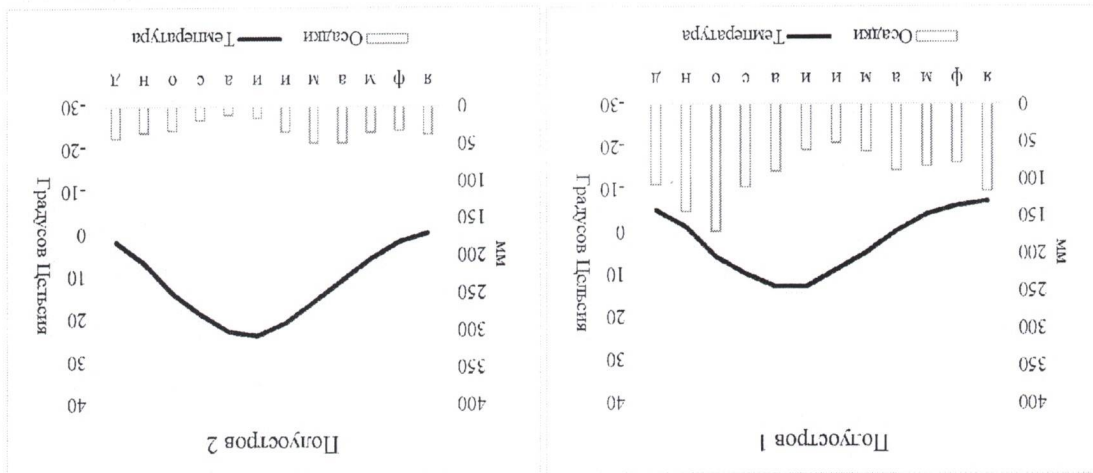
Подсказка IV – Йорк, мантры, крокодилы, Карпентария, Бокситы

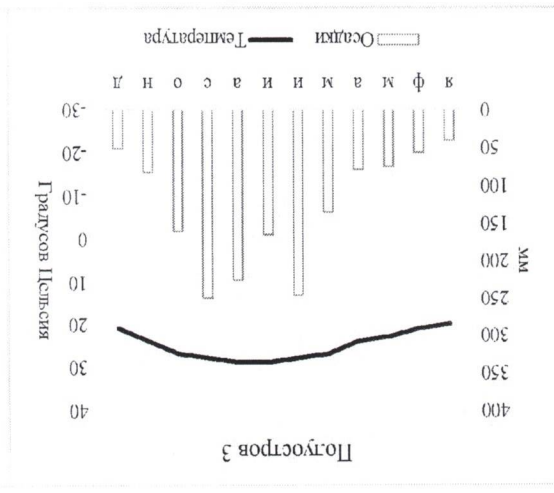
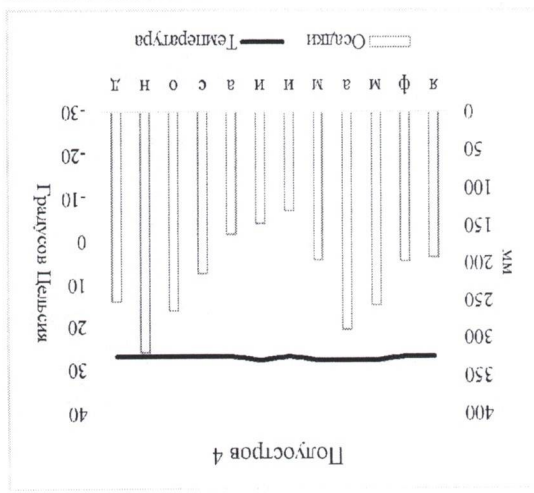
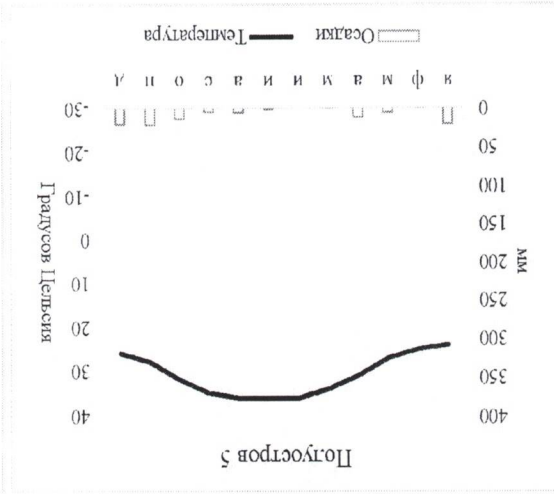
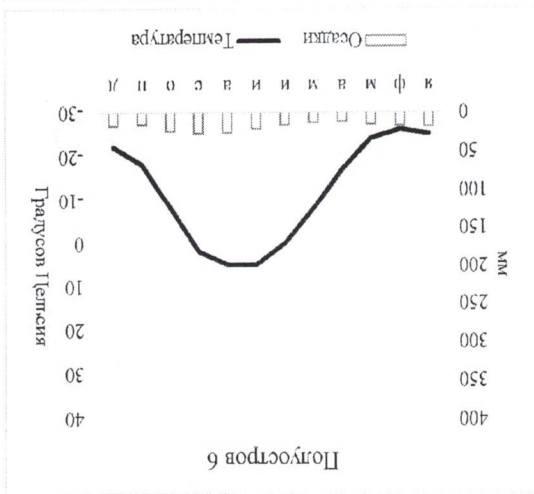
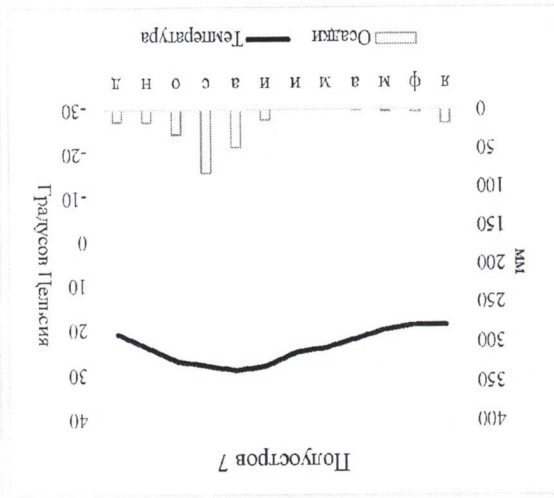
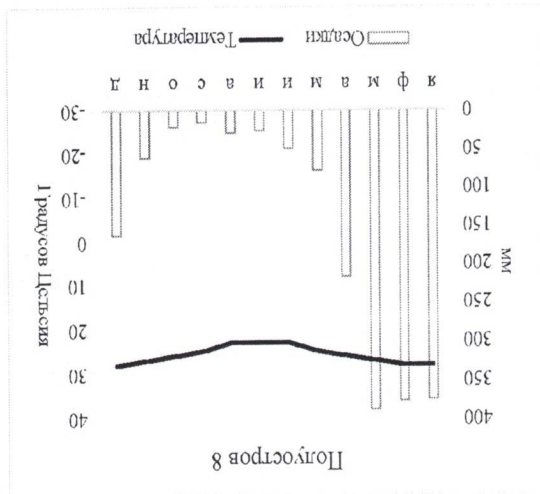
Подсказка V – Гейзеры, каменная берёза, база флота, вулканы, Атласов

Подсказка VI – Кунасаалах, Хатанга, Милдендорф, Диксон, Челюскин

Подсказка VII – Памуккале, Туз, Ван, Смирна, Тавр

Подсказка VIII – Руб-эль-Хали, вали, эмир, куэсты, Медина





Чуковский
Мушкетер

Даруама Мухана

- Полуостров 1 - Каштанка
- Полуостров 2 -
- Полуостров 3 - Фоминга
- Полуостров 4 - Игрокимад
- Полуостров 5 - Араби Скит
- Полуостров 6 - Ташик
- Полуостров 7 - Каштанка
- Полуостров 8 -

Задание 2

Определите регион России по описанию и ответьте на вопросы.

Этот внутриконтинентальный регион России по праву может гордиться тем, что его центр – старый город, не так давно отметивший свой юбилей, изображён на одной из банкнот российской валюты. Регион известен своими геологическими объектами. Региональный центр расположен на берегах самой длинной реки своей части света. На берегу двух озёр региона расположены города всемирно известного туристического маршрута. Котловины обоих озёр имеют одинаковое происхождение. Одно из озёр славится тем, что именно на его воды была спущена «потешная» учебная флотилия будущего императора Петра I. Регион также омывается водами крупного водохранилища, получившего название от второго по численности населения города региона и на дне которого располагается затопленный город.

Регион славится не только историей и географией, но и своей промышленностью. Одна из основных отраслей специализации региона – крупная подотрасль топливной и химической промышленности. Вторая крупная отрасль региона имеет непосредственное отношение к машиностроению, развивается на базе первой крупной отраслей «подарила» название футбольной команде из регионального центра. Также на современной территории региона прошло детство известного писателя-сатирика, писавшего в том числе о бураках и крестьянах своего региона.

Искомый регион	Алтайская область	<input checked="" type="checkbox"/>
Номинал банкноты, на котором изображён региональный центр	1000р.	<input checked="" type="checkbox"/>
Крупнейшее озеро региона		<input type="checkbox"/>
Озеро, на воды которого впервые спустили «потешную» флотилию	Илеустубо	<input checked="" type="checkbox"/>
Какое происхождение у котловин этих озёр?	Кедровое	<input checked="" type="checkbox"/>
Самая длинная река своей части света, на которой расположен региональный центр	Зорага	<input checked="" type="checkbox"/>
Самый большой город по численности	Н. Кольцово	<input checked="" type="checkbox"/>

Регион славится богатыми залежами полезных ископаемых, но особенную известность приобрел благодаря россыпным месторождениям этого металла, неогранизованная массовая добыча

«Мерзлотной России» - на большей части территории здесь господствует многолетняя мерзлота. Суровости природно-климатических условий этот регион (и соседний с запада) иногда именуют поясность. Горные склоны покрывают таёжные леса, а на вершинах расположены ледники. В силу преимущественно горной области определяются именно так. В горах отчетливо проявляются высотная были смяты в складчатые тектонические структуры, поэтому возраст складчатости для этой морское происхождение и сформировались еще в конце палеозоя и мезозое. А позднее эти породы обширные равнины (преимущественно низменные). Горные породы, слагающие территорию, имеют Этот крупный природный регион РФ включает в себя как горные области, так и относительно

Полезная предложенная картой физико-географического районирования России, определите, о какой физико-географической стране идет речь и заполните таблицу.

Задание 3

населения из расположенных на данной реке	
Водохранилище в регионе	Горьковский
Затопленный город на дне водохранилища	Мавра
Второй по численности населения город региона, подаривший название водохранилищу	Зеленка
Всемирно известный туристический маршрут	Зеленовский парк
Все города региона, входящие в этот маршрут	Зеленовск, Рощово
Одна из основных отраслей специализации региона - крупная подотрасль топливной и химической промышленности	Нефтепереработка
Вторая упомянутая в задании отрасль, «подарившая» название футбольной команде	Искра Ишимск
Писатель-сатирик, чье детство прошло в регионе	М. Ильинский
Ближайшая действующая АЭС к	Горьковскому атомному реактору
Крупнейший регион-сосед по численности населения	Москва, Ишимский

-
-
-
+
+
+
-
+
+
+

Ишимский
Зеленовск

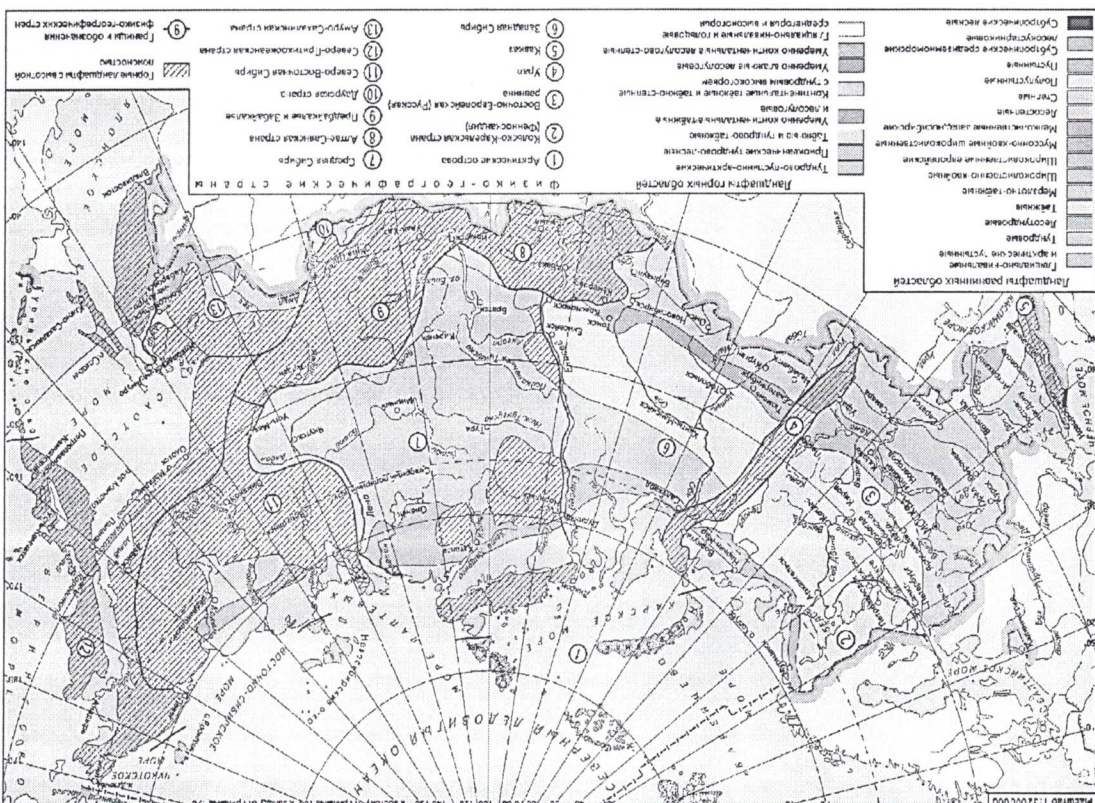
которого активно велась еще в первой четверти XIX века, а в советские годы и сейчас находится под

чутким контролем государственных структур.

На границе природных регионов в акватории Северного Ледовитого океана находится остров, который долгое время отсутствовал на картах, т.к. доступ к нему по морю большую часть года закрыт льдами. Остров этот назван в честь выдающегося русского путешественника и государственного деятеля, безуспешно искавшего остров в течение 1820—1824 годов. Сегодня (с 2004 года) этот остров входит в список объектов Всемирного Природного Наследия ЮНЕСКО, благодаря своей роли в размножении этих крупных млекопитающих.

Соединив с востока природный регион отличается удивительно разнообразными условиями и ландшафтами. Здесь также сочетаются горные и равнинные области, но климат более мягкий. Важную роль здесь играет и другой фактор – эндогенный, что накладывает специфический отпечаток не только на рельеф, но и все компоненты природной среды и на хозяйственную деятельность.

Изучение древних отложений на дне этих морей и по обе стороны этого пролива показало, что за последние 3 млн лет окружающая территория «поднималась» и вновь «уходила» под воду, по крайней мере, шесть раз (последнее изменение – около 10,5 тыс. лет назад). При этом в результате циклических колебаний уровня Мирового океана образовывался своеобразный «сухопутный мост» между материками, по которому каждый раз, из Старого света в Новый и обратно происходила миграция животных. Название этой палеогеографической страны было дано в честь российского мореплавателя (немешего датское происхождение).



Рыжова
Шушар

Трушкова
Алишане

Какие регионы мира сильнее всего страдают от данного процесса в последние 50-60 лет? С

чем это связано?
Африка, Азия, Австралия, все на глоба, циркулярность, погребно-оркестр метод с/х, лес в Австралия.

Почему этот процесс является негативным для окружающей среды и экосистем стран и регионов мира?
Осушение территорий, сокращение биоразнообразия.

В таблице перед вами приведен рейтинг стран-лидеров и регионов России-лидеров по некому показателю, связанному с рассматриваемой проблемой. Определите этот показатель и назовите регион X

Страна	Значение показателя, %	Регион России	Значение показателя, %
Суринам	98	Регион X	82
Микронезия	92	Приморский край	77
Таон	90	Костромская область	74
Сейшельские о-ва	88	Республика Коми	73

Показатель - *лесистость*
Регион X - *Иркутская область*

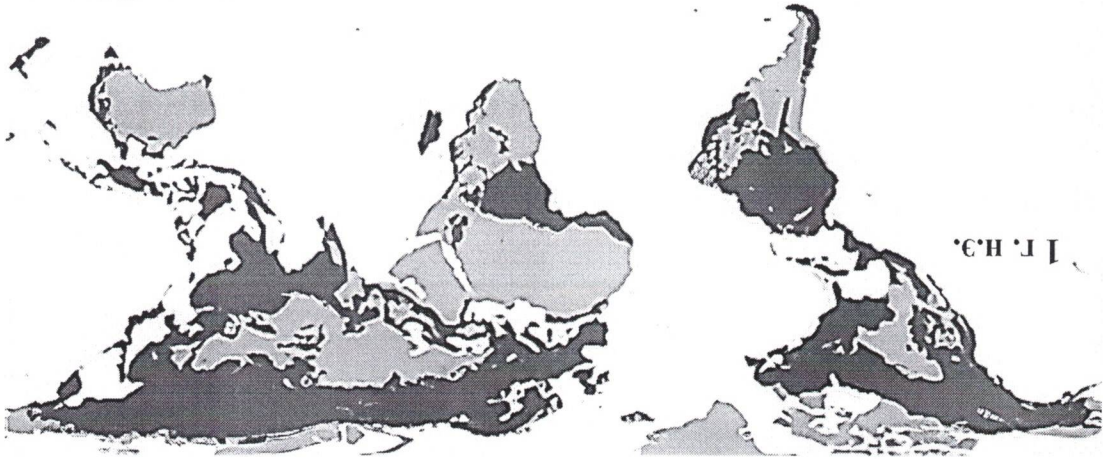
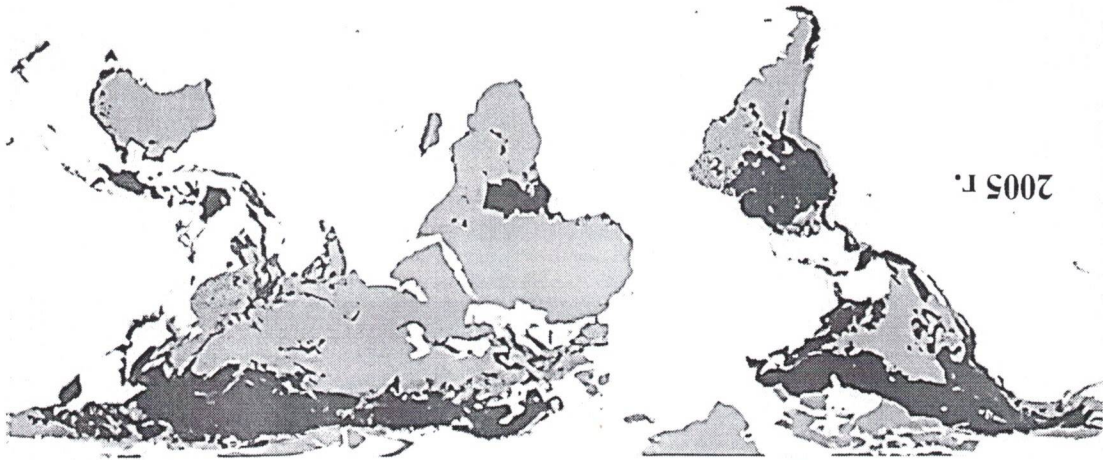
Определите	ОТВЕТЫ	
1	Природный регион, о котором идет речь в описании	
2	Возраст складчатости	
3	Высшую точку природного региона	Шибеган
4	Хребет, в пределах которого расположена высшая точка	Челкского
5	Металлическое полезное ископаемое, которым славится регион	Зачовша
6	Река, в долине которой расположены основные районы добычи	Ковшак
7	Название острова (входит в список объектов Всемирного Природного Наследия ЮНЕСКО)	О. Вранчелья
8	Полос холода северного полушария	С. П. Оушяков
9	Назовите условную линию на поверхности земного шара, пересекающую этот и соседние природные регионы с запада на восток, к северу от которой бывают полярный день и полярная ночь	С. П. К/ч/ч.
10	Природный регион, соседний с запада	
11	Крупную форму рельефа, в пределах которой расположена высшая точка (входит в список объектов Всемирного Природного Наследия ЮНЕСКО)	Кувейт
12	Природный регион, соседний с востока	
13	Эндемичный фактор, определяющий специфику этого природного региона	
14	Моря, о которых идет речь в описании	
15	Климатический сектор/сектора умеренного климатического пояса, в пределах которого/которых расположена большая часть территории	
16	Высшую точку природного региона	О. Вранчелья
17	Объект из списка Всемирного Природного Наследия ЮНЕСКО, в пределах которой	

Курасова
Мухоморова

Какие регионы мира сильнее всего пострадали от данного процесса? С чем это связано?

Как называется этот процесс?

Что на этом изображении отмечено темным цветом на поверхности суши?



Перед вами карта, на которой отражена динамика одного из процессов, являющегося следствием роста численности населения и увеличения интенсивности антропогенной деятельности.

Задание 4

расположена высшая природного региона	Чукотский полуостров	18	Крупнейшее из соседних государств, с которыми природный регион граничит по морю	США
Исследователя		19	Название палеогеографической страны, по которой проходил «сухопутный мост»	Гангва
20				

Чукотский полуостров

Тестовый тур

1. Какой из данных хребтов облагает наиболее высокую вершину?
А) Хребет Черского
Б) Верхоянский хребет
В) Становой хребет
Г) Хребет Джукунджур

2. Какие леса являются разновидностью галерейных?
А) Тулан
Б) Листвяги
В) Колки
Г) Тилги

3. Какой из местных ветров не относится к ветрам оз. Байкал?
А) Култук
Б) Чинук
В) Берховик
Г) Сарма

4. Самым большим островом Курильской гряды является:
А) Уруп
Б) Парамушир
В) Итуруп
Г) Симушир

5. Какая из наук изучает процессы и эффекты, связанные с промерзанием и оттаиванием горных пород:
А) Криминология
Б) Стелеология
В) Иктиология
Г) Лепидоптерология

6. Кто был руководителем первой экспедиции по восхождению на Эверест?
А) Джим Уитакер
Б) Джон Хант

Иванова
Иванова

Куратор
Михайлов

- В) Ванда Руткевич
- Г) Геннадий Киреевский

7. Буквой К на геологической карте обозначаются породы и отложения:
- А) Каменноугольного периода
 - Б) Кембрия
 - В) Мелового периода
 - Г) Пермского периода

8. Когда в Петропавловске-Камчатском полночь, в Москве:
- А) 14:00
 - Б) 15:00
 - В) 16:00
 - Г) 17:00

9. Выберите остров, где продолжительность дня и ночи в течение года будет меняться сильнее всего:
- А) Элмир
 - Б) Сахалин
 - В) Лусон
 - Г) Мадейра

10. Вулкан Ньбрантонто расположен в:
- А) Кении
 - Б) Индонезии
 - В) ДР Конго
 - Г) Папуа-Новой Гвинее

11. Национальный парк «Орловское поле» расположен в Орловской области на границе с:
- А) Тульской областью
 - Б) Липецкой областью
 - В) Курской областью
 - Г) Калужской областью

12. Ни один километр российской границы не проходит по реке:
- А) Нарва
 - Б) Амур
 - В) Неман

Г) Пенжина

13. Не граничит с Мексикой штат США:

А) Юта

Б) Техас

В) Аризона

Г) Калифорния

14. Самое холодное место Европы расположено в:

А) Республике Коми

Б) Архангельской области

В) Мурманской области

Г) Ненецком АО

15. Промышленное освоение Самотлорского месторождения нефти началось в:

А) 1940-х

Б) 1960-х

В) 1980-х

Г) 2000-х

16. Город Сарангул расположен в:

А) Удмуртии

Б) Башкирии

В) Карелии

Г) ХМАО-Югре

17. Самой большой единицей АТД Канады по площади является:

А) Квебек

Б) Британская Колумбия

В) Нунавут

Г) Северо-Западные территории

18. Горы на границе Франции и Швейцарии дали название следующему геологическому периоду:

А) Меловому

Б) Триасовому

В) Силуру

Г) Юрскому

19. Какой из нижеперечисленных городов никогда не был региональным центром?

- A) Великие Луки
- B) Арамас
- B) Магнитогорск
- Г) Балашов

20. Карованеп был валютой:

- A) Украины
- B) Белоруссии
- B) Польши
- Г) Сербии

Список городов: 1. Давидов В. А. Дуг -
2. Зноркава Л. Ф. Дуг -
3. Зноркава М. А. Дуг -
4. Мухомов Г. М. Дуг -
5. Мухомов Л. М. Дуг -

Список городов: 1. Давидов В. А. Дуг -
2. Зноркава Л. Ф. Дуг -
3. Зноркава М. А. Дуг -
4. Мухомов Г. М. Дуг -
5. Мухомов Л. М. Дуг -

Зноркава
Мухомов

Александр Савин.

Тестовый тип

1. К холодным морским течениям относится:

- A) Северо-Тихоокеанское
- B) Восточно-Австралийское
- B) Калифорнийское
- Г) Аляскинское

2. Правым притоком Волги является:

- A) Шексна
- B) Кама
- B) Сура
- Г) Самара

3. В каком городе находится штаб-квартира ЮНЕСКО?

- A) Вена
- B) Берлин
- B) Лондон
- Г) Париж

4. Какая тектоническая плита ограничена Южно-Американской плитой с севера, а Антарктической с юга?

- A) Плита Хуана де Фука
- B) Плита Наска
- B) Плита Кокос
- Г) Плита Скотия

5. Какой великий русский землепроходец в 17 веке совершил ряд походов в Приамурье, занимался исследованием юго-восточной Сибири, написал «Чертеж реки Амру»?

- A) Василий Данилович Погорков
- B) Семён Иванович Дежнёв
- B) Ерофей Павлович Хабаров
- Г) Василий Васильевич Прончищев

6. В каком регионе России реже, чем в остальных, можно застать суховеи?

- A) Астраханская область
- B) Брянская область

Исторические зап. уф. во 13. г. Исаккоба З. Д. Девис

Исследования в Сибири, написал «Чертеж реки Амру»?

1. Исидора П. М. Девис

2. Ерофей Павлович Хабаров

3. Прончищев

4. Исидора П. М. Девис

5. Исидора П. М. Девис

	земного шара, пересекающую этот и соседние природные регионы с запада на восток, к северу от которой бывают полярный день и полярная ночь	
10	Природный регион, соседний с запада	Восточный бассейн Восточное море
11	Крупную форму рельефа, в пределах которой расположена высшая точка (входит в список объектов Всемирного Природного Наследия ЮНЕСКО)	Ивано-Франковская
12	Природный регион, соседний с востока	Восточный бассейн Восточное море
13	Эндемичный фактор, определяющий специфику этого природного региона	
14	Моря, о которых идет речь в описании	Берингово, Чукотское моря
15	Климатический сектор/сектора умеренного климатического пояса, в пределах которого/которых расположена большая часть территории	(Субарктический) - Континентальности
16	Высшую точку природного региона	
17	Объект из списка Всемирного Природного Наследия ЮНЕСКО, в пределах которой расположена высшая природного региона	
18	Крупнейшее из соседних государств, с которыми природный регион граничит по морю	США
19	Исследователь	Вейкел
20	Название палеогеографической страны, по которой проходил «сухопутный мост»	Берингия

Задание 2

Вам предложены четыре изображения различных форм рельефа, образовавшихся в результате экзогенных процессов. Задача - назвать эти формы рельефа, указать их происхождение и ответить на дополнительные вопросы.



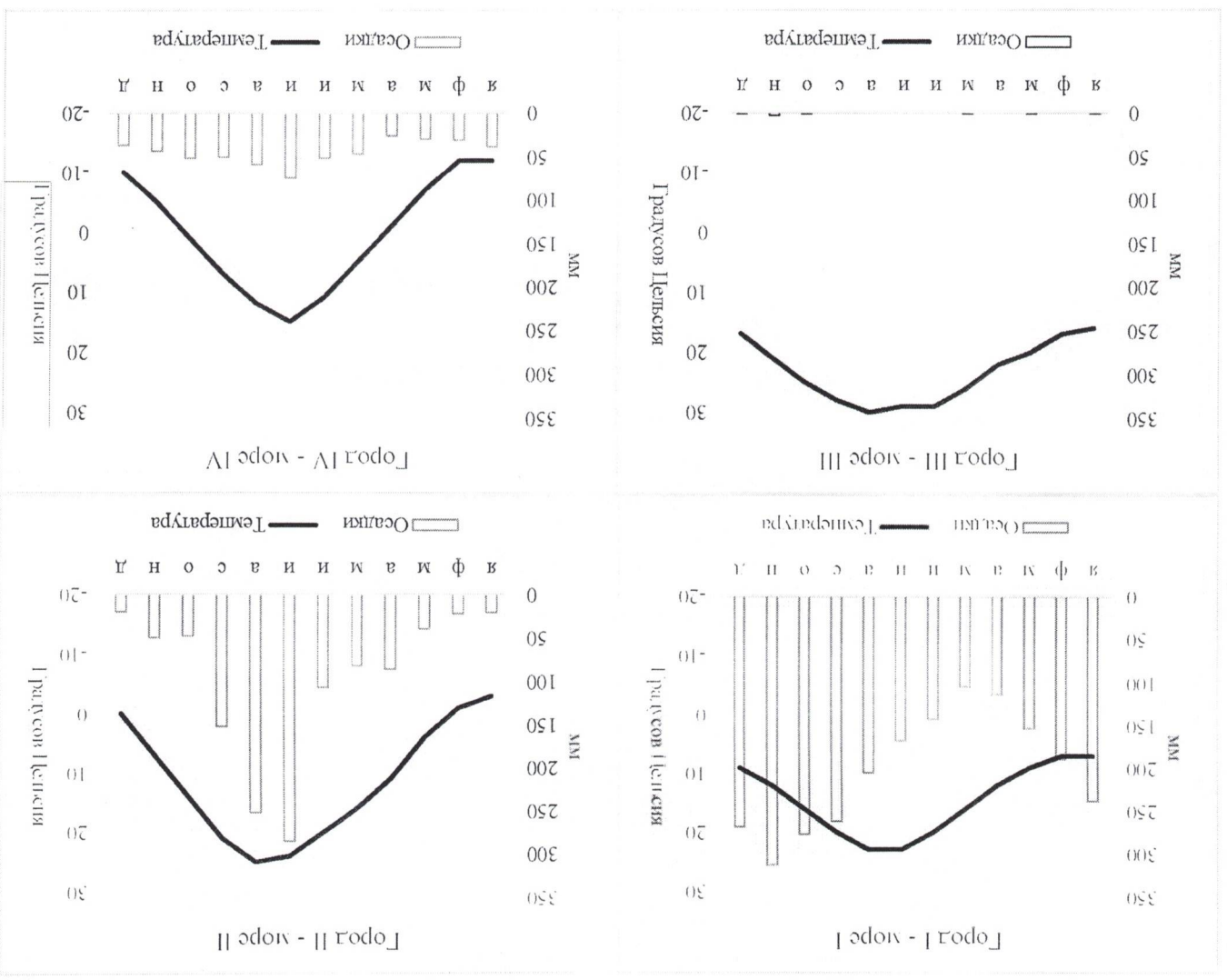
Название формы рельефа:

Происхождение формы рельефа:

Назовите две формы рельефа аналогичного происхождения:

Задание 3.

В мире существует четыре «цветных» моря. «Льветным» они считаются не по цвету воды, а по названию. По климатограммам определите, на берегах какого из «цветных» морей стоит город, которому соответствует климатограмма, а также ответьте на дополнительные вопросы.



- Горд I расположен на берегу Минского моря
- Горд II расположен на берегу Чирковского моря
- Горд III расположен на берегу Красного моря
- Горд IV расположен на берегу Белого моря

+ Какое из цветных морей обладает наибольшей солёностью? Красное

+ С чем это связано? Укажите три причины Низ дождев, высокая температура

- Назовите самую длинную из рек, впадающую в море I

- Назовите самую длинную из рек, впадающую в море II

- Назовите самую длинную из рек, впадающую в море IV

+ Какое из цветных морей омывает берега наибольшего числа государств? Красное

+ Какое из цветных морей омывает берега наименьшего числа государств? Белое

- Как называется тип климата, характерный для города II? Умеренный морской климат

+ Берега какой страны омываются сразу двумя цветными морями? Россия

Шарба Каштан

Всероссийская олимпиада школьников по географии

Муниципальный этап

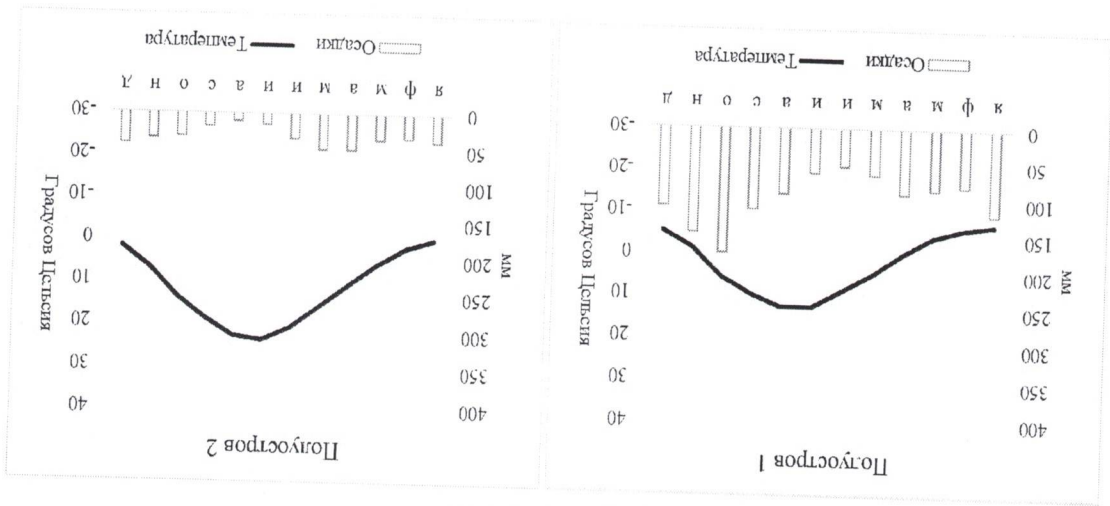
9 класс

Теоретический тур

Задание 1

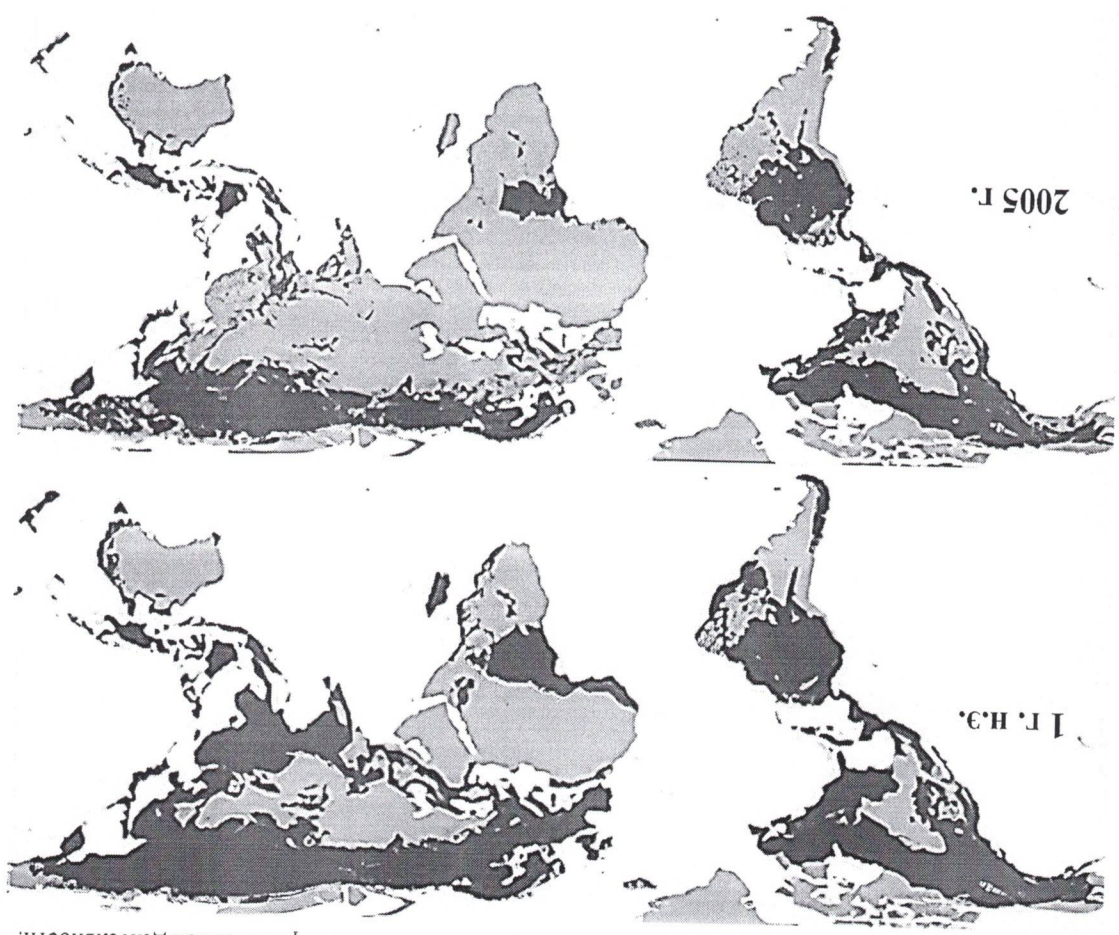
Перед вами климатограммы некоторых населённых пунктов мира, расположенных на крупных полуостровах. Определите полуострова, опираясь на подказки и соотносите их с соответствующей климатограммой. Все термины и слова в одной подказке относятся к одному полуострову. Порядок подказок не обязательно соответствует порядку климатограмм (подказка I не обязательно относится к климатограмме полуострова I).

- Подказка I – Кра, мандры, Пий, Джохор, Тиввангса
- Подказка II – Сонора, холодное течение, Сан-Лукас, штаты, море Кортеза
- Подказка III – Эвергейдс, Канаверал, мандры, Окичоби, аллитаторы
- Подказка IV – Йорк, мандры, крокодильи, Карпентария, бокситы
- Подказка V – Гейзеры, каменная берёза, база флота, вулканы, Атласов
- Подказка VI – Кунгасалах, Хатанга, Милдендорф, Диксон, Челюскин
- Подказка VII – Ламуккале, Туз, Ван, Смирна, Тавр
- Подказка VIII – Руб-эль-Хали, вадн, эмир, куэсты, Медина



Какие регионы мира сильнее всего пострадали от данного процесса? С чем это связано?
 Африка, Азия. Кербатка тошва, сурхаткешко,
 с/х.

Что на этом изображении отмечено темным цветом на поверхности суши?
 Меса
 Как называется этот процесс? сокращение лесов



Перед вами карта, на которой отражена динамика одного из процессов, являющегося следствием роста численности населения и увеличения интенсивности антропогенной деятельности.

Задание 4

расположена высшая природного региона		
18	Крупнейшее из соседних государств, с которыми природный регион граничит по морю	
19	Исследователь	
20	Название палеогеографической страны, по которой проходил «сухопутный мост»	

Шугуба
 Кашама.

Wingso ba Kowshama

Какие регионы мира сильнее всего страдают от данного процесса в последние 50-60 лет? Чем это связано?
Африка, если касаться

Почему этот процесс является негативным для окружающей среды и экосистем стран и регионов мира? Какие меры следует предпринять?
Известно, что углекислый газ вредит.

В таблице перед вами приведен рейтинг стран-лидеров и регионов России-лидеров по некому показателю, связанному с рассматриваемой проблемой. Определите этот показатель и назовите регион X

Страна	Значение показателя, %	Регион России	Значение показателя, %
Суринам	98	Регион X	82
Микронезия	92	Приморский край	77
Таон	90	Костромская область	74
Сейшельские о-ва	88	Республика Коми	73

Показатель -
Регион X -

Курсовая работа

Р. К.

Тестовый тип

1. К холодным морским течениям относится:

- А) Северо-Тихоокеанское
- Б) Восточно-Австралийское
- В) Калифорнийское
- Г) Аляскинское

2. Правым притоком Волги является:

- А) Шексна
- Б) Кама
- В) Сура
- Г) Самара

3. В каком городе находится штаб-квартира ЮНЕСКО?

- А) Вена
- Б) Берлин
- В) Лондон
- Г) Париж

4. Какая тектоническая плита ограничена Южно-Американской плитой с севера, а Антарктической с юга?

- А) Плита Хуана де Фука
- Б) Плита Наска
- В) Плита Кокос
- Г) Плита Скотия

5. Какой великий русский землепроходец в 17 веке совершил ряд походов в Приамурье, занимался исследованием юго-восточной Сибири, написал «Чертёж реки Амуру»?

- А) Василий Данилович Поляков
- Б) Семён Иванович Дежнёв
- В) Ерофей Павлович Хабаров
- Г) Василий Васильевич Прончищев

6. В каком регионе России реже, чем в остальных, можно застать суховеи?

- А) Астраханская область
- Б) Брянская область

Список литературы:
 1. Мухоморова Я. М. Географический атлас России: 1. Авторское фото. Атлас.
 2. Экономическая география России.
 3. Географический атлас России.

4. Мухоморова Я. М. Географический атлас России: 1. Авторское фото. Атлас.

- В) Ванда Руткевич
 Г) Геннадий Киреевский
7. Буквой К на геологической карте обозначаются породы и отложения:
 А) Каменноугольного периода
 Б) Кембрия
 В) Мелового периода
 Г) Пермского периода
8. Когда в Петропавловске-Камчатском полночь, в Москве:
 А) 14:00
 Б) 15:00
 В) 16:00
 Г) 17:00
9. Выберите остров, где продолжительность дня и ночи в течение года будет меняться сильнее всего:
 А) Элмир
 Б) Сахалин
 В) Лусон
 Г) Мадейра
10. Вулкан Ньбрангто расположен в:
 А) Кении
 Б) Индонезии
 В) ДР Конго
 Г) Папуа-Новой Гвинее
11. Национальный парк «Орловское поле» расположен в Орловской области на границе с:
 А) Тульской областью
 Б) Липецкой областью
 В) Курской областью
 Г) Калужской областью
12. Ни один километр российской границы не проходит по реке:
 А) Нарва
 Б) Амур
 В) Неман

-
 +
 +
 -
 +
 -
 +

Wing to Kestrel

Тестовый тип

1. Какой из данных хребтов обладает наиболее высокой вершиной?
- А) Хребет Черского
 - Б) Верхоянский хребет
 - В) Становой хребет
 - Г) Хребет Джугджур

2. Какие леса являются разновидностью галерейных?
- А) Туган
 - Б) Листвяги
 - В) Колки
 - Г) Тигей

3. Какой из местных ветров не относится к ветрам оз. Байкал?
- А) Култук
 - Б) Чинук
 - В) Берховик
 - Г) Сарма

4. Самым большим островом Курильской гряды является:
- А) Уруп
 - Б) Парамушир
 - В) Итуруп
 - Г) Симушир

5. Какая из наук изучает процессы и эффекты, связанные с промерзанием и оттаиванием горных пород:

- А) Криобиология
- Б) Спелеология
- В) Иктиология
- Г) Лепидоптерология

6. Кто был руководителем первой экспедиции по восхождению на Эверест?
- А) Джим Уиттакер
 - Б) Джон Хант

Г) Пенжинна

13. Не граничит с Мексикой штат США:

А) Юта

Б) Техас

В) Аризона

Г) Калифорния

14. Самое холодное место Европы расположено в:

А) Республике Коми

Б) Архангельской области

В) Мурманской области

Г) Ненецком АО

15. Промышленное освоение Самотлорского месторождения нефти началось в:

А) 1940-х

Б) 1960-х

В) 1980-х

Г) 2000-х

16. Город Саранга расположен в:

А) Удмуртии

Б) Башкирии

В) Карелии

Г) ХМАО-Югре

17. Самой большой единицей АТД Канады по площади является:

А) Квебек

Б) Британская Колумбия

В) Нунавут

Г) Северо-Западные территории

18. Горы на границе Франции и Швейцарии дали название следующему геологическому периоду:

А) Меловому

Б) Триасовому

В) Силуру

Г) Юрскому

19. Какой из нижеперечисленных городов никогда не был региональным центром?

- А) Великие Луки
- Б) Арамас
- В) Могилёв
- Г) Валюжицы

+

20. Карованец был валютой:

- А) Украины
- Б) Белоруссии
- В) Польши
- Г) Сербии

+

Список городов: 3. А. Мухоморова 3. А. Давыдович

- 1. Александр Н. П. - Ст.
- 2. Ерохова М. А. - Ст.
- 3. Давыдович М. А. - Ст.
- 4. Мухоморова 3. А. - Ст.
- 5. Мухоморова М. А. - Ст.

Многове Каштан

Полуостров 1 - (Каштанский) Каштанка

Полуостров 2 - (Каштанский)

Полуостров 3 - Остров

Полуостров 4 - Каштанский

Полуостров 5 - Абакский

Полуостров 6 - Там мсп.

Полуостров 7 - (Там мсп.) Каштанка

Полуостров 8 - (Абакский) Каштан - Каштан.

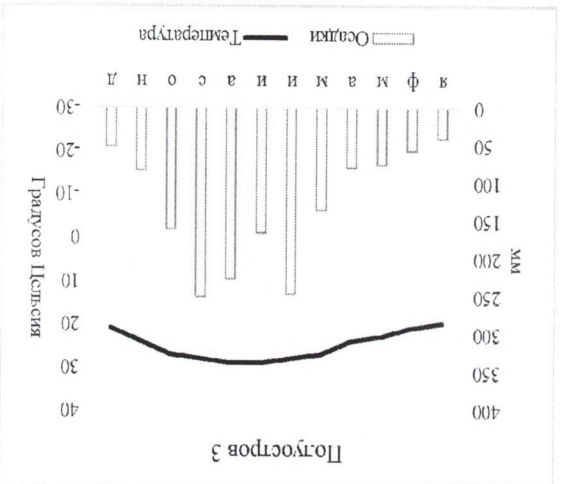
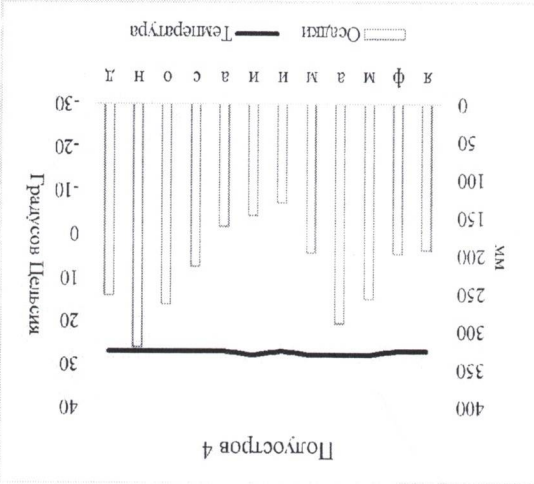
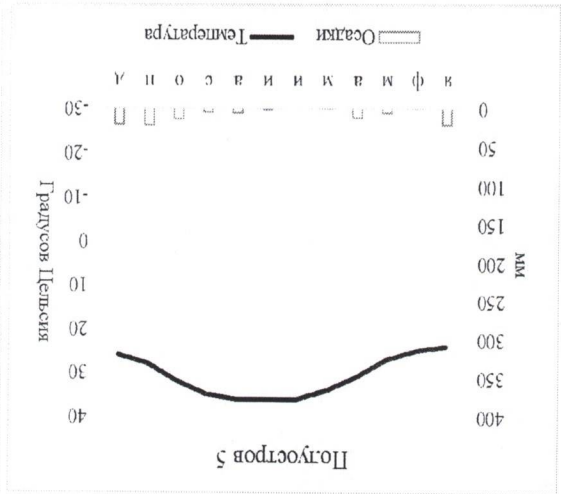
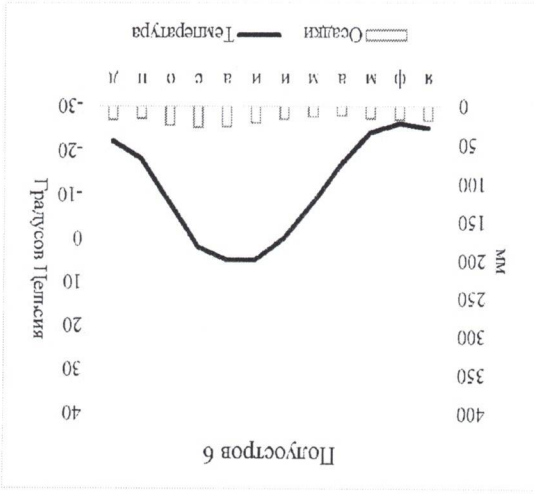
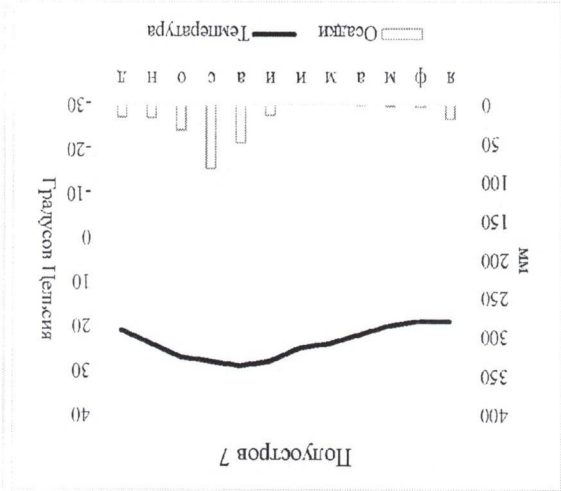
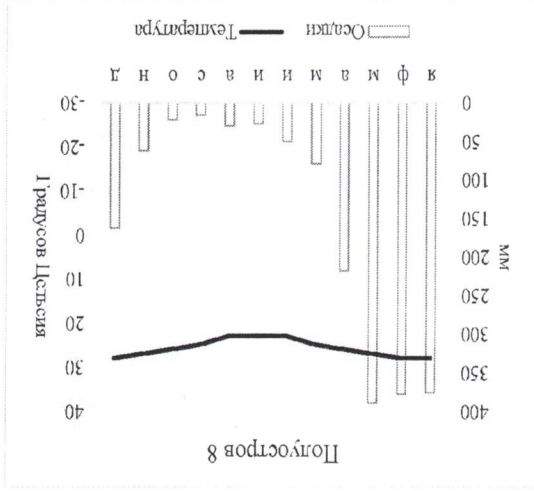
Задание 2

Определите регион России по описанию и ответьте на вопросы.

Этот внутриконтинентальный регион России по праву может гордиться тем, что его центр – старый город, не так давно отметивший свой юбилей, изображён на одной из банкнот российской валюты. Регион известен своими гидрологическими объектами. Региональный центр расположен на берегах самой длинной реки своей части света. На берегу двух озёр региона располагаются города всемирно известного туристического маршрута. Котловины обоих озёр имеют одинаковое происхождение. Одно из озёр славится тем, что именно на его воды была спущена «потешная» учебная флотилия будущего императора Петра I. Регион также омывается водами крупного водохранилища, получившего название от второго по численности населения города региона и на дне которого располагается затопленный город.

Регион славится не только историей и географией, но и своей промышленностью. Одна из основных отраслей специализации региона – крупная подотрасль топливной и химической промышленности. Вторая крупная отрасль региона имеет непосредственное отношение к машиностроению, развивается на базе первой крупной отрасли и «подарила» название футбольной команде из регионального центра. Также на современной территории региона прошло детство известного писателя-сатирика, писавшего в том числе о Бураках и крестьянах своего региона.

Искомый регион	Амурская область
Номинал банкноты, на котором изображён региональный центр	1000 - рублёвая купюра.
Крупнейшее озеро региона	Кумо.
Озеро, на воды которого впервые спустили «потешную» флотилию	Ильинское озеро.
Какое происхождение у котловин этих озёр?	Колыш и колышние котлы.
Самая длинная река своей части света, на которой расположен региональный центр	Волга.
Самый большой город по численности	Якутск.



Ашутлов-
Ф. Саши.

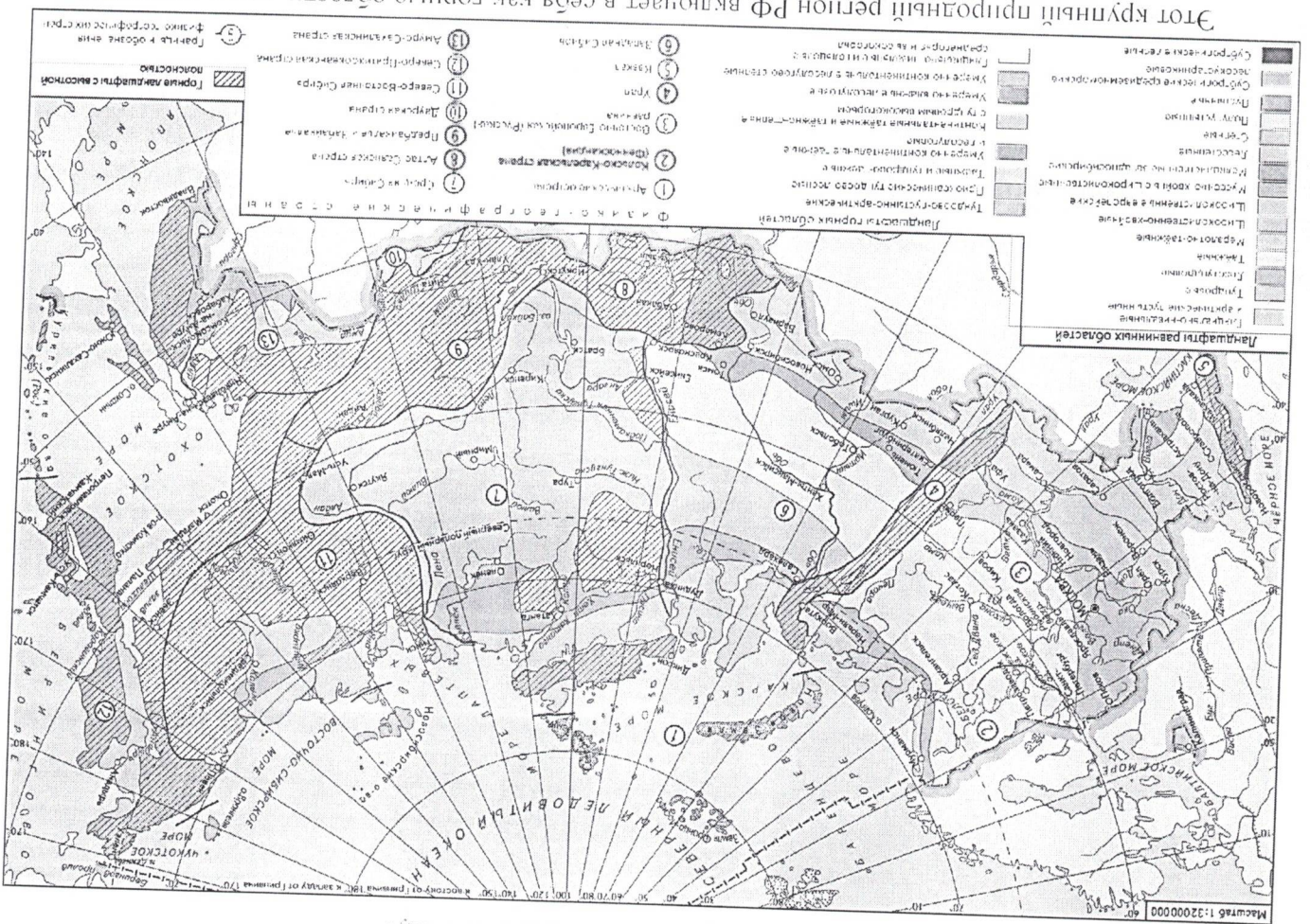
Версоссітская олімпіада школьніков па географіі

8 класс

Теоретический тип

Задание 1

Пользуясь предложенной картой физико-географического районирования России, определите, о какой физико-географической стране идет речь и заполните таблицу.



Этот крупный природный регион РФ включает в себя как горные области, так и относительно обширные равнины (преимущественно низменные). Горные породы, слагающие территорию, имеют морское происхождение и сформировались еще в конце палеозоя и мезозоя. А позднее эти породы были смяты в складчатые тектонические структуры, поэтому возраст складчатости для этой территории. Горные склоны покрывают тяжёлые леса, а на вершинах расположены ледники. В силу суровости природно-климатических условий этот регион (и соседний с запада) иногда именуют «Мёрзлотной Россией» - на большей части территории здесь господствует многолетняя мерзлота. Регион славится богатыми запасами полезных ископаемых, но особенно известность приобрел благодаря россыпным месторождениям этого металла, неорганизованная массовая добыча

- Г) Андезит
- 20. Тейзеры нельзя встретить в:
 - А) США
 - Б) Новой Зеландии
 - В) Белоруссии
 - Г) Кении

+

Следствие зам. гур. по УБП - Макарова З. А. *Девушка*

Члены группы:

1. Ахмедов Ф. А. *Девушка*
2. Зюрова А. Н. - *Девушка*
3. Зюрова М. А. *Девушка*
4. Макарова Г. М. *Девушка*
5. Макарова Н. П. *Девушка*

Александр Александров

Определите	ответы	
1	Природный регион, о котором идет речь в описании	Босфор - Евпаторийский пролив
2	Возраст складчатости	1000 - 1600 млн. лет. Сед. Юж. Кав.
3	Высшую точку природного региона	Монастирская Гора
4	Хребет, в пределах которого расположена высшая точка	Кавказского
5	Металлическое полезное ископаемое, которым славится регион	Мрамор Золото
6	Река, в долине которой расположены основные районы добычи	Колетская
7	Название острова (входит в список объектов Всемирного Природного Наследия ЮНЕСКО)	О. Зангезур
8	Полное холода северного полушария	Южная - 71° С
9	Назовите условную линию на поверхности земного шара, пересекающую этот и соседние природные регионы с запада на восток, к северу от которой бывают полярный день и полярная ночь	Северная полярная линия Круг
10	Природный регион, соседний с запада	Западный Кавказ
11	Крупную форму рельефа, в пределах которой расположена высшая точка (входит в список объектов Всемирного Природного Наследия ЮНЕСКО)	
12	Природный регион, соседний с востока	Д. Восток
13	Эндемичный фактор, определяющий специфику этого природного региона	Занкавказ
14	Моря, о которых идет речь в описании	Черное, Дарданельский, Эгейский
15	Климатический сектор/сектора умеренного климатического пояса, в пределах которого/которых расположена большая часть территории	
16	Высшую точку природного региона	Кавказская гора
17	Объект из списка Всемирного Природного Наследия ЮНЕСКО, в пределах которой	

Учебно-методический материал

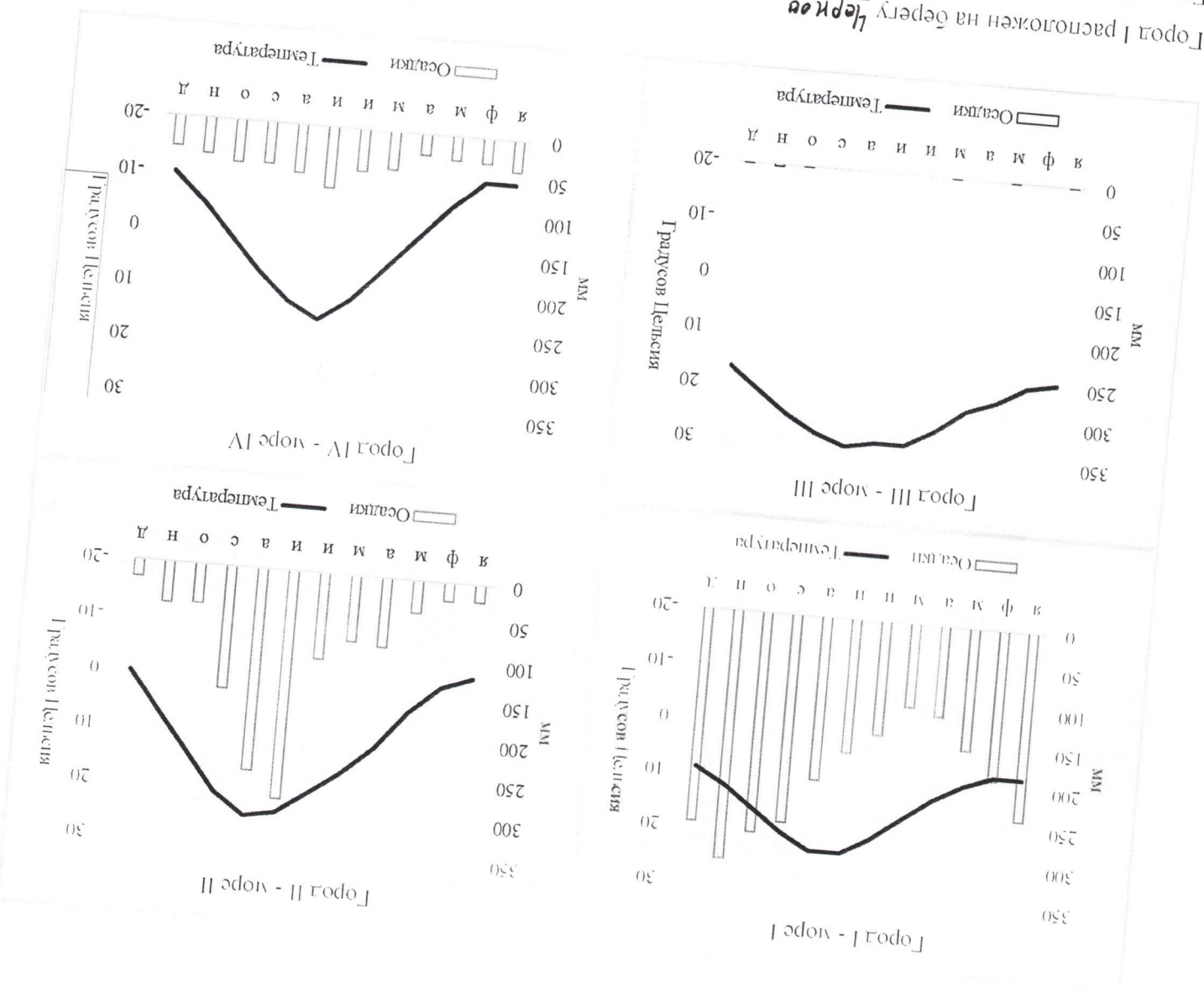
Задание 3

Пользуясь предложенной картой физико-географического районирования России, определите, о какой физико-географической стране идёт речь и заполните таблицу.

Этот крупный природный регион РФ включает в себя как горные области, так и относительно обширные равнины (преимущественно низменные). Горные породы, слагающие территорию, имеют морское происхождение и сформировались еще в конце палеозоя и мезозоя. А позднее эти породы были смяты в складчатые тектонические структуры, поэтому возраст складчатости для этой преимущественно горной области определяют именно так. В горах отчетливо проявляется высотная поясность. Горные склоны покрывают таёжные леса, а на вершинах расположены ледники. В силу суровости природно-климатических условий этот регион (и соседний с запада) иногда именуют «Мерзлотной Россией» - на большей части территории здесь господствует многолетняя мерзлота. Регион славится богатыми залежами полезных ископаемых, но особенно известность приобрел благодаря россыпным месторождениям этого металла, неорганизованная массовая добыча

населения из расположенных на данной реке	
Водохранилище в регионе	Лавинское водохранилище.
Затопленный город на дне водохранилища	Молога
Второй по численности населения город региона, подаривший название водохранилищу	Лавинск.
Всемрно известный туристический маршрут	Курортный маршрут. Золотое кольцо
Все города региона, входящие в этот маршрут	Ярославль, Иванов, Ярославль, Ярославль
Одна из основных отраслей специализации региона - крупная подотрасль топливной и химической промышленности	
Вторая упомянутая в задании отрасль, «подарившая» название футбольной команде	
Писатель-сатирик, чье детство прошло в регионе	Михаил Шолохов.
Ближайшая действующая АЭС к региональному центру	(Ярославль)
Крупнейший регион-сосед по численности населения	Московская область

Уровень качества



- Город I расположен на берегу **Черное** моря
- Город II расположен на берегу **Желтое** моря
- Город III расположен на берегу **Красное** моря
- Город IV расположен на берегу **Белое** моря

Какие из цветных морей обладает наибольшей солёностью? **Красное**

Чем это связано? Укажите три причины **испарения**

Назовите самую длинную из рек, впадающую в море I: **Финикс**

Назовите самую длинную из рек, впадающую в море II: **Хуанхэ**

Какие из цветных морей омывает берега наибольшего числа государств?

Какие из цветных морей омывает берега наименьшего числа государств? **Белое**

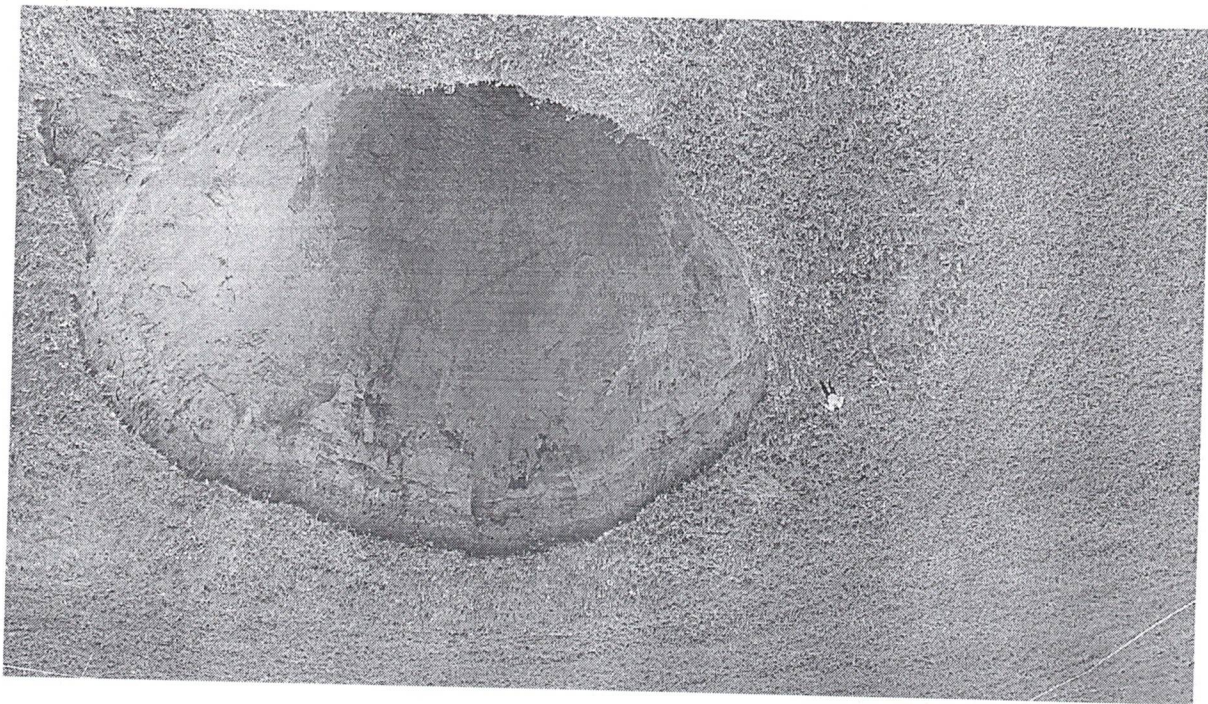
Как называется тип климата, характерный для города II?

Берега какой страны омываются сразу двумя цветными морями? **Россия**

Задание 1

Вам предложены четыре изображения различных форм рельефа, образовавшихся в результате экзогенных процессов. Задача - назвать эти формы рельефа, указать их происхождение и ответить на дополнительные вопросы.

1)



Название формы рельефа: *Бугор*

Происхождение формы рельефа:

В честь какого известнякового плато дано название процесса, повлиявшего на образование данной формы рельефа? В каком государстве оно расположено?

В каком субъекте РФ можно встретить наибольшее количество данных форм рельефа? Почему?
Чуковский, Якутия

Происхождение формы рельефа: Чуковский

Название формы рельефа: холм, овраг

4.



2)


Морская тундра

Какое название носит данная форма рельефа в РФ, обладающая наибольшей высотой? В каком субъекте она расположена?

Происхождение формы рельефа: *in situ*

Название формы рельефа: *горы*

+
35



3)

1)



Название формы рельефа: *Вулкан*

Происхождение формы рельефа:

В честь какого известного плато было дано название процессу, повлиявшего на образование данной формы рельефа? В каком государстве оно расположено?

2)



Название формы рельефа:

Происхождение формы рельефа:

Остров: Магаскакар

Учёный I: Я родился на острове, который является крупнейшим в мире производителем ванили - мой родной остров является единственным домом для уникального семейства обезьян - лемурув. интроедента, без которого нельзя представить современную кондитерскую промышленность. Также


На конференции по новым компьютерным технологиям и защите компьютерных программ собрались учёные из разных стран мира. Восемь из них, выступавших в одной секции, разговорились между собой и выяснили, что все они родились на островах. По рассказу каждого учёного определите, на каком острове кто родился и ответьте на дополнительные вопросы.

Задание 2

Назовите две формы рельефа аналогичного происхождения:

Происхождение формы рельефа:

Название формы рельефа:



4)

Александр Александрович

Учёный 2: Я родилась на единственном острове мира, который разделён сразу между тремя государствами. Мой родной остров - один из крупнейших в мире по площади и перекакается экватором.

Остров: *Kashshakman*

Учёный 3: Я родилась на острове, который разделён между двумя государствами. Символом моего родного острова являются великаны и лепреконы. На моём острове нет змей, по легенде они были известны святым, являющимся покровителем острова.

Остров:

Учёный 4: Я родилась на острове, который является крупнейшим по площади в своей стране. На языке страны-южного соседа мой остров называется Карафутто. Вместе с соседним архипелагом мой родной остров формируют единый субъект федерации - область.

Остров: *Cassini*

Учёный 5: Я родилась на острове, который ранее носил другое название. Мой остров славится выращиванием растения, которое используется для производства всемирно популярного напитка. Он расположен недалеко от берега одной из крупнейших стран мира по численности населения и омывается водами крупнейшего залива в мире.

Остров: *White Lark*

Учёный 6: Я родилась на острове, который является крупнейшим по площади в своём море. Остров славится выращиванием сахарного тростника. К северу от острова располагается государство, которое входит в топ-5 и по численности населения, и по площади, а мой родной язык - испанский.

Остров: *Isola*

Учёный 7: Я родилась на острове, который принадлежит одной из самых популярных стран мира для туристов. Форма полуострова, на котором расположена страна, известна во всём мире. Также на моём острове расположен самый высокий действующий вулкан Европы.

Остров:

Учёный 8: Я родилась на острове, на котором много вулканов и гейзеров, потому что мой остров располагается на стыке литосферных плит. Несмотря на название, среднегодловая температура на моём острове - около +4 - +5 градусов Цельсия.

Остров: *Island*

Wesley Clarke

Ученик 9: Я родился на острове, который отличается от всех остальных родных островов участников конференции уникальным местоположением. Водом, омывающий берега моего острова, является самым глубоким среди аналогичных ему в мире и одним из самых старых. На берегах моего острова можно увидеть уникального толена - нерпу.

Остров:

Ученик 10: Я родился на острове, на котором живут сумчатые. На моём родном острове сейчас весна. Остров получил название в честь известного нидерландского мореплавателя, который изучал континент и острова недалеко от моего родного.

Остров:

Тасмания

- Учёные с каких двух островов родились в одной стране?

- В чём уникальность родного острова учёного 9?

+ Каким напитком славится остров учёного 5? *Кал*

- Какие страны располагаются на острове учёного 3?

- Как раньше назывался остров учёного 2?

- Какой стране принадлежит остров учёного 7?

- На стыке каких литосферных плит располагается остров учёного 8?

+ Какой остров - самый северный? *Неландия*

+ Какой остров - самый южный? *Тасмания*

Жители родных островов учёного 3 и учёного 10 говорят на одном языке, являющемся

+ государственным на этих островах. На каком? *Английском*

Задание 3


Путешественница Аня посетила несколько стран мира: *Австралия, Бангладеш, Индия, Канада, Киргизия, Монголия, Норвегия, Сербия, ЮАР и Япония*. После посещения Аня на память

оставила себе банкноты стран, в которых она была.

Определите, какой стране соответствует привезённая Аней каждая банкнота. Что помогло вам

понять это?





Страна 3 - *Япония*
Что номорно определить? - *+ 25*

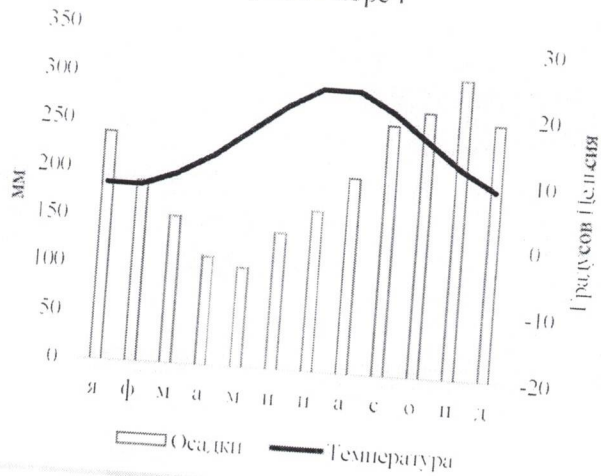


Страна 2 - *США*
Что номорно определить? - *+ 25*

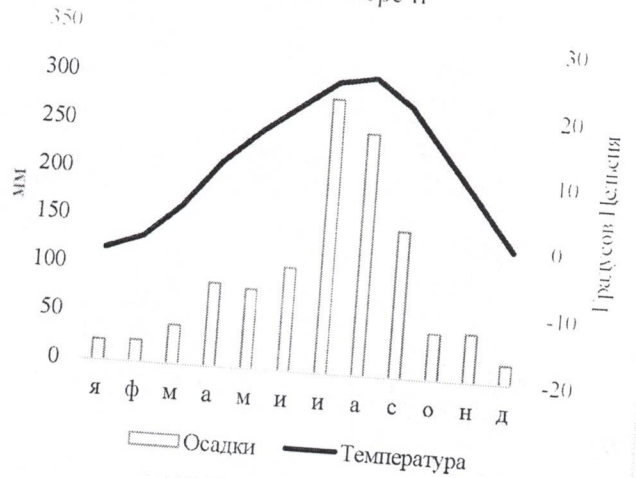


Страна 1 - *ЮАР*
Что номорно определить? - *+ 15*

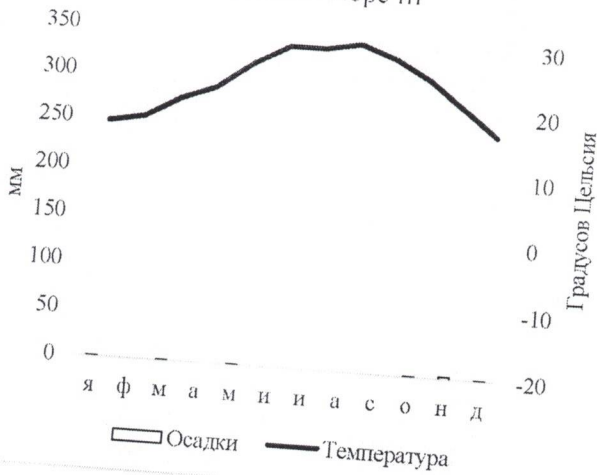
Город I - море I



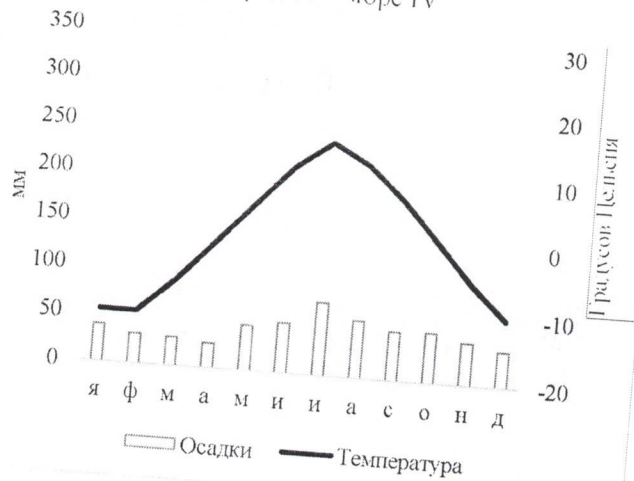
Город II - море II



Город III - море III



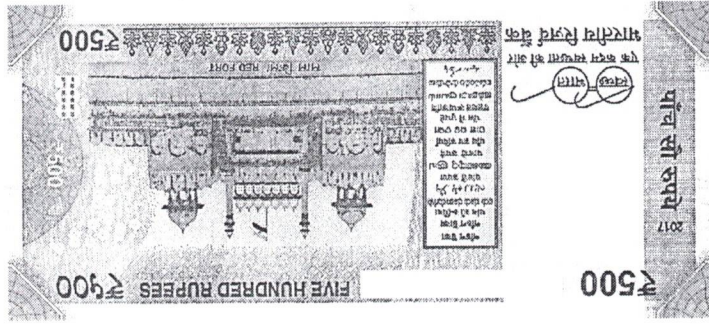
Город IV - море IV



- + Город I расположен на берегу Черное моря
- + Город II расположен на берегу Желтое моря
- + Город III расположен на берегу Красное моря
- + Город IV расположен на берегу Белое моря

- 7 Какое из цветных морей обладает наибольшей солёностью? Красное
- + С чем это связано? Укажите три причины Испарение

- + Назовите самую длинную из рек, впадающую в море I: Амур
- + Назовите самую длинную из рек, впадающую в море II: Хуанхэ
- Назовите самую длинную из рек, впадающую в море IV:
- Какое из цветных морей омывает берега наибольшего числа государств?
- + Какое из цветных морей омывает берега наименьшего числа государств? Белое
- Как называется тип климата, характерный для города II?
- + Берега какой страны омываются сразу двумя цветными морями? Россия




Страна 6 - *Индия* - Что помогло определить?

+1



Страна 5 - *Швеция* - Что помогло определить?

+1.5



Страна 4 - *Россия* - Что помогло определить?

+1.5

Страна 10 - Что помогло определить? - *de Chomouze*

+25




Страна 9 - Что помогло определить? - *de Kungur*

+25



Страна 8 - Что помогло определить? - *de Kungur*

+25



Страна 7 - Что помогло определить? - *de Kungur*

+25

Uweike Muser

Задание 4

Определите страну мира по описанию и ответьте на вопросы.

Эта страна является одной из немногих, расположенных в двух частях света. Большая часть располагается на втором по площади материке, в то время как полуостров, принадлежащий данному государству, располагается на крупнейшем по площади материке.

Территория, на которой располагается страна, заселена с древнейших времен. Люди селились здесь в долине самой длинной, но не самой полноводной реки континента. Самая длинная река континента – главная река страны – образуется от слияния двух рек, одна из которых вытекает из самого большого по площади озера континента. За пределами долины этой великой реки жить достаточно сложно, поскольку большую часть территории страны занимает одна из крупнейших пустынь планеты.

Искомая страна омывается водами двух морей океанов. В одно из морей впадает самая длинная река континента, другое море носит титул самого солёного моря Мирового океана. Моря соединяются каналом, который оказал огромное влияние на мировую торговлю.

Искомое государство граничит с несколькими странами мира. Официальный язык и государственная религия западного соседа – такие же, что и в искомой стране. Южный сосед до 2011 года был самой большой страной континента по площади, однако распался на два государства. Восточный сосед расположен в другой части света.

Одним из важнейших источников дохода искомой страны является туризм. Самым известным туристическим символом государства являются некие сооружения, которые воздвигались как гробницы.

Искомая страна	Египет
Столица искомой страны	Каир
Части света, в которых она расположена	Азия, Африка
Полуостров, который упоминается в задании	Синайский п-ов.
Самая длинная река континента – главная река страны	Нил
Самая полноводная река континента, на котором располагается большая часть искомой страны	Нил
Самое большое по площади озеро континента, на котором располагается большая часть искомой страны	Восточное

2
1
1
1
1
1

Местные климаты

Моря, омывающие берега искомой страны	Каспийское море, Средиземное море
Пустыня, занимающая большую часть территории искомой страны	Каракум
Западный сосед	
Официальный язык искомой страны и западного соседа	Азербайджанский, армянский
Официальная религия искомой страны и западного соседа	Ислам
На какие два государства распался южный сосед?	Турция, Грузия
Самое большое по площади государство континента, на котором располагается большая часть искомой страны	Турция
Восточный сосед	Израиль

1
1
1
1
1
2
1
2

1. Для какого из этих населенных пунктов характерен максимум осадков в августе?

- A) Волгоград
- B) Охотск
- B) Ялта
- Г) Дербент

Тестовый тип

2. В какой из стран можно застать полярный день и полярную ночь?

- А) Эстония
- Б) Финляндия
- В) Ирландия
- Г) Белоруссия

3. Выберите верное утверждение про самый большой регион России по площади:

- А) Омывается водами двух океанов
- Б) Граничит по суше с другим государством
- В) Расположен в трёх часовых поясах
- Г) Не имеет на своей территории гор выше 2000 м

4. Какая из этих крайних точек частей света севернее:

- А) Крайняя северная точка Австралии
- Б) Крайняя восточная точка Южной Америки
- В) Крайняя западная точка Африки
- Г) Крайняя южная точка Евразии

5. На высоте примерно от 10 до 50 км над уровнем моря располагается:

- А) Тропосфера
- Б) Стратосфера
- В) Мезосфера
- Г) Термосфера

6. Процесс оподзоливания изучает:

- А) океанология
- Б) глицинология
- В) почвоведение
- Г) лимнология

7. Линии, соединяющие точки с одинаковым значением атмосферного давления, называются:

- А) изоэрами
- Б) изобарами
- В) изобазами
- Г) изохронами

8. Влажные экваториальные леса нельзя встретить на территории:

- A) Малайзии
- B) Перу
- C) Филиппин
- D) Узбекистана

9. В Атлантический океан не впадает река:

- A) Неман
- B) Нил
- C) Индигирка
- D) Оранжевая

10. Дэвид Ливингстон занимался изучением:

- A) Африки
- B) Австралии
- C) Северной Америки
- D) Южной Америки

11. Ближайшая к Солнцу точка орбиты Земли называется:

- A) Афелий
- B) Перигелий
- C) Сизигий
- D) Терминатор

12. Максимальная среднегодовая амплитуда температуры будет отмечаться в:

- A) Сингапуре
- B) Осло
- C) Улан-Баторе
- D) Париже

13. Два океана соединяет пролив:

- A) Дрейка
- B) Дарданеллы
- C) Скагеррак
- D) Ла-Манш

14. Самый длинный световой день в году в Московской области отмечается в:

A) мае

B) июне

B) июле

Г) августе

15. Купец Афанасий Никитин отправился в путь из:

A) Москвы

B) Ярославля

B) Твери

Г) Костромы

16. Ветра, которые дуют в Северном полушарии круглый год между тропиками с северо-востока, называются:

A) Пассаты

B) Муссоны

B) Бризы

Г) Бора

17. Обитатели морского дна Мирового океана называются

A) зоопланктоном

B) фитопланктоном

B) нектоном

Г) бентосом

18. Какое из этих озёр глыбке:

A) Ладожское

B) Турон

B) Танганьика

Г) Балхаш

19. Оловянная руда называется:

A) Пирит

B) Касситерит

B) Халькопирит

Васильева Анастасия

Всероссийская олимпиада школьников по географии

10 класс


Теоретический тур

Задание 1


Добыча полезных ископаемых – одна из важнейших отраслей промышленности России. Особую роль в экономике нашей страны занимает добыча нефти и природного газа. Перед вами таблица регионов-лидеров по добыче нефти и газа в России в 2019 году. Для нефти также указаны значения по уровню добычи в 1990 году. Определите регионы А-Е, укажите их названия и соотнесите с гербами.

Нефть	Добыча в 1990 г., млн. тонн		Газ	Добыча в 2019 г., млн. тонн	Добыча в 2019, млрд. куб м
	2019 г.	1990 г.			
Регион Б	306	236	Регион А	603	
Регион В	35	37	Регион Б	35	
Регион А	59	36	Регион Д	32	
Регион Г	0	24	Регион Е	16	
Регион Е	10	21	Регион Ж	12	
Регион Д	2	20	Регион Г	8	
Башкирия	25	19	Томская область	6	
Самарская область	15	16	Коми	4	
Пермский край	12	16	Регион В	1	
Ненецкий АО	1	16	Самарская область	1	
Коми	15	15	Тюменская область	0,4	
Удмуртия	11	11	Пермский край	0,2	
Регион Е	0	11			
Томская область	10	9			


Волонтеры АК.




Репб 1




Репб 2




Репб 3




Репб 4



Репб 5



Репб 6



Репб 7

- Репб А - Чувашско-Керейский
- Репб Б - Татарстан
- Репб Г - Карачаевский край
- Репб Д - Карачаевская область
- Репб Е - Ингушская область
- Репб Е - Адыгейская

- Репб - 6 25
- Репб - 3 25
- Репб - 1 1
- Репб - 1 1
- Репб - 1 1
- Репб - 1 1
- Репб - 1 25

Укажите общие тренды и тенденции в географии нефтедобычи регионов России с 1990 по 2019 г. Укажите общие тренды и тенденции в географии нефтедобычи регионов России с 1990 по 2019 г.

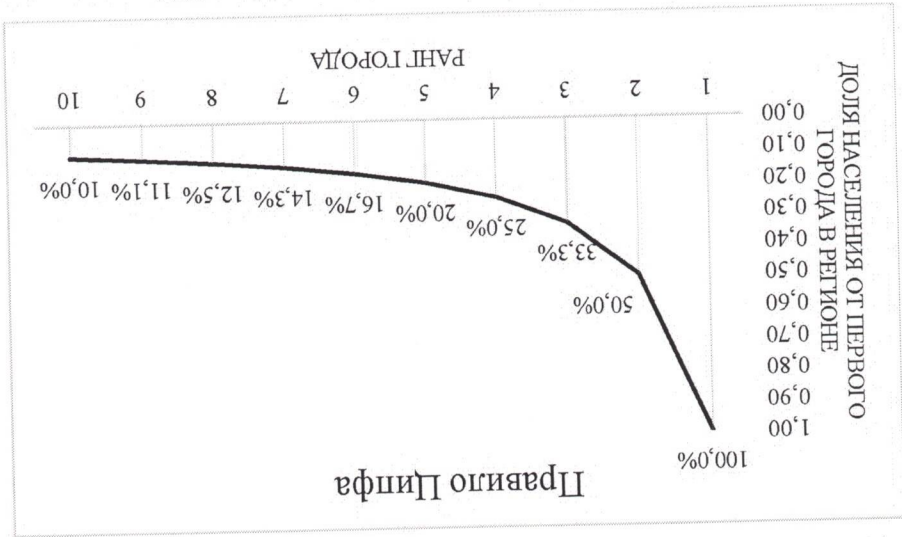
Объясните причины снижения добычи нефти в регионах А, Б, Самарской области, Башкирии. Укажите общие тренды и тенденции в географии нефтедобычи регионов России с 1990 по 2019 г.

Борисова М.

Объясните причины роста добычи нефти в регионах В, Д, Е, Е, Ненецком АО
Самозовка месторождения в шельфе федерального моря и
Омского моря

Задание 2

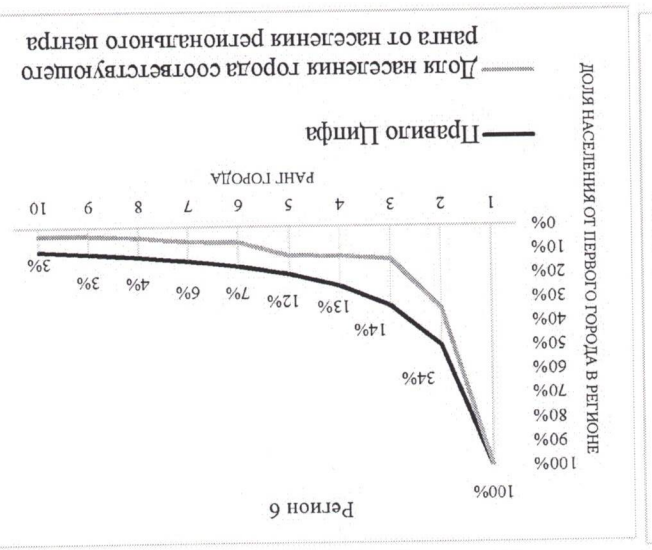
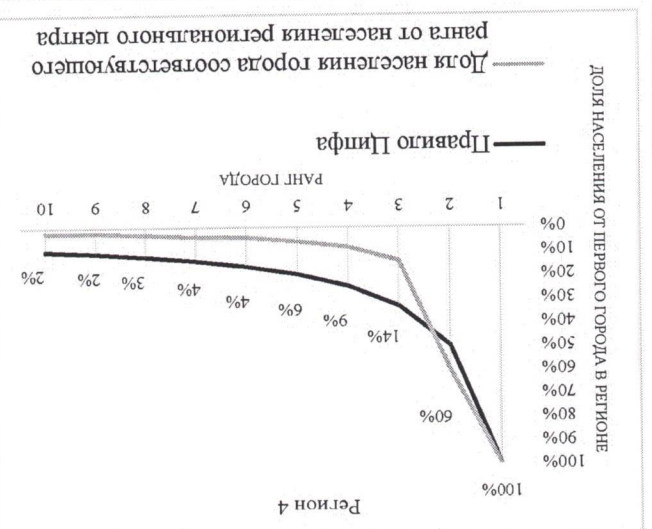
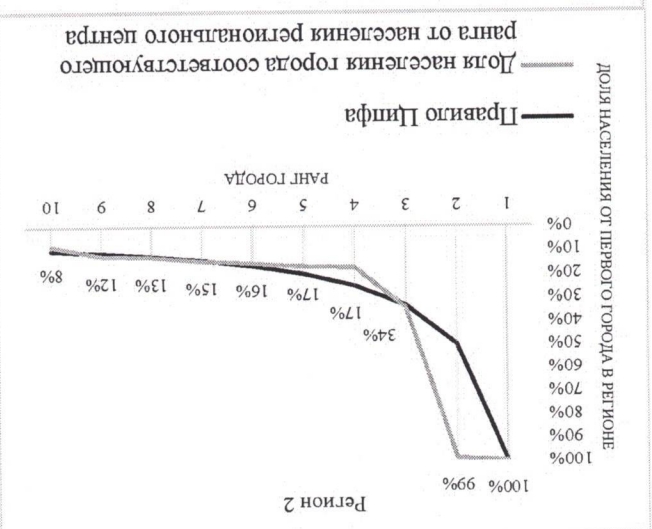
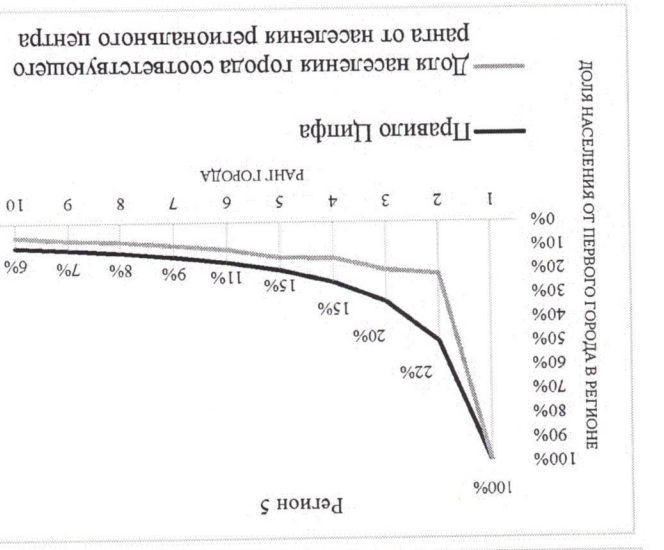
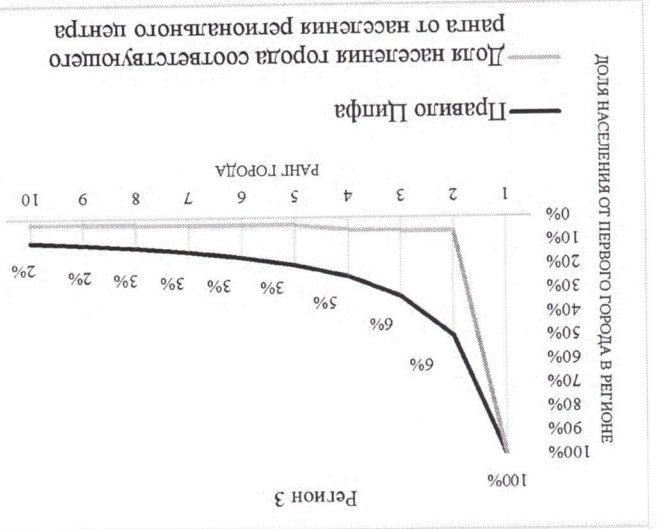
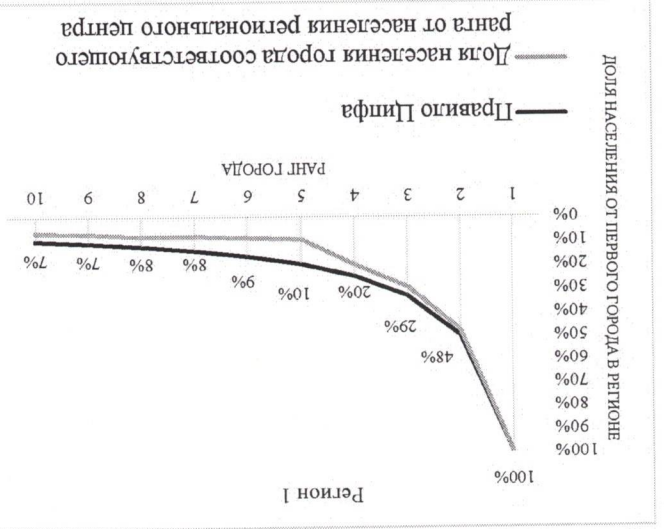
Правило Ципфа (оно же закон Ауэрбаха, оно же правило «ранг-размер») – закон, показывающий распределение численности населения городов в зависимости от их ранга в стране или регионе. Оно рассчитывается по формуле $P_n = P_1/n$, где P_1 – численность населения первого города в регионе, n – ранг города. Идеальное распределение городов в стране или регионе по правилу Ципфа выглядит следующим образом:



То есть численность населения второго города составляет 50% от численности населения первого города, третьего – 33,3% от первого и т.д.

Росстат

Пользуясь полученной информацией и знаниями, определите, каким из представленных регионов – Челябинской области, Воронежской области, Краснодарскому краю, Кемеровской области, Ростовской области и Самарской области – соответствуют графики распределения городов по доле от численности населения крупнейшего города в регионе. Для каждого из регионов укажите крупнейший и второй по численности населения город.



Всего 10 баллов

Период 1	Крупнейший город	Красноярск	Второй город
Период 2	Крупнейший город	Кашубо	Второй город
Период 3	Крупнейший город	Вюртем	Второй город
Период 4	Крупнейший город	Сакса	Второй город
Период 5	Крупнейший город	Ромо 6	Второй город
Период 6	Крупнейший город	Чарльвик	Второй город

Назовите три любых региона России, в которых региональный центр не является крупнейшим по численности населения. *ХМАО, Якутия*

В некоторых регионах России первый город по численности населения слишком опережает остальные, либо в редких случаях напротив, слишком малонаселён. Укажите, с какими причинами может быть связано заметное превосходство или напротив, недостаточная людность регионального центра.

Задание 3

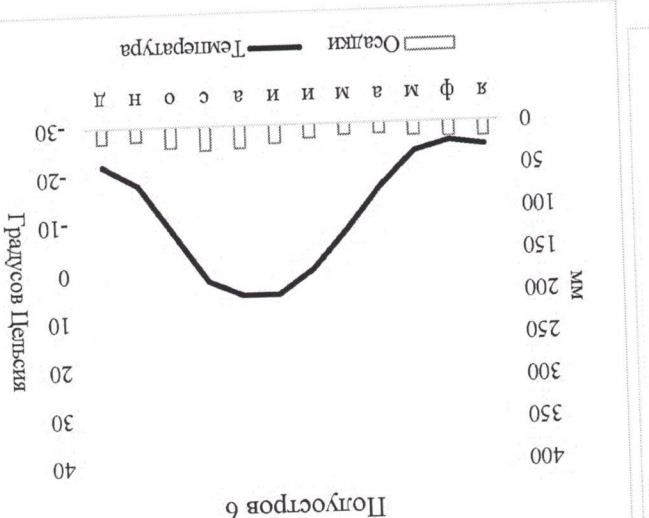
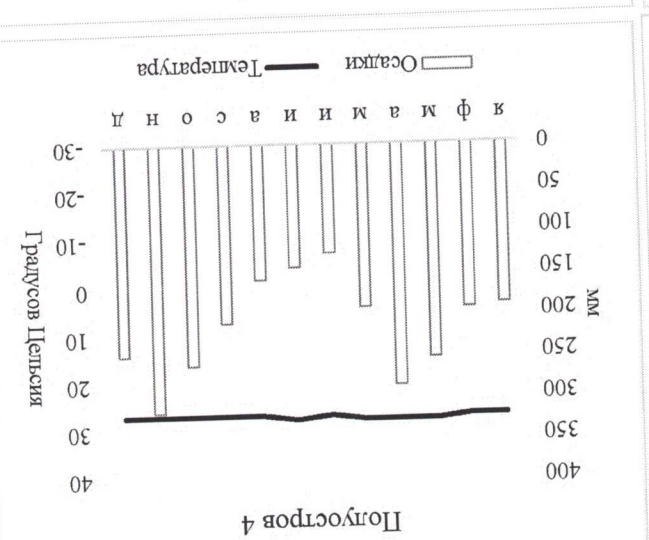
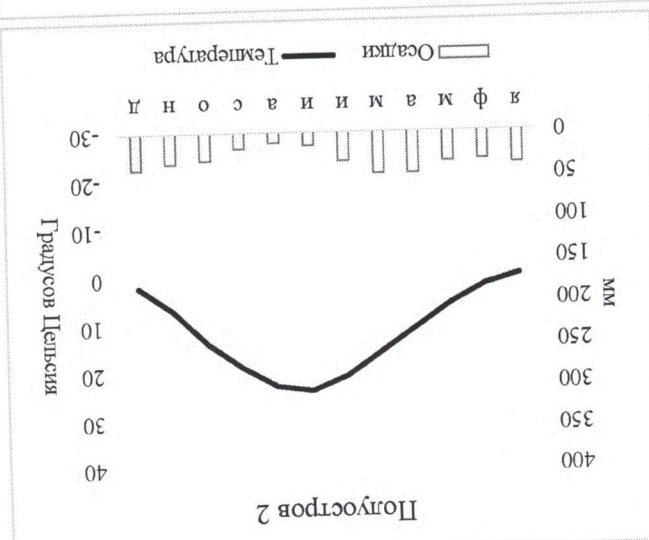
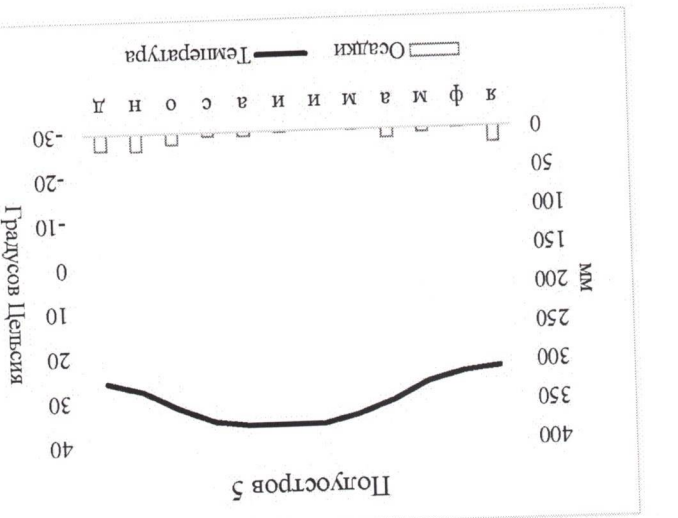
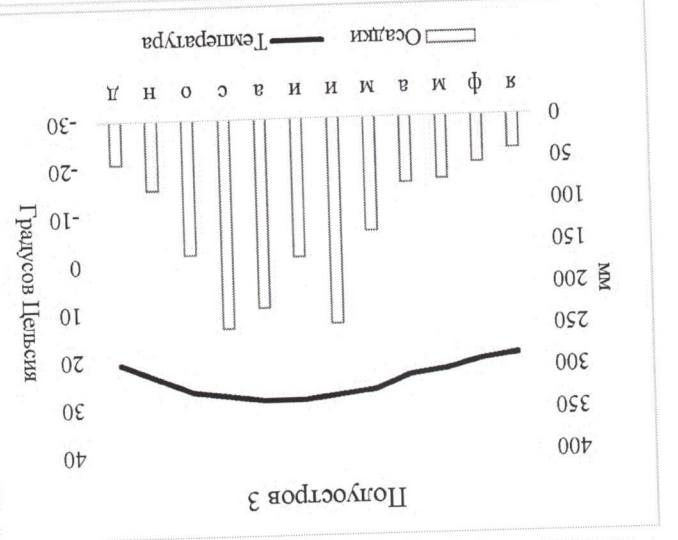
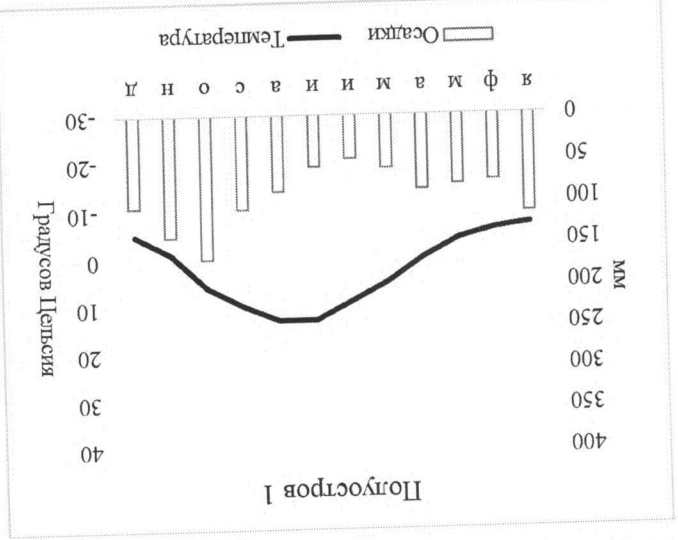
Перед вами климатограммы некоторых населённых пунктов мира, расположенных на крупных полуостровах. Определите полуострова, опираясь на подказки и соотносите их с соответствующей климатограммой. Все термины и слова в одной подказке относятся к одному полуострову. Порядок подказок не обязательно соответствует порядку климатограмм (подказка 1 не обязательно относится к климатограмме полуострова 1).

Подказка 1 – Кра, мангры, Лиай, Джохор, Тивангса

Подказка 2 – Сонора, холодное течение, Сан-Лукас, штаты, море Кортеза

Зачислена М.

- Подказка III – Эвертлейдс, Канаверал, мантры, Окиоби, алитаторы
- Подказка IV – Йорк, мантры, крокодилы, Карпентария, бокситы
- Подказка V – Гейзеры, каменная берёза, база флота, вулканы, Атласов
- Подказка VI – Кунтасалах, Хатанга, Мидлендорф, Диксон, Челюскин
- Подказка VII – Памуккалае, Туз, Ван, Смирна, Тавр
- Подказка VIII – Руб-эль-Хали, вадн, эмир, куэсты, Медина



Почему в истории возникли X и Y?

Что означает Y?

Что означает X? *flinklag*

морю, называют полу X.

Y - часть территории суверенного государства, отделенная от основной её части территорией другого государства или нескольких государств и не имеющая выхода к морю. Y, имеющий выход к

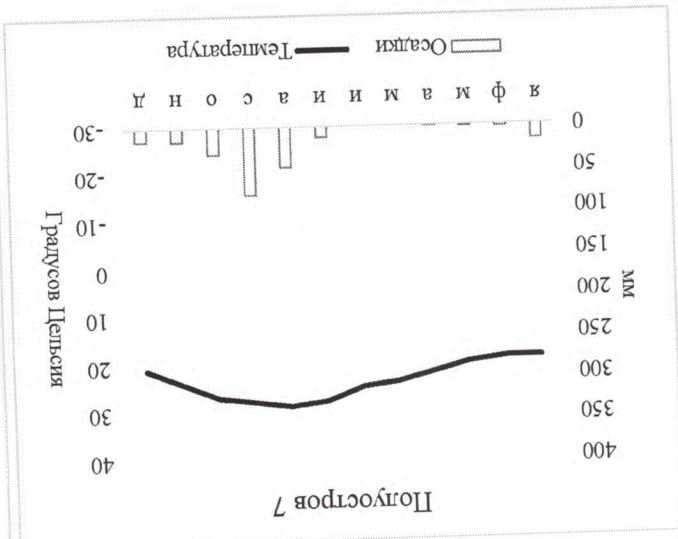
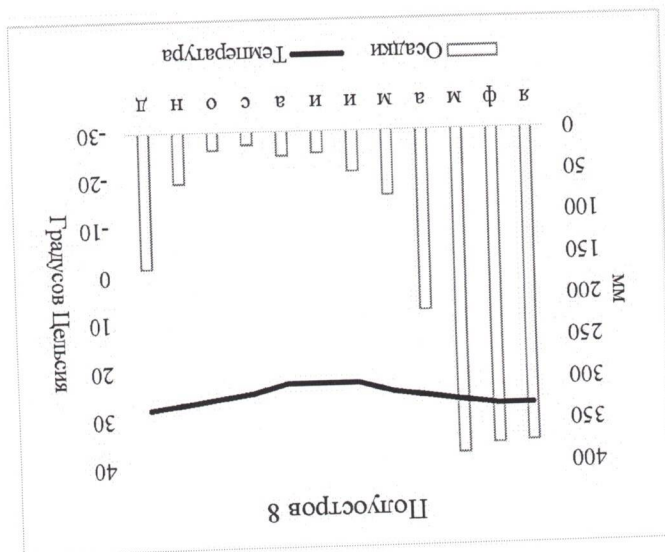
суверенного государства и не имеющий выхода к морю. X, имеющий выход к морю, называют

X называют территорией суверенного государства либо её часть, окруженную территорией другого

Эти понятия достаточно часть путаются.

Задание 4

- Полуостров 1 - *Камчатка* 2,5
- Полуостров 2 - *Малаккский Арабский* 2,5
- Полуостров 3 - *Сонора* 2,5
- Полуостров 4 - *Мексика* 2,5
- Полуостров 5 - *Апеннинский* 2,5
- Полуостров 6 - *Иберийский* 2,5
- Полуостров 7 - *Калифорния* 2,5
- Полуостров 8 - *Калифорния* 2,5



Барометр 11.

Ворожцова М.

Определите по описанию, о каких X и Y идёт речь.

I: конституционная монархия, вся территория страны расположена выше 1 км над уровнем моря.

Один из официальных языков – сесото.

Ответ: Лесото

II: самый западный регион своей страны, имеет выход к морю. На её территории располагается около 90% всех мировых запасов полезного ископаемого, которое на древнегреческом называется «электрон».

Калифорнская обласия (штат) / Калифорния

Ответ:

III: самый большой по площади регион своей страны. До 1867 года была частью другого государства.

Ответ: Аляска

IV: регион торкоязычного государства, берега которого с востока омываются водами крупнейшего по площади озера мира.

Азкванджан

V: регион крупной африканской страны – бывшей колонии государства VI. Является крупным нефтедобывающим регионом.

VI: название страны происходит от города, расположенного на его севере. На языке этой страны сейчас также говорят другое государство, на территории которого располагается устье самой

Джунгария

VII: самое старое государство Европы, республика. Официальный язык совпадает с единственными официальными языком страны, которая полностью окружает территорию искомого государства.

Звонова М.

Тестовый тип

1. Первым городом, получившим статус наукограда, является:

- А) Обнинск
- Б) Бийск
- В) Рязань
- Г) Дубна

2. Самая мощная ТЭС и ГЭС в России расположены соответственно в:

- А) Центральном и Уральском федеральном округе
- Б) Южном и Приволжском федеральном округе
- В) Северо-Западном и Сибирском федеральном округе
- Г) Уральском и Сибирском федеральном округе

3. Выберите верное соответствие современное название города - прежнее название города:

- А) Рыбинск - Щербаков
- Б) Йошкар-Ола - Белокаменск
- В) Пермь - Чкалов
- Г) Тверь - Щелков

4. Какое из перечисленных государств не входит в ОПЕК?

- А) Катар
- Б) Ливия
- В) Табон
- Г) Венесуэла

5. Определите точное поясное время в пункте, расположенном восточнее Лондона на 15 градусов, если в столице Великобритании 8:00.

- А) 11:00
- Б) 7:00
- В) 9:00
- Г) 10:00

6. Кем впервые была сформулирована теория дрейфа материков?

- А) Альфредом Вегенером

Земельная л.

- Б) Франсисом Баконом
- В) Франко Плаке
- Г) Теодором Лилиенталем

7. Какая из перечисленных горных систем обладает наивысшей точкой?

- А) Куньлунь
- Б) Тянь-Шань
- В) Каракорум
- Г) Памир

8. Какое из озер имеет тектоническое происхождение?

- А) Сегозеро
- Б) Инаривья
- В) Урмия
- Г) Сайма

9. Какой из данных городов никогда не был столицей Норвегии?

- А) Берген
- Б) Тронхейм
- В) Копенгаген
- Г) Ослунн

10. Пермский геологический период относится к:

- А) Мезозойской эре
- Б) Кайнозойской эре
- В) Протерозойской эре
- Г) Палеозойской эре

11. Мощность океанической коры составляет примерно:

- А) 5-15 км

Б) 1-5 км

В) 20-35 км

Г) 40-60 км

12. Самый распространённый ртутный минерал - это:

А) Халькопирит

Б) Киноварь

Зораншова М.

13. Краснозобая казарка обитает:

- А) На Камчатском полуострове
- Б) На Чукотском полуострове
- В) На Таймыре
- Г) На Кольском полуострове

14. В каком субъекте расположен Хопёрский заповедник?

- А) Саратовская область
- Б) Воронежская область
- В) Самарская область
- Г) Пензенская область

15. Евро не является валютой:

- А) Хорватии
- Б) Словении
- В) Словакии
- Г) Литвы

16. Наиболее загруженным в Африке по пассажирообороту является аэропорт:

- А) Каира
- Б) Аддис-Абебы
- В) Кейптауна
- Г) Йоханнесбурга

17. Один и тот же язык имеет официальный статус на:

- А) Аландских островах и Шпицбергене
- Б) Азорских островах и островах Зелёного Мыса
- В) Канарских островах и Коморских островах
- Г) Фарерских островах и Валлеарских островах

18. Первый метрополитен на территории современной континентальной части Евросоюза появился в:

- А) Берлине
- Б) Мадриде
- В) Будапеште

Задание 1

Добыча полезных ископаемых – одна из важнейших отраслей промышленности России.

Особую роль в экономике нашей страны занимает добыча нефти и природного газа.

Перед вами таблица регионов-лидеров по добыче нефти и газа в России в 2019 году. Для

нефти также указаны значения по уровню добычи в 1990 году. Определите регионы А-Е, укажите их

названия и соотнесите с гербами.







Нефть	Добыча в 1990 г., млн. тонн	Добыча в 2019 г., млн. тонн	Газ	Добыча в 2019, млрд. куб м	Регион Б	
					306	236
Регион В	35	37	Регион В	35		
Регион А	59	36	Регион Д	32		
Регион Г	0	24	Регион Е	16		
Регион Е	10	21	Регион Е	12		
Регион Д	2	20	Регион Г	8		
Башкирия	25	19	Томская область	6		
Самарская область	15	16	Коми	4		
Пермский край	12	16	Регион В	1		
Иркутский АО	1	16	Самарская область	1		
Коми	15	15	Тюменская область	0,4		
Удмуртия	11	11	Пермский край	0,2		
Регион Е	0	11				
Томская область	10	9				

Объясните причины снижения добычи нефти в регионах А, Б, Самарской области, Башкирии

Укажите общие тренды и тенденции в географии нефтедобычи регионов России с 1990 по 2019 г. *Увеличение добычи на Дальнем Востоке и Севере*

- Регион А -
- Регион Б -
- Регион В -
- Регион Г -
- Регион Д -
- Регион Е -
- Регион Е -

- Регион А - 15
- Регион Б - 15
- Регион В - 25
- Регион Г - 15
- Регион Д - 25
- Регион Е - 15
- Регион Е - 25
- Регион Е - 15



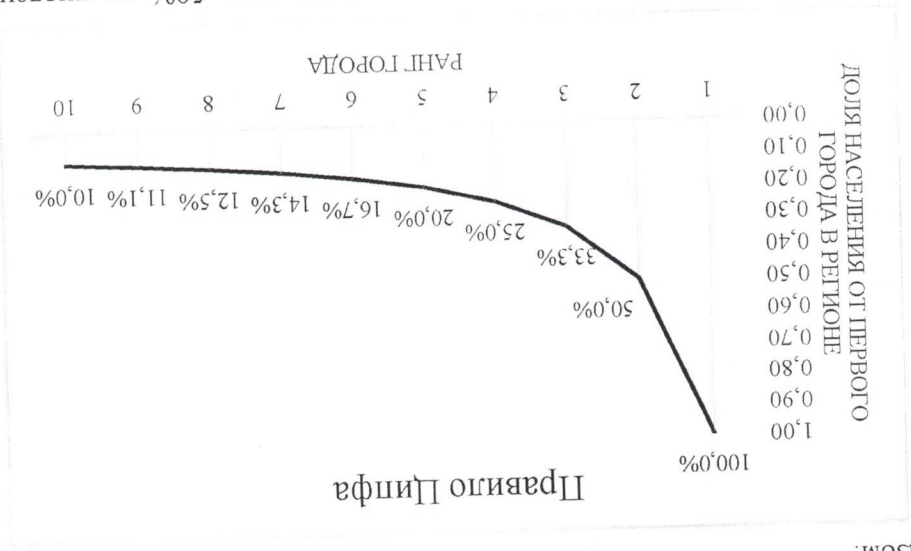
Республика Ингушетия

Объясните причины роста добычи нефти в регионах В, Д, Е, Е, Ненецком АО

Ненцевские месторождения в основном открыты, открыты новые месторождения на севере, увеличивается добыча месторождений запад и север Агши.

Задание 2

Правило Ципфа (оно же закон Ауэрбаха, оно же правило «ранг-размер») – закон, показывающий распределение численности населения городов в зависимости от их ранга в стране или регионе. Оно рассчитывается по формуле $P_n = P_1/n$, где P_1 – численность населения первого города в регионе, n – ранг города. Идеальное распределение городов в стране или регионе по правилу Ципфа выглядит следующим образом:



То есть численность населения второго города составляет 50% от численности населения первого города, третьего – 33,3% от первого и т.д.

Воснована М.

Г) Вене

19. Объект наследия ЮНЕСКО Геологическая дуга Струве не располагается на территории:

- А) Швеции
- Б) Эстонии
- В) Молдавии
- Г) Румынии

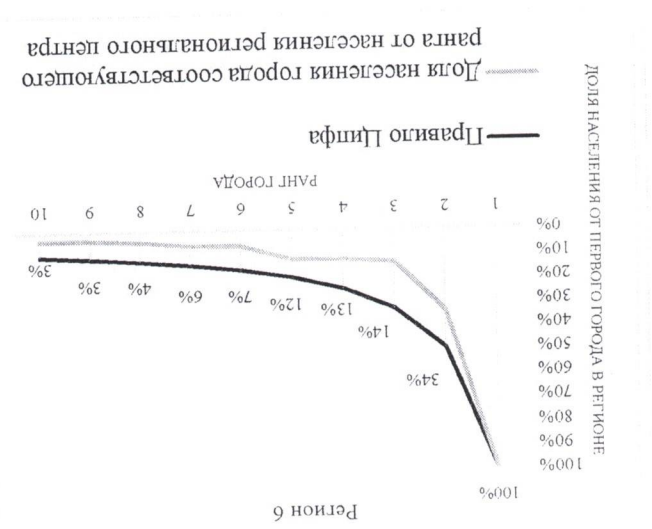
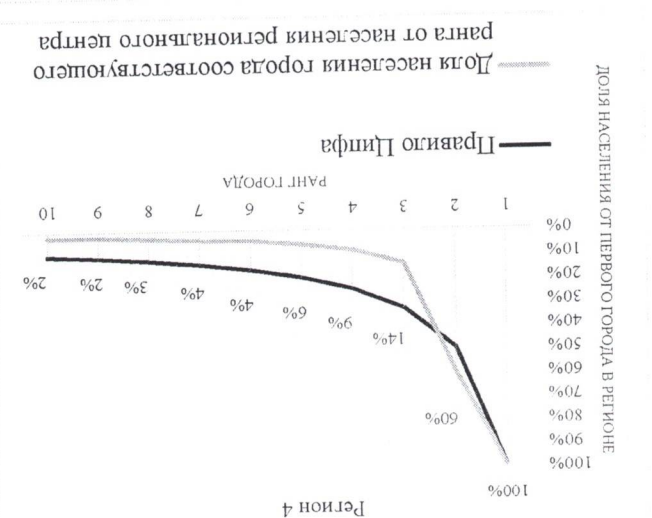

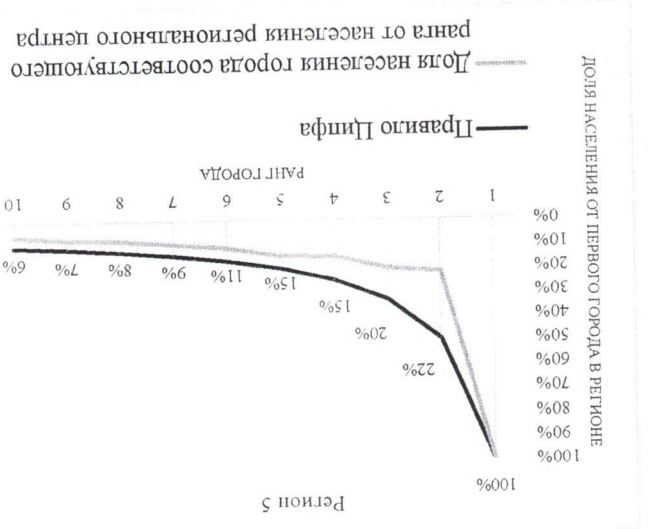
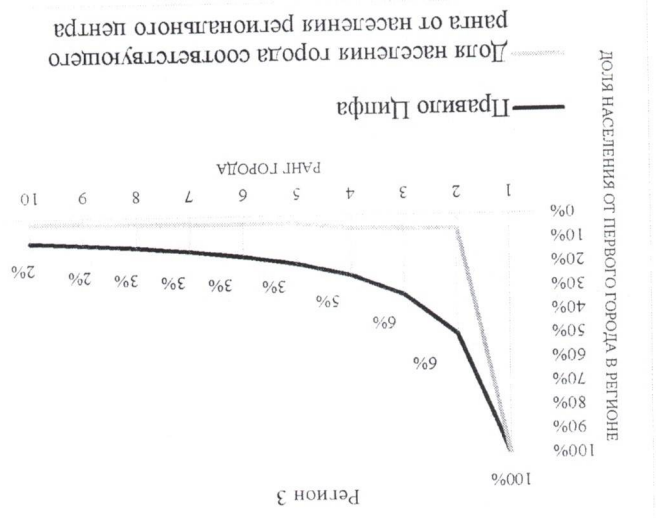
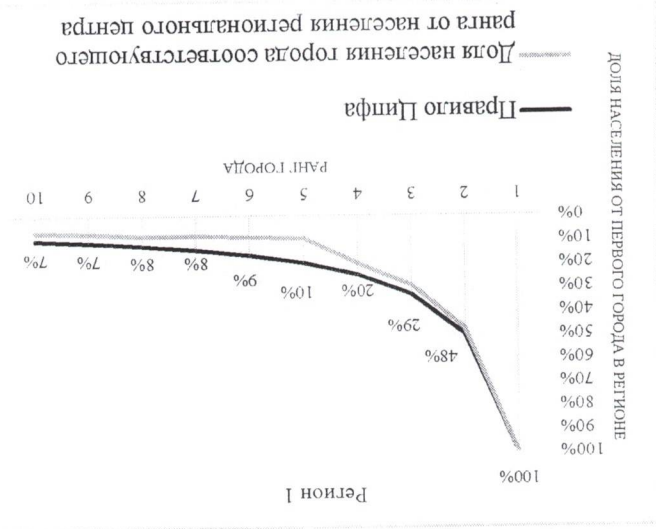
20. Какой из нижеперечисленных городов никогда не был региональным центром?

- А) Великие Луки
- Б) Арамас
- В) Магнитогорск
- Г) Балашов

Иркутская обл. по 439 Каркоба 3.А
Президент

- Иркутские президенты:
- 1. Александр В. А. Дуг
 - 2. Ермошка Н. С. - 21
 - 3. Зюкова М. А. - 2007
 - 4. Кучава Г. М. - 2007
 - 5. Ахобова Л. К. - 2017

Ползвурь получеиной информацией и знаниями, определите, какии из представленных регионов – Челябинской области, Воронежской области, Краснодарскому краю, Кемеровской области, Ростовской области и Самарской области – соответствуют графики распределения городов по доле от численности населения крупнейшего города в регионе. Для каждого из регионов укажите крупнейший и второй по численности населения город.



2,5	Второй город	Крупнейший город	Краснодарский край
2,5	Второй город	Крупнейший город	Кемеровская область
2,5	Второй город	Крупнейший город	Воронежская область
2,5	Второй город	Крупнейший город	Калужская область
2,5	Второй город	Крупнейший город	Рязанская область
2,5	Второй город	Крупнейший город	Республика Татарстан
2,5	Второй город	Крупнейший город	Чувашская область

Назовите три любых региона России, в которых региональный центр не является крупнейшим по численности населения.

В некоторых регионах России первый город по численности населения слишком опережает остальные, либо в редких случаях напротив, слишком малонаселён. Укажите, с какими причинами может быть связано заметное превосходство или напротив, недостаточная людность регионального центра.

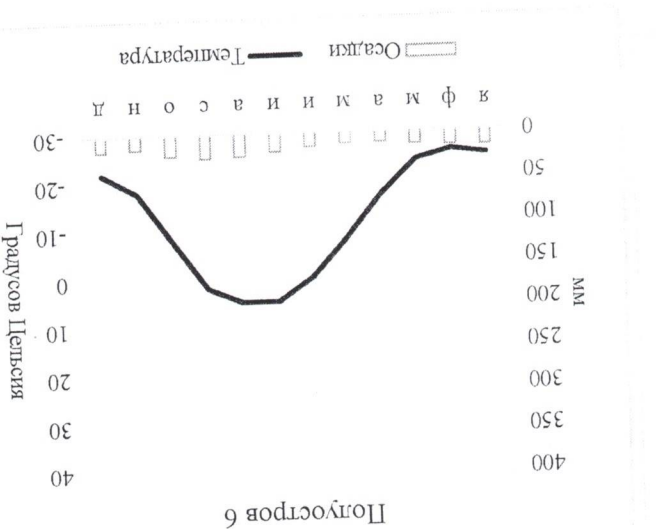
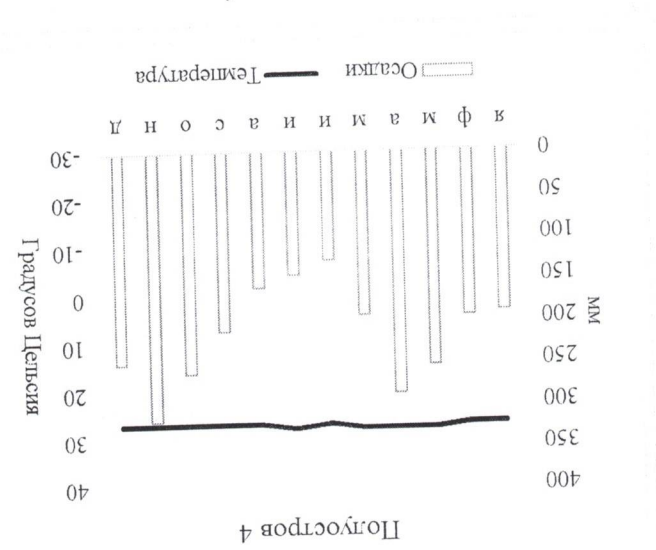
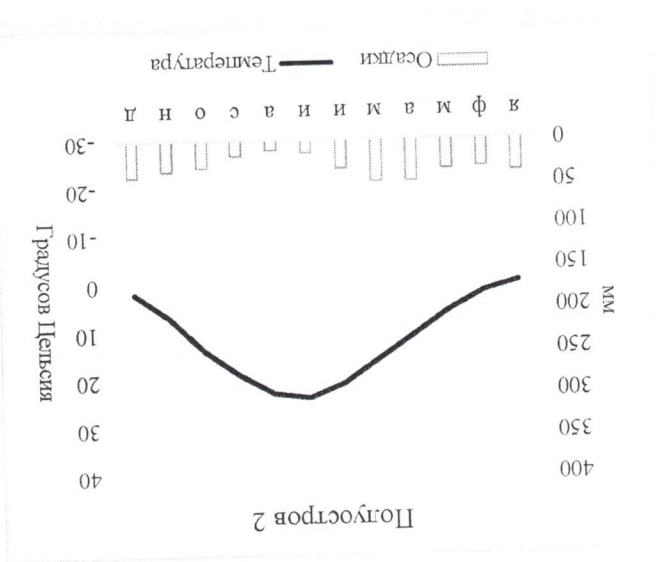
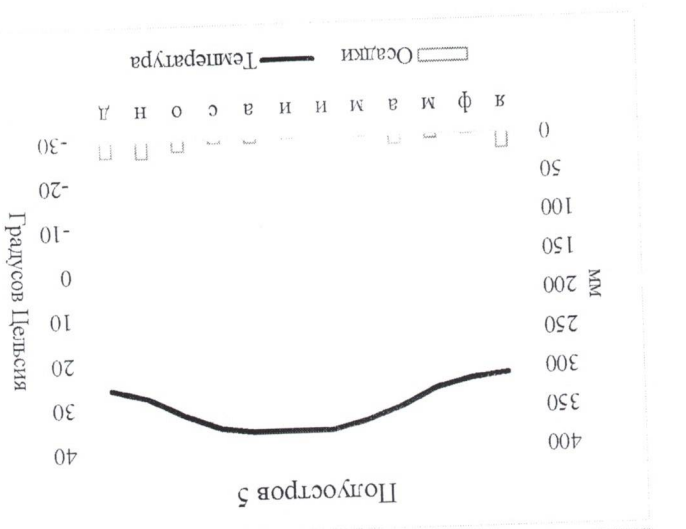
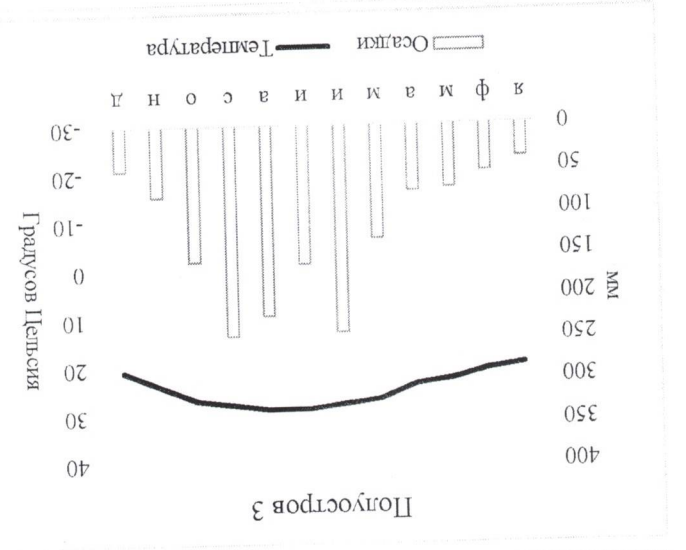
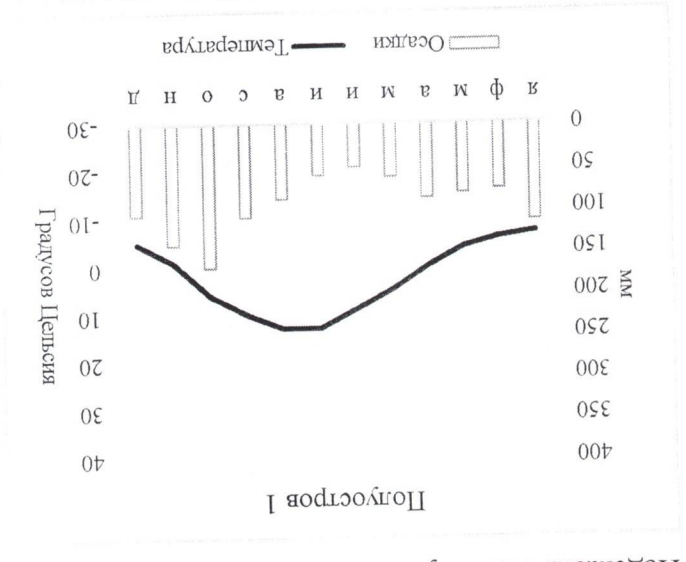
Задание 3

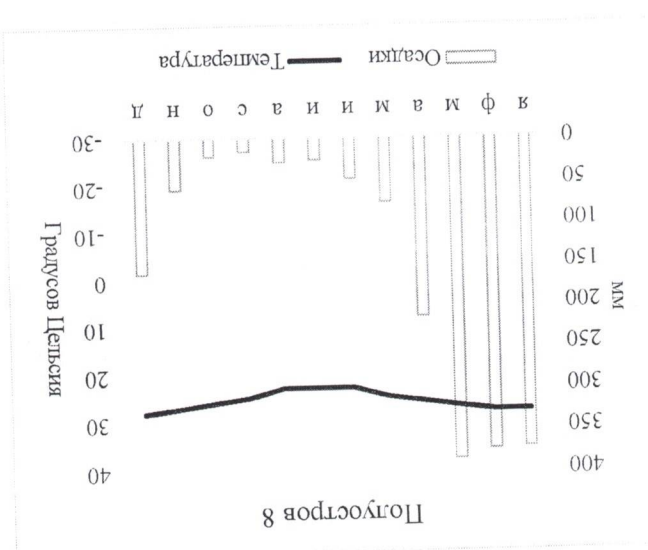
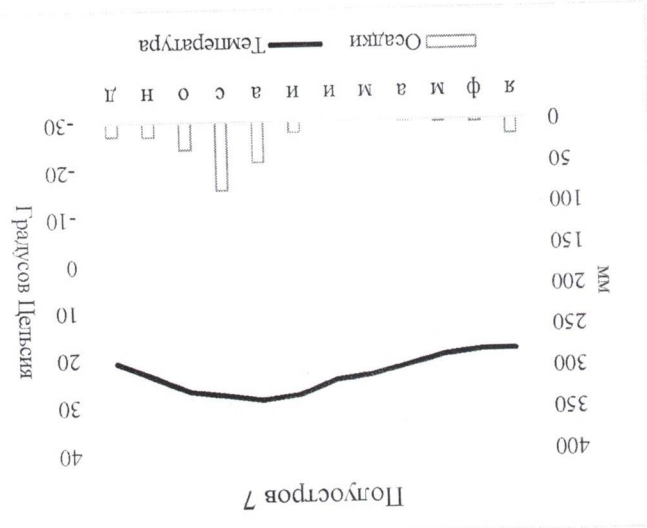
Перед вами климатограммы некоторых населённых пунктов мира, расположенных на крупных полуостровах. Определите полуострова, опираясь на подказки и соотнесите их с соответствующей климатограммой. Все термины и слова в одной подказке относятся к одному полуострову. Порядок подказок не обязательно соответствует порядку климатограмм (подказка I не обязательно относится к климатограмме полуострова I).

Подказка I – Кра, мантры, Пинай, Джохор, Тивангса

Подказка II – Сонора, холодное течение, Сан-Лукас, штаты, море Кортеса

- Подказка III – Эвертейлдс, Канаверал, мантры, Окичоби, аллигаторы
- Подказка IV – Йорк, мантры, крокодилы, Карпентария, бокситы
- Подказка V – Гейзеры, каменная берёза, база флота, вулканы, Атласов
- Подказка VI – Кунгасалах, Хатанга, Мидлендорф, Ликсон, Челюскин
- Подказка VII – Ламуккале, Туз, Ван, Смирна, Тавр
- Подказка VIII – Руб-эль-Хали, вадн, эмир, куэсты, Медина





- Poluostrov 1 - Карибская 2,5
- Poluostrov 2 - Пуэрто-Рико -
- Poluostrov 3 - Малая Антиль -
- Poluostrov 4 - Мартиника 2,5
- Poluostrov 5 - Гваделупа 2,5
- Poluostrov 6 - Левадур 2,5
- Poluostrov 7 - Камаропуш 2,5
- Poluostrov 8 - Кетин-Ворк 2,5

Задание 4

Эти понятия достаточно часть путаются.

X называют территорию суверенного государства либо ее часть, окруженную территорией другого суверенного государства и не имеющую выхода к морю, X, имеющий выход к морю, называют суверенного государства и не имеющую выхода к морю. Y, имеющий выход к морю, называют Y - часть территории суверенного государства, отделенная от основной ее части территорией другого государства или нескольких государств и не имеющая выхода к морю. Y, имеющий выход к морю, называют полу X.

Что означает X? Анклав 2
 Что означает Y? Эксклав 2
 Почему в истории возникли X и Y? 2

Нужно ответить на вопросы в предыдущих частях, так как каждая часть имеет свой ответ.

Определите по описанию, о каких X и Y идет речь.

I: конституционная монархия, вся территория страны расположена выше 1 км над уровнем моря. Один из официальных языков – сесото.

Ответ:

II: самый западный регион своей страны, имеет выход к морю. На её территории располагается около 90% всех мировых запасов полезного ископаемого, которое на древнереческом называется

«электрон».

Ответ:

III: самая большая по площади регион своей страны. До 1867 года была частью другого государства.

Ответ:

IV: регион торкоязычного государства, берега которого с востока омываются водами крупнейшего по площади озера мира.

V: регион крупной африканской страны – бывшей колонии государства VI. Является крупным нефтедобывающим регионом.

VI: название страны происходит от города, расположенного на его севере. На языке этой страны сейчас также говорит другое государство, на территории которого располагается устье самой полноводной реки мира.

VII: самое старое государство Европы, республика. Официальный язык совпадает с единственным официальным языком страны, которая полностью окружает территорию искомого государства.

Тестовый тип

1. Первым городом, получившим статус наукограда, является:

- А) Обнинск
- Б) Бийск
- В) Рытов
- Г) Дубна

2. Самая мощная ТЭС и ГЭС в России расположены соответственно в:

- А) Центральном и Уральском федеральном округе
- Б) Южном и Приволжском федеральном округе
- В) Северо-Западном и Сибирском федеральном округе
- Г) Уральском и Сибирском федеральном округе

3. Выберите верное соответствие название города - прежнее название города:

- А) Рыбинск - Щербаков
- Б) Йошкар-Ола - Белокаменск
- В) Пермь - Чкалов
- Г) Тверь - Щеглов

4. Какое из перечисленных государств не входит в ОПЕК?

- А) Катар
- Б) Ливия
- В) Табон
- Г) Венесуэла

5. Определите точное поясное время в пункте, расположенном восточнее Лондона на 15 градусов, если в столице Великобритании 8:00.

- А) 11:00
- Б) 7:00
- В) 9:00
- Г) 10:00

6. Кем впервые была сформулирована теория дрейфа материков?

- А) Альфредом Вегенером

Б) Франсисом Баконом

В) Франко Плаке

Г) Теодором Лигиенталем

7. Какая из перечисленных горных систем обладает наивысшей точкой?

А) Куньлунь

Б) Тянь-Шань

В) Каракорум

Г) Памир

8. Какое из озер имеет тектоническое происхождение?

А) Сегозеро

Б) Инарияви

В) Урмия

Г) Сайма

9. Какой из данных городов никогда не был столицей Норвегии?

А) Берген

Б) Тронхейм

В) Копенгаген

Г) Ослунн

10. Пермский геологический период относится к:

А) Мезозойской эре

Б) Кайнозойской эре

В) Протерозойской эре

Г) Палеозойской эре

11. Мощность океанической коры составляет примерно:

А) 5-15 км

Б) 1-5 км

В) 20-35 км

Г) 40-60 км

12. Самы распространённый ртутный минерал - это:

А) Халькопирит

Б) Киноварь

- В) Слюда
- Г) Флюорит

13. Краснозобая казарка обитает:

- А) На Камчатском полуострове
- Б) На Чукотском полуострове
- В) На полуострове Таймыр
- Г) На Кольском полуострове

14. В каком субъекте расположен Хопёрский заповедник?

- А) Саратовская область
- Б) Воронежская область
- В) Самарская область
- Г) Пензенская область

15. Евро не является валютой:

- А) Хорватии
- Б) Словении
- В) Словакии
- Г) Литвы

16. Наиболее загруженным в Африке по пассажирообороту является аэропорт:

- А) Каира
- Б) Аддис-Абеба
- В) Кейптауна
- Г) Йоханнесбурга

17. Один и тот же язык имеет официальный статус на:

- А) Аландских островах и Шпицбергене
- Б) Азорских островах и островах Зелёного Мыса
- В) Канарских островах и Коморских островах
- Г) Фарерских островах и Багаарских островах

18. Первый метрополитен на территории современной континентальной части Евросоюза появился в:

- А) Берлине
- Б) Мадриде
- В) Будапеште



Александр
Ашур

Всероссийская олимпиада школьников по географии

I класс

Теоретический тур




Задание 1

Добыча полезных ископаемых – одна из важнейших отраслей промышленности России. Особую роль в экономике нашей страны занимает добыча нефти и природного газа.

Перед вами таблица регионов-лидеров по добыче нефти и газа в России в 2019 году. Для нефти также указаны значения по уровню добычи в 1990 году. Определите регионы А-Е, укажите их


названия и соотнесите с гербами.

Нефть	Добыча в 1990 г., млн. тонн	Добыча в 2019 г., млн. тонн	Газ	Добыча в 2019, млрд. куб м
Регион Б	306	236	Регион А	603
Регион В	35	37	Регион Б	35
Регион А	59	36	Регион Д	32
Регион Г	0	24	Регион Е	16
Регион Е	10	21	Регион Е	12
Регион Д	2	20	Регион Г	8
Башкирия	25	19	Томская область	6
Самарская область	15	16	Коми	4
Пермский край	12	16	Регион В	1
Ненецкий АО	1	16	Самарская область	1
Коми	15	15	Тюменская область	0,4
Удмуртия	11	11	Пермский край	0,2
Регион Е	0	11		
Томская область	10	9		







Рррр 7



Рррр 6



Рррр 5



Рррр 4

Рррр 3

Рррр 2

Рррр 1

Рррр А - 6	Рррр А - 6
Рррр Б - 3	Рррр Б - 3
Рррр В - 7	Рррр В - 7
Рррр Г - 4	Рррр Г - 4
Рррр Д - 2	Рррр Д - 2
Рррр Е - 5	Рррр Е - 5
Рррр Е - 4	Рррр Е - 4

Укажите общие тренды и тенденции в географии нефтедобычи регионов России с 1990 по 2019 г.

Из Королевской Швеции при север и юго-запад открылись новые месторождения.

Объясните причины снижения добычи нефти в регионах А, Б, Самарской области, Башкирии

Из-за истощения ресурсов на границе Татарстана. Атомные электростанции в других отраслях нефти (более экономичны) в других регионах страны.

Альберт
Ашур.

Объясните причины роста добычи нефти в регионах В, Д, Е, Е, Ненецком АО

Задание 2

Прочитайте текст о неком государстве и заполните таблицу.

Искомая страна достаточно небольшая и не имеет выхода к морю, однако из-за созвучности названий её часто путают с крупным государством, расположенном на другом конце Земли. Большую часть её территории занимает горная система, в связи с чем большой популярностью в стране пользуются зимние виды спорта, а один из городов дважды принимал Зимние Олимпийские игры. Официальный язык страны совпадает с государственным языком северного и двух западных соседей. Более половины населения относятся к одной из ветвей крупнейшей мировой религии по числу последователей.

По своему устройству искомая страна является федерацией. С 1955 года во внешней политике она придерживается нейтралитета, однако с 1995 года входит в крупную региональную интернациональную группировку.

Столица страны расположена на берегах реки, протекающей через наибольшее число стран в мире. Исторический центр столицы относится к объектам культурного наследия ЮНЕСКО, благодаря чему город является крупным центром туризма. Столица также прославилась известным балетным танцем и запеченным десертом с начинкой преимущественно из яблок. Уроженцем современной территории страны является всемирно известный композитор, автор оперы «Свадьба Фигаро». Также к числу известных уроженцев страны относятся известный актер и бывший губернатор одного из наиболее развитых штатов США.

Искомая страна	Австрия
Столица страны	Вена
Горная система, занимающая большую часть территории страны	Альпы
Высшая точка вышеуказанной горной	Монблан

25
25
25
25

Мир	1938 год	2019 год	
Город	Показатель X, млн. тонн	Город	Показатель X, млн. TBU
Город I	40,3	Город IV	43,3
Осака	22,4	Город V	37,2

невозможна международная торговля.

т., в которых на тот момент располагались крупнейшие объекты в своём роде, без которых

Перед вами таблица с указанием населённых пунктов мира и РСФСР/России на 1938 и 2019

не только отраслей не только промышленности, но и сектора услуг.

К началу XX века роль международной торговли заметно возросла, что повлекло за собой развитие

На протяжении всей своей истории торговля была неотъемлемой частью мировой экономики.

Задание 3

	системы (не страны!)
Город, дважды принимавший Зимние Олимпийские игры	
Река, протекающая через наибольшее число стран в мире	Дунай
Как называется единица административно-территориального деления страны?	Земля
Назовите трех соседей государства с аналогичным государственным языком	Швейцария, Германия
С каким государством на другом конце Земли из-за созвучности названия часто путают искомую страну?	Австралия
Интеграционное объединение, куда входит страна	ЕО
Ветвь крупнейшей мировой религии, к которой относится более половины населения	Католицизм
Балетный танец, прославивший столицу	Болеро
Запеченный десерт с начинкой из яблок – символ столицы и страны	Штрудель
Всемирно известный композитор, автор оперы «Свадьба Фигаро»	Моцарт
Актер и впоследствии губернатор штата США, уроженец страны	

Александр

Полезное ископаемое, упомянутое в вопросе ранее -

Алмазы

Город I - Петербург
 Город II - Лондон
 Город III - Нью-Йорк
 Город IV - Москва
 Город V - Санкт-Петербург

Россия, Ботсвана, ДР Конго, Австралия и ЮАР.
 Назовите города I-V, если известно, что город II является в настоящий момент самым большим городом Евросоюза по численности населения из тех, которые не являются столицами государств, а город III - мировой центр торговли неким полезным ископаемым, лидерами по запасам которого являются

О каких объектах идет речь?

Город	Показатель X, млн. тонн	Россия	2019 год
Город I	0,1	Находка	25,2
Город II	0,3	Сабета	27,7
Город III	0,4	Ванино	31,4
Город IV	0,4	Город А	59,8
Город V	0,8	Приморск	61
Город VI	0,8	Город Б	61,9
Город VII	1,7	Восточный	73,5
Город VIII	1,9	Усть-Луга	103,9
Город IX	3,1	Город В	156,8
Город X	Показатель X, млн. тонн	Порт	Показатель X, млн. тонн
РФСР	1938 год	Россия	2019 год
Город I	11,1	Город I	14,8
Город II	12,3	Тяньцзинь	17,3
Город III	15,5	Тонконт	18,4
Город IV	19	Циндао	21
Город V	20,8	Пусян	22
Город VI	21,7	Гуанчжоу	23,2
Город VII	22	Шэньчжэнь	25,8
Город VIII	22	Нинбо	27,5

Алмазы

Ашдэроу
Ашур

Назовите города России А-Г (для города А укажите современное название)
Город А - (Синк - Петербург) 75
Город Б - ~~Копен~~ Нобороссиск 75
Город В - Купромиск 75
Город Г - 05

Какой показатель зашифрован под «показателем Х»? - Производство 75

Что такое ТЕУ? Почему многие страны мира стали считать показатель Х в 21 веке не через млн. тонн, а через млн. ТЕУ? Контейнерные перевозки 75

Опишите изменения в географии исследуемых объектов в мире с 1938 по 2019 год. С чем они связаны? Присущение с Атлантического побережья на Тихоокеанское. 25

Задание 4

В современном мире с ростом городов и распространением городского образа жизни растёт и уровень стресса статистического жителя Земли. Одним из способов борьбы с ним, заметно повлиявшим на гастрономическую культуру многих стран мира, являются тонизирующие напитки. Перед вами список стран мира, лидирующих по производству сырья для основных тонизирующих напитков в мире. Определите эти страны, растения, укажите их центр происхождения и ответьте на дополнительные вопросы.

Страна	Производство,	Страна	Производство,	Страна	Производство, тыс.
Растение А		Растение Б		Растение В	

Андрей
Наш

Страна I	1964	Страна III	3557	Страна V	2610
Страна II	948	Страна IV	1616	Страна VI	1345
Индонезия	594	Индонезия	722	Кения	493
Нигерия	333	Колумбия	721	Шри Ланка	304
Камерун	308	Гондурас	481	Турция	270
Страна III	239	Эфиопия	470	Страна IV	270
Эквадор	235	Перу	370	Индонезия	141
Перу	135	Страна VI	327	Иран	109
Доминиканская республика	85	Гватемала	246	Мьянма	109
Колумбия	53	Уганда	211	Япония	83

Растение А и центр происхождения - *какао*
 Растение Б и центр происхождения - *кофе*
 Растение В и центр происхождения - *чай*

7,5
7,5
7,5

Страна I - *Кот-д'Ивуар*
 Страна II - *Гондурас*
 Страна III - *Перу*
 Страна IV - *Вьетнам*
 Страна V - *Китай*
 Страна VI - *Индия*

7,5
7,5
7,5
7,5
7,5
7,5

Какое из данных растений выращивается в России? *Чай*

0,5
7,5

В каком регионе России оно выращивается? *Армения*

Почему остальные растения не выращиваются в России? *У-го тон не подходит*
культуры, темп роста слишком выше другие животные

0,5

Как называется аналог растения В, выращиваемый в странах Южной Америки? *Мате - Парабатика*

7,5

1. Кто является автором учения о происхождении и культурных растений?

- А) Н.И. Вавилов
- Б) В.В. Докучаев
- В) Иоганн фон Тюнен
- Г) Н.Н. Баранский

2. Какой из данных хребтов обладает наиболее высокой вершиной?

- А) Хребет Черского
- Б) Верхоянский хребет
- В) Становой хребет
- Г) Хребет Джугджур

3. К холодным морским течениям относится:

- А) Северо-Тихоокеанское
- Б) Восточно-Австралийское
- В) Калифорнийское
- Г) Аляскинское

4. Какие леса являются разновидностью галерейных?

- А) Тулаи
- Б) Листвяти
- В) Колки
- Г) Лилен

5. Какой из местных ветров не относится к ветрам оз. Байкал?

- А) Култук
- Б) Чинук
- В) Верховик
- Г) Сарма

6. Первым городом, получившим статус наукограда, является:

- А) Обнинск
- Б) Бийск
- В) Ревтов
- Г) Дубна

Александр

7. Самая мощная ТЭС и ГЭС в России расположены соответственно в:
- А) Центральном и Уральском федеральном округе
 - Б) Южном и Приволжском федеральном округе
 - В) Северо-Западном и Сибирском федеральном округе
 - Г) Уральском и Сибирском федеральном округе

8. Самым большим островом Курильской гряды является:
- А) Уруп
 - Б) Парамушир
 - В) Итуруп
 - Г) Симушир

9. Выберите верное соответствие современного названия города - прежнее название города:
- А) Рыбинск - Щербаков
 - Б) Йошкар-Ола - Белокаменск
 - В) Пермь - Чкалов
 - Г) Тверь - Щелков

10. Правым притоком Волги является:
- А) Шексна
 - Б) Кама
 - В) Сура
 - Г) Самара

11. Государственным языком какого из государств не является португальский?
- А) Мозамбик
 - Б) Бенин
 - В) Ангола
 - Г) Экваториальная Гвинея

12. Кем была разработана теория этногенеза?
- А) Л.Н. Гумилевым
 - Б) В.В. Докучаевым
 - В) А. фон Гумбольдтом
 - Г) В.И. Вернадским

Нисборос
Ассур

13. В каком государстве крупнейший по численности населения город является столицей?

А) Мьянма

Б) Уругвай

В) Нигерия

Г) Вьетнам

14. Какое из перечисленных государств не входит в ОПЕК?

А) Катар

Б) Ливия

В) Табон

Г) Венесуэла

15. В каком городе находится штаб-квартира ЮНЕСКО?

А) Вена

Б) Берлин

В) Лондон

Г) Париж

16. Как называется самая длинная река Антарктиды?

А) Руоин

Б) Оникс

В) Сапфир

Г) Агат

17. Какая тектоническая плита ограничена Южно-Американской плитой с севера, а Антарктической с юга?

А) Плита Хуана де Фука

Б) Плита Наска

В) Плита Кокос

Г) Плита Скотия

18. Что такое «терминатор» космического тела?

А) Линия, отделяющая освещенную часть космического тела от неосвещенной.

Б) Ось вращения космического тела.

В) Окружность, плоскость которой проходит через центр небесной сферы перпендикулярно оси

мира.

Г) Путь движения небесного тела.

Силегага мээсэ Кюлэ. Сам. гур. нэ 513 P
Уеауога 3. А.

- Уеуеи пееоку: 1. Аггеепог 20. А. Агг-
2. Еаоуека 11. Н.
3. Баоуокога 11. Н.
4. Уеуеога 9. Н.
5. Ауттопога 11. Н.

Александр
Александр

19. Какой великий русский землепроходец в 17 веке совершил ряд походов в Приамурье, занимался исследованием юго-восточной Сибири, написал «Чертеж реки Амура»?

- A) Василий Данилович Погорков
- B) Семён Иванович Дежнёв
- B) Ерофей Павлович Хабаров
- Г) Василий Васильевич Прончищев

20. Этническими группами какого народа являются ингилоицы, аджарцы, лазы, мереты?

- A) Аварцы
- B) Грузины
- B) Осетины
- Г) Даргинцы

Сингапур - закл. гур. по ЧАР. Исаккоба З. А. Дзержинский

Человек неслучайно

1. Аутелков З. А. Дзержинский
2. Исаккоба З. А. Дзержинский
3. Исаккоба З. А. Дзержинский
4. Исаккоба З. А. Дзержинский
5. Исаккоба З. А. Дзержинский