

## Протокол № 1

Проверки олимпиадных работ по географии МКОУ СОШ №1 с.п. Старый Черек от 07.10. 2021г.

№	ФИ участника	Класс и код	Теоретический тур					Тестовая часть										Сумма баллов	%	Место	Тип диплома
			1	2	3	4	5	1	2	3	4	5	6	7	8	9	10				
1	Иванова Милана	6А 061	0	2	2	2	2	1	1	1	0	0	1	1	1	1	1	16	80	1	Победитель
2	Маирова Ариана Залимовна	6А 062	0	2	1	2	2	0	0	0	0	1	1	0	0	1	0	10	50	3	Участник
3	Сохова Дисана Залимгериевна	6А 063	0	1	1	2	2	2	1	1	0	0	1	1	1	1	0	14	70	2	Призер
4	Ашинова Аделина Мухамедовна	6Б 064	0	2	1	1	1	1	0	0	0	1	0	0	0	0	0	7	35	6	Участник
5	Кошесев Дамир Заурбиевич	6Б 065	0	1	0	1	1	1	0	1	1	0	1	0	0	1	0	8	40	4	Участник
6	Саншонов Дамир Заурович	6Б 066	0	1	0	1	1	0	1	0	1	0	0	0	1	0	1	7	35	6	Участник
7	Борукаева Сабина Адельбиевна	6В 067	0	1	2	1	0	1	1	0	0	0	1	0	0	1	0	8	40	4	Участник
Максимальный балл			2	2	2	2	2	1	1	1	1	1	1	1	1	1	1	20	100		

Члены комиссии: \_\_\_\_\_ / Л.Х. Альборова/

\_\_\_\_\_ /Б.А. Альборов/

Председатель комиссии \_\_\_\_\_ /З.А. Иванова/

## Протокол № 2

**Проверки олимпиадных работ по географии МКОУ СОШ №1 с.п. Старый Черек от 07.10. 2021г.**

№	ФИ участника	Класс	Теоретический тур					Тестовый тур										Сумма баллов	%	Место	Тип диплома
			1	2	3	4	5	1	2	3	4	5	6	7	8	9	10				
1	Дзуганов Тембулат Казбекович	7А 071	1	2	0	2	0	0	1	0	1	1	1	0	0	1	0	10	50	3	Участник
2	Шидов Мухамед Хажметович	7А 072	0	1	1	2	0	1	0	1	0	1	1	0	0	0	1	9	45	4	Участник
3	Ашинов Салим Феликсович	7Б 073	2	1	0	2	0	0	1	1	1	1	1	1	1	1	1	14	70	1	Победитель
4	Шогенова Инара Залимовна	7Б 074	0	1	1	2	2	0	1	1	0	1	1	0	1	1	1	13	65	2	Призер
Максимальный балл			2	2	2	2	2	1	1	1	1	1	1	1	1	1	1	20	100		

Члены комиссии: \_\_\_\_\_ / Л.Х. Альборова/

\_\_\_\_\_ /Б.А. Альборов/

Председатель комиссии \_\_\_\_\_ /З.А. Иванова/

### Протокол № 3

**Проверки олимпиадных работ по географии МКОУ СОШ №1 с.п. Старый Черек от 07.10. 2021г.**

№	ФИ участника	Класс и код	Тестовый тур															Теоретический тур					Сумма баллов	%	Место	Тип диплома	
			1	2	3	4	5	6	7	8	9	10	11	12	13	14	15	1	2	3	4	5					
1	Дзуганова Диана Ахмедовна	8А 081	0	1	0	0	1	1	1	1	1	0	1	0	1	1	1	0	1	1	0	3	0	14	47	4	Участник
2	Куашева Милана Муратовна	8А 082	0	1	0	1	1	1	1	1	1	1	0	1	1	1	1	1	1	3	3	3	2	24	80	2	Призер
3	Шидова Ясмينا Джамбулатовна	8А 083	1	1	0	1	1	1	1	1	1	1	1	1	1	1	1	3	3	3	3	1	27	90	1	Победитель	
4	Созрокова Залина Аслановна	8Б 084	0	1	0	1	1	0	1	0	1	1	0	0	1	0	1	3	3	3	1	1	19	63	3	Участник	
Максимальный балл			1	1	1	1	1	1	1	1	1	1	1	1	1	1	1	3	3	3	3	3	30	100			

Члены комиссии: \_\_\_\_\_ / Л.Х. Альборова/

\_\_\_\_\_ /Б.А. Альборов/

Председатель комиссии \_\_\_\_\_ /З.А. Иванова/

## Протокол № 4

**Проверки олимпиадных работ по географии МКОУСОШ №1 с.п. Старый Черек от 07.10. 2021г.**

№	ФИ участника	Класс и код	Тестовый тур									Теоретический тур								Сумма баллов	%	Место	Тип диплома	
			1	2	3	4	5	6	7	8	9	10	1	2	3	4	5	6	7					8
1	Вологирова Мадина Алиевна	9А 091	1	1	1	1	1	1	1	1	1	0	0	0	3	5	8	4			29	73	1	Победитель
2	Гукежева Лориана Рустамовна	9А 092	1	1	1	1	1	1	1	1	1	0	0	3	2	0	1	2	0	2	19	42	3	Участник
3	Сихова Дарина Альбертовна	9А 093	1	1	1	0	1	1	1	0	1	0	1	0	2	0	4	0			14	35	5	Участник
4	Гукежева Дисана Олеговна	9Б 094	0	1	1	1	0	1	1	1	1	0	5	3	2	4	1	4	0	2	28	62	2	Призер
5	Егожева Амина Артуровна	9Б 095	0	1	1	1	0	1	1	0	0	1	0	0	0	0	8	4			18	45	4	Участник
Максимальный балл			1	1	1	1	1	1	1	1	1	1	5	5	3/5	5	8/2	4/5	0/4	0/4	40/45	100		

Члены комиссии: \_\_\_\_\_ / Л.Х. Альборова/

\_\_\_\_\_ /Б.А. Альборов/

Председатель комиссии \_\_\_\_\_ /З.А. Иванова/

**Протокол № 5**  
**Проверки олимпиадных работ по географии МКОУСОШ №1 с.п. Старый Черек от 07.10. 2021г.**

№	ФИ участник а	Клас с и код	Тестовая часть																										Теоретическая часть												Су мма бал лов	%	Ме сто	Тип диплом а
			1	2	3	4	5	6	7	8	9	10	11	12	13	14	15	16	17	18	19	20	21	22	23	24	25	26	27	28	29	30	31	32	33	34	35	36						
1	Маиров Тамерлан Муратович	10 011	1	1	1	1	1	1	1	1	1	1	1	0	0	0	0	1	0	0	1	1	1	0	0	1	1	0	0	1	1	0	1	1	0	5	0	0	8	34	56	4	Участник	
2	Мирзов Алим Хачимович	10 012	1	1	1	1	1	1	1	1	1	1	1	0	1	0	0	1	1	1	0	1	0	0	1	0	0	1	1	0	1	3	8	3	7	42	70	1	Победитель					
3	Пшихопов Ренат Анзорович	10 013	1	1	0	1	1	0	1	1	0	1	1	0	1	0	1	0	0	0	1	1	1	0	0	0	1	1	0	0	0	3	0	3	0	0	22	37	2	Призер				
4	Шампаров Идар Альбертович	10 014	1	1	1	1	1	1	0	1	1	1	0	0	0	1	1	0	0	1	0	0	1	1	1	0	0	1	1	0	0	0	2	0	3	3	25	42	3	Участник				
Максимальный балл			1	1	1	1	1	1	1	1	1	1	1	1	1	1	1	1	1	1	1	1	1	1	1	1	1	1	1	1	1	1	1	1	2	3	5	5	5	1	60	100		

Члены комиссии: \_\_\_\_\_ / Л.Х. Альборова/ \_\_\_\_\_ /Б.А. Альборов/  
 Председатель комиссии \_\_\_\_\_ /З.А. Иванова/

## Протокол № 6

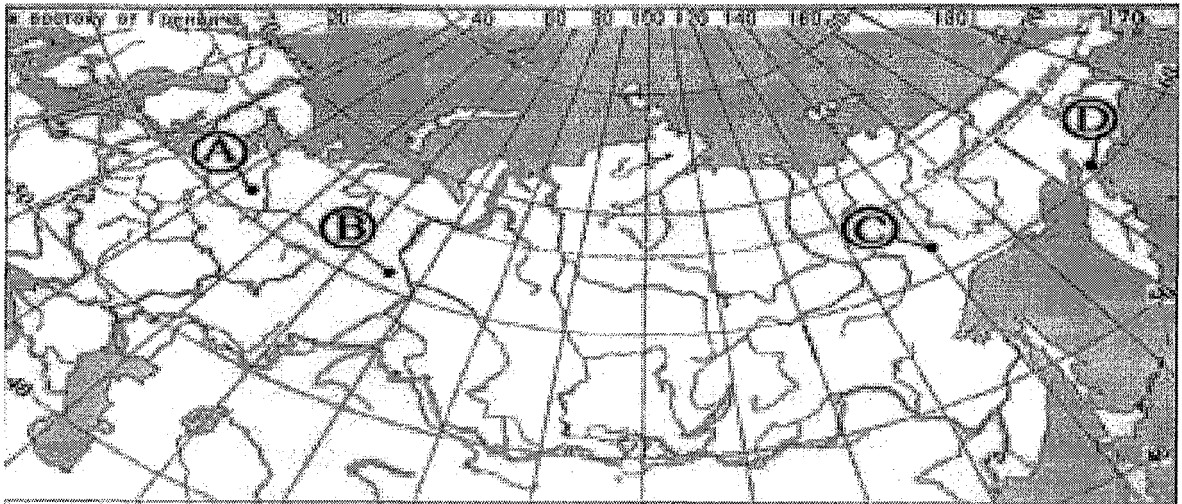
**Проверки олимпиадных работ по географии МКОУ СОШ №1 с.п. Старый Черек от 07.10. 2021г.**

№	ФИ участника	Класс и код	Тестовая часть																		Теоретическая часть												Сумма баллов	%	Место	Тип диплома											
			1	2	3	4	5	6	7	8	9	10	11	12	13	14	15	16	17	18	19	20	21	22	23	24	25	26	27	28	29	30					31	32	33	34	35	36					
1	Дзуганова Илона Аслановна	11 015	1	1	1	1	1	1	1	1	1	1	1	0	1	1	1	1	1	1	1	1	1	1	1	1	1	1	1	1	1	1	1	1	1	1	0	2	3	5	5	5	2	50	83	1	Победитель
2	Маремуква Алина Анзоровна	11 016	0	1	1	1	1	1	1	1	1	1	1	0	1	1	1	1	1	0	1	1	0	1	1	1	0	1	1	0	1	1	1	1	1	1	2	0	5	3	5	0	39	65	2	Призер	
Максимальный балл			1	1	1	1	1	1	1	1	1	1	1	1	1	1	1	1	1	1	1	1	1	1	1	1	1	1	1	1	1	1	1	1	1	1	1	2	3	5	5	5	10	60	100		

Члены комиссии: \_\_\_\_\_ / Л.Х. Альборова/

\_\_\_\_\_ /Б.А. Альборов/

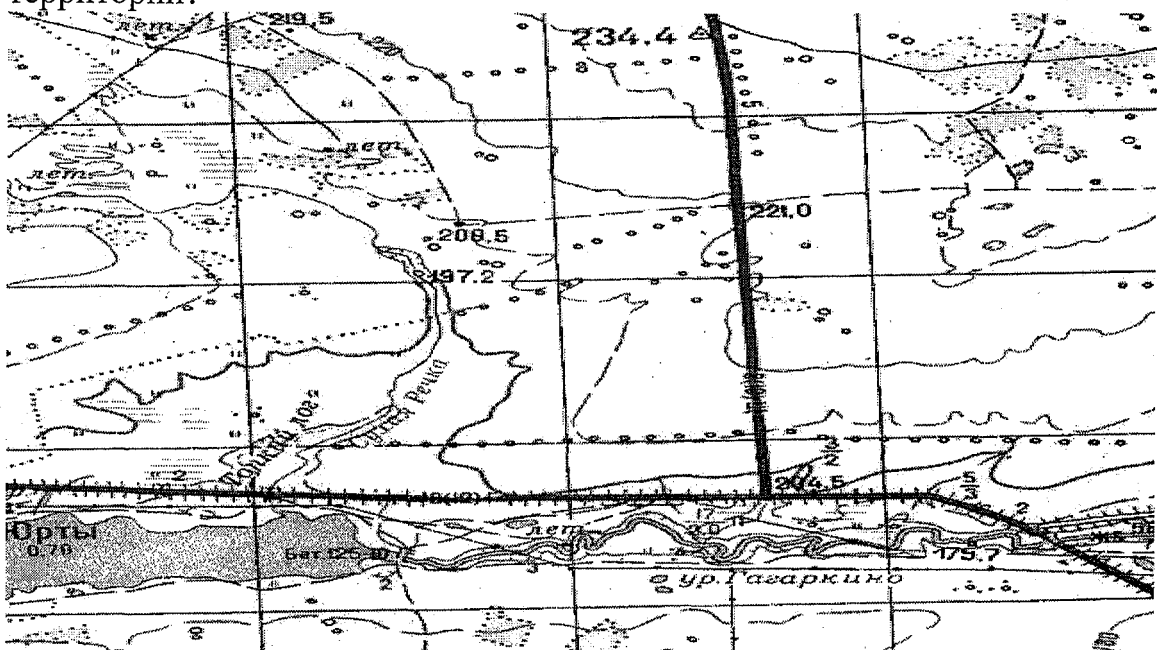
Председатель комиссии \_\_\_\_\_ /З.А. Иванова/



1) A; 2) B; 3) C; 4) D.

**6. Внимательно изучите фрагмент топографической карты и выполните задания (10б.)**

- 1) Определите высшую точку изображенной территории.
- 2) Определите азимут от точки с высотой 234,4м к точке с высотой 219,5м.
- 3) Назовите естественные формы рельефа, изображенные на топографической карте.
- 4) Какие растительные сообщества, обозначенные условными знаками, встречаются на изображенной территории?




---



---



---



---

- 3) Норвегия.  
4. Украина.  
5. Нигерия.  
6. Бразилия.

### Теоретическая часть

1. Установите соответствие между страной и её столицей: к каждому элементу первого столбца подберите соответствующий элемент из второго и внесите в строку ответов выбранные цифры (2б.):

СТРАНА	СТОЛИЦА
4 - А) Таиланд	1) Багдад
3 - Б) Индонезия	2) Каир
2 - В) Египет	3) Джакарта
1 - 4) Бангкок	

2. Расположите страны в порядке возрастания в них коэффициента рождаемости (на 1 тыс. жителей). Укажите ответ в виде последовательности буквенных обозначений выбранных элементов (3б.):

- 4 - А) Камерун  
4 - Б) Венгрия  
2 - В) США  
1 - Г) Мексика

3. Определите страну по ее краткому описанию (5б.)

Территория страны полностью расположена в западном полушарии и при этом пересекается экватором. Страна является крупнейшей по численности населения на материке, на котором она расположена. Страна обладает огромными гидроэнергетическими ресурсами, по ее территории протекает много полноводных рек, поэтому большая часть электроэнергии в этой стране производится на ГЭС. Узбекистан

4. Установите соответствие (5б.):

Форма правления:

1) Монархия

2) Республика

Страны

1 - А) Испания, Япония, Бельгия

1 - Б) Марокко, Франция, Непал

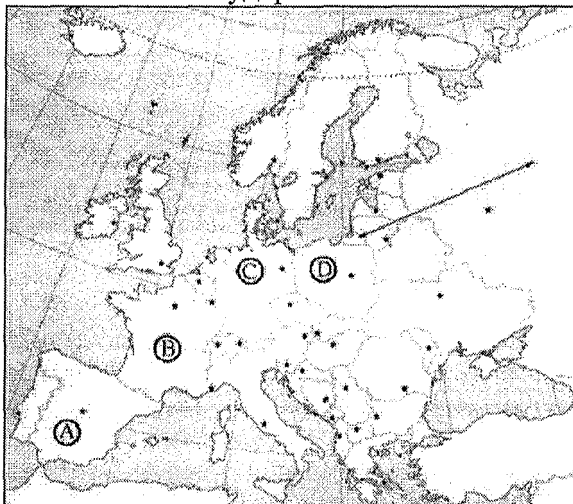
2 - В) Гвинея, Либерия, Турция

5. В каком из пунктов, обозначенных буквами на карте России, средние температуры января наиболее низкие? (5б.)



**Тестовая часть** (за каждый правильный ответ- 1 балл)

1. На каком из материков расположены горы Атлас? 0  
 1) Африка 2) Австралия  
 3) Южная Америка 4) Северная Америка
2. В какой из перечисленных стран доля детей в возрастной структуре населения наименьшая? 1  
 1) Канада 2) Пакистан 3) Алжир 4) Мьянма
3. Для какой из перечисленных стран характерен миграционный отток населения? 1  
 1) Италия 2) Канада 3) США 4) Мексика
4. В какой из перечисленных стран средняя плотность населения наименьшая? 1  
 1) Австралия 2) Бангладеш 3) Вьетнам 4) Франция
5. В какой из перечисленных стран средняя ожидаемая продолжительность жизни наибольшая? 1  
 1) Индия 2) Испания 3) Китай 4) Мексика
6. Для какой из перечисленных стран характерна постиндустриальная структура хозяйства? 1  
 1) Лаос 2) Франция 3) Чад 4) Сомали
7. В какой из перечисленных стран производство хлопка является отраслью международной специализации? 1  
 1) Ирландия 2) Китай  
 3) Канада 4) Саудовская Аравия
8. Какой буквой на карте обозначено государство Испания?



- 1) А  
 2) В  
 3) С  
 4) Д

9. С какой из перечисленных стран Россия имеет сухопутную границу?

- 1) Афганистан 2) Узбекистан  
3) Швеция ④ Финляндия

4

10. Какой из перечисленных городов России имеет наибольшую численность населения?

- 1) Чита ② Челябинск  
3) Благовещенск 4) Магадан

1

11. В каком из перечисленных городов Центральной России находится крупный металлургический комбинат полного цикла?

- 1) Тверь 2) Рязань ③ Липецк 4) Орел

1

12. Большинство верующих какого из перечисленных народов исповедуют буддизм?

- ① калмыки 2) карелы 3) чувашаи 4) хакасы

1

13. Выберите в приведенном списке три страны, являющиеся крупными производителями природного газа

- ① Канада  
② Иран  
3. Финляндия  
4. Россия  
⑤ США

0

14. Определите страну по этническому составу ее населения: пуштуны – 52%, таджики – 20%, хазарейцы – 9%, узбеки – 9%, туркмены – 2%, белуджи – 1% и др. Назовите эту страну.

*Афганистан.*

1

15. Найдите и выпишите ошибку в перечне территорий, входящих в государство, которое по-русски именуется Великобританией:

1. Уэльс  
2. Англия  
③ Бретань  
4. Шотландия  
5. Северная Ирландия

1

16. Это дерево знаменито своими необычными пропорциями. Оно одно из самых толстых деревьев в мире — при средней окружности ствола 9—10 м, его высота всего 18-25 м (в "Книге рекордов Гиннеса" за 1991 г. рассказывается о дереве диаметром целых 54,5 м.). Наверху ствол разделяется на толстые, почти горизонтальные ветви, образующие большую, до 38 м в диаметре, крону. В сухой период, зимой, когда дерево сбрасывает листву, он приобретает курьезный вид дерева, растущего корнями вверх. О каком дереве идет речь:

- 1) Секвойя.  
2) Вельвичия.  
③ Баобаб.  
4) Эвкалипт.

1

17. Самым глубоким глубоководным желобом на Земле является:

1. Чилийский.
2. Перуанский.
3. Зондский.
- ④ Марианский.

1

18. Выберите правильное утверждение, в котором указаны материки по мере увеличения их площади:

- 1) Австралия, Антарктида, Северная Америка, Южная Америка, Африка, Евразия.
- ② Евразия, Африка, Северная Америка, Южная Америка, Антарктида, Австралия.
- 3) Австралия, Антарктида, Южная Америка, Африка, Северная Америка, Евразия.
- 4) Австралия, Антарктида, Южная Америка, Северная Америка, Африка, Евразия.

0

19. С каким из перечисленных государств Россия имеет сухопутную границу?

- ① Финляндия.
2. Армения.
3. Болгария.
4. Турция.

1

20. На какой из перечисленных территорий России наиболее вероятны землетрясения?

1. Кольский полуостров.
2. острова Новая Земля.
- ③ остров Сахалин.
4. полуостров Таймыр.

1

21. На территорию какого экономического района приходится около половины валового сбора сахарной свёклы в России?

- 1) Центрально-Чернозёмного.
- ② Западно-Сибирского.
- 3) Восточно-Сибирского.
- 4) Центрального.

0

22. Европейский центр технологий и инвестиционных исследований Etirc планирует вложить в 2009–2010 годах в строительство в Иркутской области двух заводов по производству водородного топлива 300 млн. долларов. Стоимость строительства заводов составит около 220 млн. долларов. Остальные средства пойдут на обеспечение производства электроэнергией.

Компания выбрала две площадки под строительство: в районе поселка Листвянка и в районе Ангарска. Etirc намерен производить топливный водород путем его электролиза из воды, сжижать и поставлять в Японию

Картами какого географического района нужно воспользоваться для того, чтобы изучить территорию, на которой будет реализован названный в тексте проект?

- 1) Европейского Севера.
- 2) Урала.
- ③ Сибири.
- 4) Дальнего Востока.

1

23. Примером исчерпаемых и невозобновимых природных ресурсов служит

1. Пресная вода.
2. Почва.
- ③ Железная руда
4. Солнечная энергия.

1

24. Отметьте религию, которой придерживаются народы финно-угорской группы:

1. Буддизм.
2. Иудаизм.
3. Ислам.
- ④ Православие.

1

25. Укажите ошибку в составе «Большой восьмерки»:

1. США.
2. Япония.
- ③ Испания.
- ④ Великобритания.
- 5 Германия.
6. Франция.
7. Италия.
8. Канада.

0

26. Найдите единственную страну, в которой минимальны предпосылки для межрелигиозных или межэтнических конфликтов:

1. Великобритания.
2. Индия.
- ③ Япония.
4. Турция.
5. Канада.
6. Югославия.

1

27. Какой регион России в наибольшей степени пострадал от аварии на Чернобыльской АЭС:

- ① Брянская область.
2. Воронежская.
3. Смоленская область.
4. Орловская область.

1

28. В какой стране младенческая смертность максимальна:

1. Индия.
2. Китай.
3. Иран.
4. Афганистан.
- ⑤ Бангладеш.

0

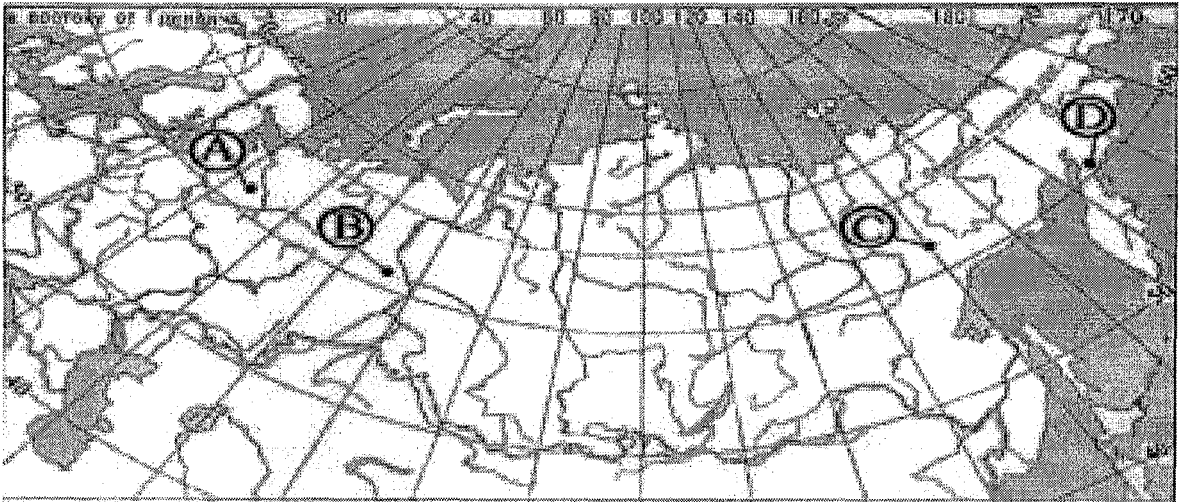
29. Вспомните экономический район, в котором больше всего республик в составе РФ, и найдите единственную страну, с которой он граничит:

1. Китай.
2. Монголия.
3. Казахстан.
- ④ Грузия.
5. Армения.
6. Финляндия.

1

30. Какая страна производит дешевую электроэнергию, экспортирует нефть и газ:

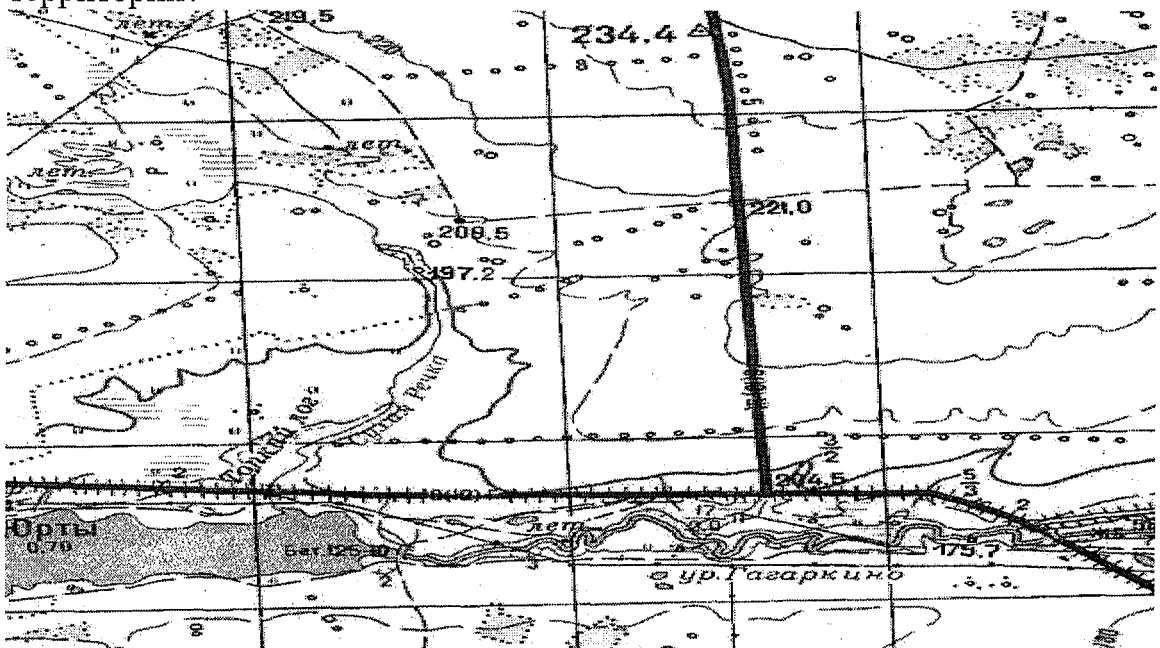
1. США;
2. Германия.



1) A; 2) B; 3) C; 4) D.

**6. Внимательно изучите фрагмент топографической карты и выполните задания (106.)**

- 1) Определите высшую точку изображенной территории.
- 2) Определите азимут от точки с высотой 234,4м к точке с высотой 219,5м.
- 3) Назовите естественные формы рельефа, изображенные на топографической карте.
- 4) Какие растительные сообщества, обозначенные условными знаками, встречаются на изображенной территории?



1) 234,4    2) 270

3. Норвегия.  
4. Украина.  
5. Нигерия.  
6. Бразилия.

0

### Теоретическая часть

1. Установите соответствие между страной и её столицей: к каждому элементу первого столбца подберите соответствующий элемент из второго и внесите в строку ответов выбранные цифры (2б.):

СТРАНА	СТОЛИЦА
А) Таиланд	1) Багдад
Б) Индонезия	2) Каир
В) Египет	3) Джакарта
4) Бангкок	

2

А - 4    Б - 3    В - 2

2. Расположите страны в порядке возрастания в них коэффициента рождаемости (на 1 тыс. жителей). Укажите ответ в виде последовательности буквенных обозначений выбранных элементов (3б.):

- А) Камерун  
Б) Венгрия  
В) США  
Г) Мексика

3

Б В Г А

3. Определите страну по ее краткому описанию (5б.)

Территория страны полностью расположена в западном полушарии и при этом пересекается экватором. Страна является крупнейшей по численности населения на материке, на котором она расположена. Страна обладает огромными гидроэнергетическими ресурсами, по ее территории протекает много полноводных рек, поэтому большая часть электроэнергии в этой стране производится на ГЭС. Бразилия

5

4. Установите соответствие (5б.):

Форма правления:

- 1) Монархия  
2) Республика

Страны

- А) Испания, Япония, Бельгия  
Б) Марокко, Франция, Непал  
В) Гвинея, Либерия, Турция

5

1 - А    2 - В

5. В каком из пунктов, обозначенных буквами на карте России, средние температуры января наиболее низкие? (5б.)

1. Чилийский.
2. Перуанский.
3. Зондский.
- ④ Марианский.

1

18. Выберите правильное утверждение, в котором указаны материки по мере увеличения их площади:

- 1) Австралия, Антарктида, Северная Америка, Южная Америка, Африка, Евразия.
- 2) Евразия, Африка, Северная Америка, Южная Америка, Антарктида, Австралия.
- ③ Австралия, Антарктида, Южная Америка, Африка, Северная Америка, Евразия.
- 4) Австралия, Антарктида, Южная Америка, Северная Америка, Африка, Евразия.

1

19. С каким из перечисленных государств Россия имеет сухопутную границу?

- ① Финляндия.
2. Армения.
3. Болгария.
4. Турция.

1

20. На какой из перечисленных территорий России наиболее вероятны землетрясения?

1. Кольский полуостров.
2. острова Новая Земля.
- ③ остров Сахалин.
4. полуостров Таймыр.

1

21. На территорию какого экономического района приходится около половины валового сбора сахарной свёклы в России?

- ① Центрально-Чернозёмного.
- 2) Западно-Сибирского.
- 3) Восточно-Сибирского.
- 4) Центрального.

1

22. Европейский центр технологий и инвестиционных исследований Etirc планирует вложить в 2009–2010 годах в строительство в Иркутской области двух заводов по производству водородного топлива 300 млн. долларов. Стоимость строительства заводов составит около 220 млн. долларов. Остальные средства пойдут на обеспечение производства электроэнергией.

Компания выбрала две площадки под строительство: в районе поселка Листвянка и в районе Ангарска. Etirc намерен производить топливный водород путем его электролиза из воды, сжигать и поставлять в Японию

Картами какого географического района нужно воспользоваться для того, чтобы изучить территорию, на которой будет реализован названный в тексте проект?

- 1) Европейского Севера.
- 2) Урала.
- ③ Сибири.
- 4) Дальнего Востока.

1

23. Примером исчерпаемых и невозобновимых природных ресурсов служит

1. Пресная вода.
2. Почва.
- ③ Железная руда
4. Солнечная энергия.

1

24. Отметьте религию, которой придерживаются народы финно-угорской группы:

1. Буддизм.
2. Иудаизм.
3. Ислам.
4. Православие.

25. Укажите ошибку в составе «Большой восьмерки»:

1. США.
2. Япония.
3. Испания.
4. Великобритания.
5. Германия.
6. Франция.
7. Италия.
8. Канада.

26. Найдите единственную страну, в которой минимальны предпосылки для межрелигиозных или межэтнических конфликтов:

1. Великобритания.
2. Индия.
3. Япония.
4. Турция.
5. Канада.
6. Югославия.

27. Какой регион России в наибольшей степени пострадал от аварии на Чернобыльской АЭС:

1. Брянская область.
2. Воронежская.
3. Смоленская область.
4. Орловская область.

28. В какой стране младенческая смертность максимальна:

1. Индия.
2. Китай.
3. Иран.
4. Афганистан.
5. Бангладеш.

29. Вспомните экономический район, в котором больше всего республик в составе РФ, и найдите единственную страну, с которой он граничит:

1. Китай.
2. Монголия.
3. Казахстан.
4. Грузия.
5. Армения.
6. Финляндия.

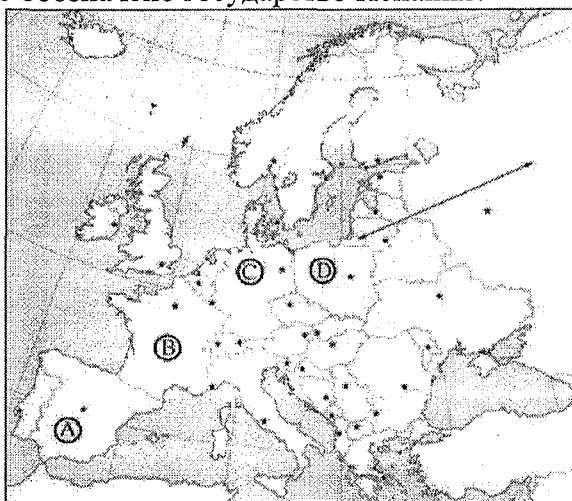
30. Какая страна производит дешевую электроэнергию, экспортирует нефть и газ:

1. США;
2. Германия.



**Тестовая часть** (за каждый правильный ответ- 1 балл)

1. На каком из материков расположены горы Атлас?  
 1) Африка 2) Австралия  
 3) Южная Америка 4) Северная Америка
2. В какой из перечисленных стран доля детей в возрастной структуре населения **наименьшая**?  
 1) Канада 2) Пакистан 3) Алжир 4) Мьянма
3. Для какой из перечисленных стран характерен миграционный отток населения?  
 1) Италия 2) Канада 3) США  4) Мексика
4. В какой из перечисленных стран средняя плотность населения **наименьшая**?  
 1) Австралия 2) Бангладеш 3) Вьетнам 4) Франция
5. В какой из перечисленных стран средняя ожидаемая продолжительность жизни **наибольшая**?  
 1) Индия  2) Испания 3) Китай 4) Мексика
6. Для какой из перечисленных стран характерна постиндустриальная структура хозяйства?  
 1) Лаос  2) Франция 3) Чад 4) Сомали
7. В какой из перечисленных стран производство хлопка является отраслью международной специализации?  
 1) Ирландия  2) Китай  
 3) Канада 4) Саудовская Аравия
8. Какой буквой на карте обозначено государство Испания?



- 1) А  
 2) В  
 3) С  
 4) Д

9. С какой из перечисленных стран Россия имеет сухопутную границу?

- 1) Афганистан 2) Узбекистан  
3) Швеция 4) Финляндия

1

10. Какой из перечисленных городов России имеет наибольшую численность населения?

- 1) Чита 2) Челябинск  
3) Благовещенск 4) Магадан

1

11. В каком из перечисленных городов Центральной России находится крупный металлургический комбинат полного цикла?

- 1) Тверь 2) Рязань 3) Липецк 4) Орел

1

12. Большинство верующих какого из перечисленных народов исповедуют буддизм?

- 1) калмыки 2) карелы 3) чувашаи 4) хакасы

1

13. Выберите в приведенном списке три страны, являющиеся крупными производителями природного газа

- 1) Канада  
2) Иран  
3. Финляндия  
4. Россия  
5) США

0

14. Определите страну по этническому составу ее населения: пуштуны – 52%, таджики – 20%, хазарейцы – 9%, узбеки – 9%, туркмены – 2%, белуджи – 1% и др. Назовите эту страну. *Афганистан*

1

15. Найдите и выпишите ошибку в перечне территорий, входящих в государство, которое по-русски именуется Великобританией:

1. Уэльс  
2. Англия  
3) Бретань  
4. Шотландия  
5. Северная Ирландия

1

16. Это дерево знаменито своими необычными пропорциями. Оно одно из самых толстых деревьев в мире — при средней окружности ствола 9—10 м, его высота всего 18-25 м (в "Книге рекордов Гиннеса" за 1991 г. рассказывается о дереве диаметром целых 54,5 м.). Наверху ствол разделяется на толстые, почти горизонтальные ветви, образующие большую, до 38 м в диаметре, крону. В сухой период, зимой, когда дерево сбрасывает листву, он приобретает курьезный вид дерева, растущего корнями вверх. О каком дереве идет речь:

- 1) Секвойя.  
2) Вельвичия.  
3) Баобаб.  
4) Эвкалипт.

1

17. Самым глубоким глубоководным желобом на Земле является:

**Тестовая часть** (за каждый правильный ответ- 1 балл)

1. Отметьте религию, которой придерживаются народы финно-угорской группы:

- 1) буддизм
- 2) иудаизм
- 3) ислам
- ④ православие.

1

2. Укажите страну, в которой наиболее остро стоит проблема курдов:

- ① Турция;
- 2) Азербайджан;
- 3) Иран;
- 4) Израиль;
- 5) Индия;
- 6) Туркмения.

1

3. Укажите ошибку в перечне главных грузопотоков газа:

- 1) Россия → Европа;
- 2) Алжир → Западная Европа;
- ③ ЮАР → Япония;
- 4) Канада → США.

1

4. Какой японский остров называют «силиконовым» из-за повышенной концентрации предприятий микроэлектроники:

- 1) Хонсю;
- 2) Хоккайдо;
- 3) Сикоку;
- ④ Кюсю

1

5. В какой стране младенческая смертность максимальна:

- 1) Индия;
- 2) Китай;
- 3) Иран;
- ④ Афганистан;
- 5) Бангладеш

1

6. Выделите страну с самой высокой долей городского населения среди перечисленных:

- ① Великобритания;
- 2) Франция;
- 3) ФРГ;
- 4) Финляндия;
- 5) Испания;
- 6) Италия.

1

7. Самая плотно населенная аграрная страна в мире – это:

- 1) Бельгия;
- 2) Нидерланды;
- ③ Бангладеш;
- 4) Япония.

1

8. В какой стране самая высокая плотность населения в мире:

- 1) Монако;
- 2) Нидерланды;
- 3) Сингапур;
- 4) Бангладеш

1

9. Вспомните экономический район, в котором больше всего республик в составе РФ, и найдите единственную страну, с которой он граничит:

- 1) Китай;
- 2) Монголия;
- 3) Казахстан;
- 4) Грузия;
- 5) Армения;
- 6) Финляндия.

1

10. Укажите ошибку в составе «Большой восьмерки»:

- 1) США;
- 2) Япония;
- 3) Испания;
- 4) Великобритания;
- 5) Германия;
- 6) Франция;
- 7) Италия;
- 8) Канада.

1

11. Какая страна в последние десятилетия притягивает большое количество трудовых мигрантов:

- 1) Турция;
- 2) Ирак;
- 3) Парагвай;
- 4) Кувейт;
- 5) Португалия;
- 6) Болгария

1

12. Какой город возник и быстро рос благодаря внешним миграциям:

- 1) Дублин;
- 2) Веллингтон;
- 3) Джакарта;
- 4) Стамбул;
- 5) Хабаровск;
- 6) Дамаск

1

13. Выберите в приведенном списке три страны, являющиеся крупными производителями природного газа

1. Канада
2. Иран
3. Финляндия
- 4) Россия
5. США

0

14. Определите страну по этническому составу ее населения: пуштуны – 52%, таджики – 20%, хазарейцы – 9%, узбеки – 9%, туркмены – 2%, белуджи – 1% и др. Назовите эту страну. Авганистан

1

15. Укажите остров, в пределах которого находится территория нескольких государств:
- а) Великобритания
  - б) Мадагаскар
  - в) Гаити
  - г) Огненная Земля
16. Выберите столицы субъектов РФ, коренные жители которых исповедуют общую религию:
- а) Горно-Алтайск, Нарьян-Мар, Улан-Удэ
  - б) Кызыл, Абакан, Элиста
  - в) Горно-Алтайск, Уфа, Кызыл
  - г) Кызыл, Улан-Удэ, Элиста
17. Расположите перечисленные объекты в порядке удаления от Перми:
- 1) точка с нулевыми географическими координатами 2) самое высокогорное озеро Южной Америки 3) высочайшая точка Африки 4) самая южная точка Евразии:
- а) 1342
  - б) 3421
  - в) 3214
  - г) 3412
18. Выберите королевство с правильно указанной столицей:
- а) Саудовская Аравия – Эр-Рияд
  - б) Иордания - Дамаск
  - в) Тонго - Тхимпху
  - г) Бельгия -Антверпен
19. Страна- нефтеэкспортер не входящая в состав ОПЕК:
- а) Алжир
  - б) Ирак
  - в) Мексика
  - г) Нигерия
20. Федеральный округ с самым большим количеством городов-миллионеров
- а) Уральском
  - б) Приволжском
  - в) Сибирском
  - г) Центральном
21. Это небольшое государство в центре Европы, не входящее в ЕС, обладает значительным экономическим потенциалом, несмотря на отсутствие полезных ископаемых и ограниченность сельхозугодий. Многонациональное население характеризуется высоким уровнем жизни. Столица – не самый крупный город в стране. В этой стране находится европейская штаб-квартира ООН, членом которой она является с 2002 г.
- а) Австрия
  - б) Швейцария
  - в) Бельгия
  - г) Словения

22. Страна с самой высокой плотностью населения в мире:

- а) Монако
- б) Нидерланды
- в) Сингапур
- г) Бангладеш

0

23. Примером исчерпаемых и невозобновимых природных ресурсов служит

- 1. Пресная вода.
- 2. Почва.
- 3. Железная руда
- 4. Солнечная энергия.

0

24. Отметьте религию, которой придерживаются народы финно-угорской группы:

- 1. Буддизм.
- 2. Иудаизм.
- 3. Ислам.
- 4. Православие.

1

25. Укажите ошибку в составе «Большой восьмерки»:

- 1. США.
- 2. Япония.
- 3. Испания.
- 4. Великобритания.
- 5. Германия.
- 6. Франция.
- 7. Италия.
- 8. Канада.

0

26. Найдите единственную страну, в которой минимальны предпосылки для межрелигиозных или межэтнических конфликтов:

- 1. Великобритания.
- 2. Индия.
- 3. Япония.
- 4. Турция.
- 5. Канада.
- 6. Югославия.

0

27. Какой регион России в наибольшей степени пострадал от аварии на Чернобыльской АЭС:

- 1. Брянская область.
- 2. Воронежская.
- 3. Смоленская область.
- 4. Орловская область.

1

28. В какой стране младенческая смертность максимальна:

- 1. Индия.
- 2. Китай.
- 3. Иран.
- 4. Афганистан.
- 5. Бангладеш.

1

29. Вспомните экономический район, в котором больше всего республик в составе РФ, и найдите единственную страну, с которой он граничит:

- ① Китай.
2. Монголия.
3. Казахстан.
4. Грузия.
5. Армения.
6. Финляндия.

30. Какая страна производит дешевую электроэнергию, экспортирует нефть и газ:

1. США;
2. Германия.
- ③ Норвегия.
4. Украина.
5. Нигерия.
6. Бразилия.

### Теоретическая часть

#### Задание 1 (5 баллов)

Многие животные являются символами в геральдике и флагах некоторых стран мира (например, Россия – двуглавый орел, Польша – белый орел, Австралия – кенгуру и коала и т.д.). Назовите государства мира, на гербах которых, изображены растения.

Канада - клен, Кипр - оливковое дерево, Ливан - кедр.

#### Задание 2 (10 баллов).

Самолёт, совершивший в конце марта перелёт через океан, в тяжёлых погодных условиях сбился с заданного курса и в ночное время суток вынужден был совершить посадку на прирусловую отмель широчайшей реки. Никто из членов экипажа при этом не пострадал, оказались серьезно поврежденными только навигационные приборы. Наступило утро, метеоусловия улучшились. Солнечный диск быстро поднялся из-за горизонта и к полудню стоял почти над самой головой. Чтобы не заблудиться, решено было пойти вдоль речного берега, а вокруг простирался труднопроходимый лес, обвитый лианами. И этот путь показался не столь безопасным: то и дело с песчаного пляжа сползали в воду крокодилы тёмного цвета. Путники обратили внимание на удивительное водное растение с широкими листьями с загнутыми, как у подноса, краями. Далее путники, попробовали слегка углубиться в лес и встретили признаки присутствия человека: на многих деревьях были сделаны надрезы, из которых стекал в чашечки похожий на молоко сок. В бассейне какой крупной реки самолёт произвёл вынужденную посадку? Что это за природная зона? О каких представителях флоры и фауны идет речь в тексте? Кто первым из европейцев проплыл вдоль основного течения этой реки? Назовите крупнейший город, стоящий на самой длинной реке этого бассейна.

Государство Бразилия, река Амазонка, влажные экваториальные леса, пираньи, Манакэ,

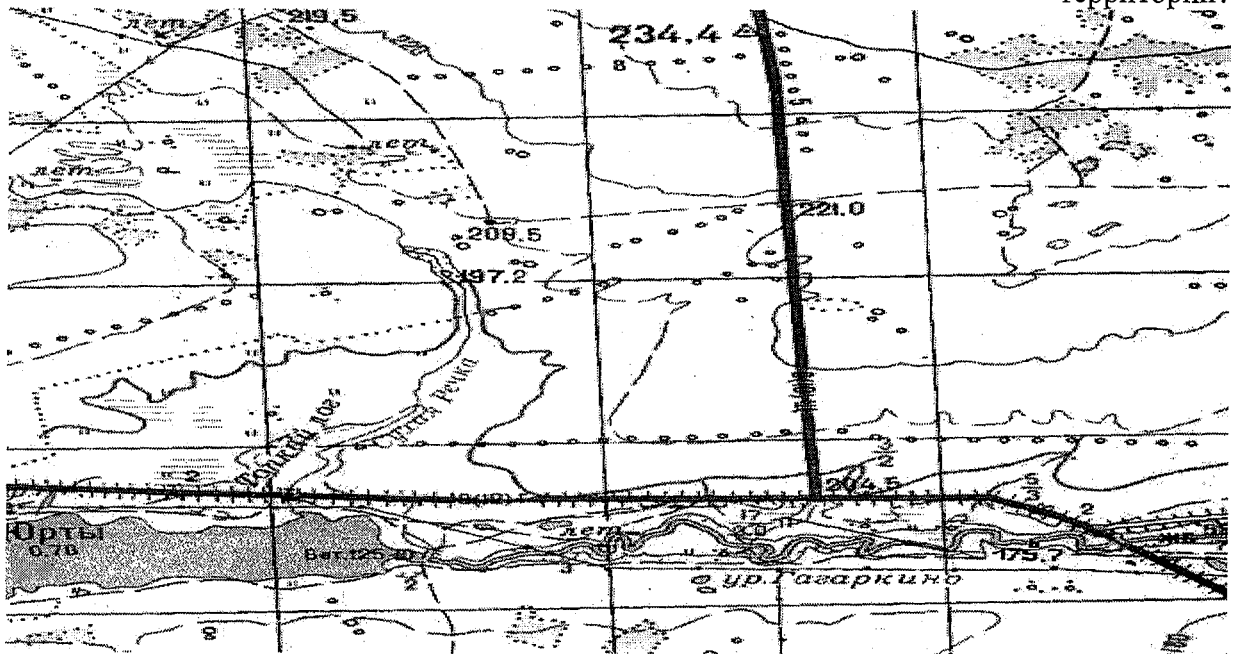
**Задание 3. (5 баллов).** Отгадайте слова, являющиеся географическими понятиями, названиями и именами, в которых есть числительное 100.

1. <sup>100</sup>сто<sup>К</sup>-начало реки
2. сто<sup>100</sup>л<sup>100</sup>л<sup>100</sup>-столица европейского государства
3. <sup>100</sup>сто<sup>100</sup>л<sup>100</sup>- государство Прибалтики
4. <sup>100</sup>сто<sup>100</sup>л<sup>100</sup>- город «Золотого кольца России»
5. <sup>100</sup>сто<sup>100</sup>л<sup>100</sup> - героический город в Крыму
6. -сто - - портовый город в Германии
7. <sup>100</sup>сто<sup>100</sup>л<sup>100</sup> - имя первооткрывателя Нового Света
8. - - - - -сто - - фамилия исследователя водопада Виктория.

3

**Внимательно изучите фрагмент топографической карты и выполните задания (10б.)**

- 1) Определите высшую точку изображенной территории.
- 2) Определите азимут от точки с высотой 234,4м к точке с высотой 219,5м.
- 3) Назовите естественные формы рельефа, изображенные на топографической карте.
- 4) Какие растительные сообщества, обозначенные условными знаками, встречаются на изображенной территории?



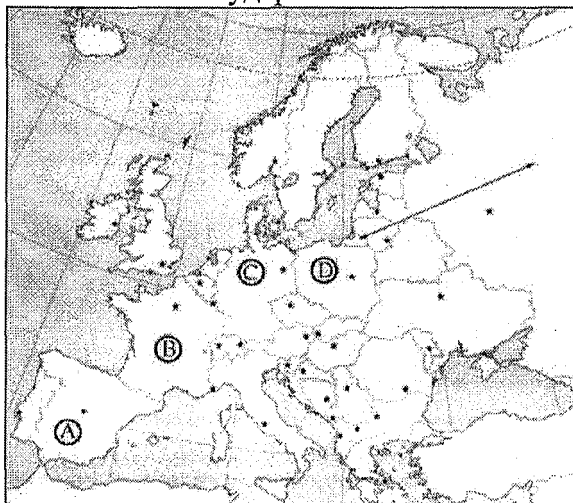
- 1) 234,4
- 2) 270°
- 3) холмистые равнины
- 4)

7



**Тестовая часть** (за каждый правильный ответ- 1 балл)

1. На каком из материков расположены горы Атлас? 1  
 ① Африка 2) Австралия  
 3) Южная Америка 4) Северная Америка
2. В какой из перечисленных стран доля детей в возрастной структуре населения **наименьшая**? 1  
 ① Канада 2) Пакистан 3) Алжир 4) Мьянма
3. Для какой из перечисленных стран характерен миграционный отток населения?  
 1) Италия 2) Канада 3) США ④ Мексика 1
4. В какой из перечисленных стран средняя плотность населения **наименьшая**?  
 ① Австралия 2) Бангладеш 3) Вьетнам 4) Франция 1
5. В какой из перечисленных стран средняя ожидаемая продолжительность жизни **наибольшая**? 1  
 1) Индия ② Испания 3) Китай 4) Мексика
6. Для какой из перечисленных стран характерна постиндустриальная структура хозяйства?  
 1) Лаос ② Франция 3) Чад 4) Сомали 1
7. В какой из перечисленных стран производство хлопка является отраслью международной специализации? 1  
 1) Ирландия ② Китай  
 3) Канада 4) Саудовская Аравия
8. Какой буквой на карте обозначено государство Испания?



- ① А  
 2) В  
 3) С  
 4) Д

9. С какой из перечисленных стран Россия имеет сухопутную границу?

- 1) Афганистан 2) Узбекистан  
3) Швеция ④ Финляндия

1

10. Какой из перечисленных городов России имеет наибольшую численность населения?

- 1) Чита ② Челябинск  
3) Благовещенск 4) Магадан

1

11. В каком из перечисленных городов Центральной России находится крупный металлургический комбинат полного цикла?

- 1) Тверь 2) Рязань ③ Липецк 4) Орел

1

12. Большинство верующих какого из перечисленных народов исповедуют буддизм?

- 1) калмыки ② карелы 3) чувашаи 4) хакасы

0

13. Выберите в приведенном списке три страны, являющиеся крупными производителями природного газа

- ① Канада  
2. Иран  
3. Финляндия  
4. Россия  
5. США

0

14. Определите страну по этническому составу ее населения: пуштуны – 52%, таджики – 20%, хазарейцы – 9%, узбеки – 9%, туркмены – 2%, белуджи – 1% и др. Назовите эту страну.

0

15. Найдите и выпишите ошибку в перечне территорий, входящих в государство, которое по-русски именуется Великобританией:

1. Уэльс  
② Англия  
③ Бретань  
④ Шотландия  
5. Северная Ирландия

0

16. Это дерево знаменито своими необычными пропорциями. Оно одно из самых толстых деревьев в мире — при средней окружности ствола 9—10 м, его высота всего 18-25 м (в "Книге рекордов Гиннеса" за 1991 г. рассказывается о дереве диаметром целых 54,5 м.). Наверху ствол разделяется на толстые, почти горизонтальные ветви, образующие большую, до 38 м в диаметре, крону. В сухой период, зимой, когда дерево сбрасывает листву, он приобретает курьезный вид дерева, растущего корнями вверх. О каком дереве идет речь:

- 1) Секвойя.  
2) Вельвичия.  
③ Баобаб.  
4) Эвкалипт.

1

17. Самым глубоким глубоководным желобом на Земле является:

1. Чилийский.
2. Перуанский.
- ③ Зондский.
4. Марианский.

18. Выберите правильное утверждение, в котором указаны материки по мере увеличения их площади:

- 1) Австралия, Антарктида, Северная Америка, Южная Америка, Африка, Евразия.
- ② Евразия, Африка, Северная Америка, Южная Америка, Антарктида, Австралия.
- 3) Австралия, Антарктида, Южная Америка, Африка, Северная Америка, Евразия.
- 4) Австралия, Антарктида, Южная Америка, Северная Америка, Африка, Евразия.

19. С каким из перечисленных государств Россия имеет сухопутную границу?

- ① Финляндия.
2. Армения.
3. Болгария.
4. Турция.

20. На какой из перечисленных территорий России наиболее вероятны землетрясения?

1. Кольский полуостров.
2. острова Новая Земля.
- ③ остров Сахалин.
4. полуостров Таймыр.

21. На территорию какого экономического района приходится около половины валового сбора сахарной свёклы в России?

- ① Центрально-Чернозёмного.
- 2) Западно-Сибирского.
- 3) Восточно-Сибирского.
- 4) Центрального.

22. Европейский центр технологий и инвестиционных исследований Etirc планирует вложить в 2009–2010 годах в строительство в Иркутской области двух заводов по производству водородного топлива 300 млн. долларов. Стоимость строительства заводов составит около 220 млн. долларов. Остальные средства пойдут на обеспечение производства электроэнергией.

Компания выбрала две площадки под строительство: в районе поселка Листвянка и в районе Ангарска. Etirc намерен производить топливный водород путем его электролиза из воды, сжигать и поставлять в Японию

Картами какого географического района нужно воспользоваться для того, чтобы изучить территорию, на которой будет реализован названный в тексте проект?

- 1) Европейского Севера.
- ② Урала.
- 3) Сибири.
- 4) Дальнего Востока.

23. Примером исчерпаемых и невозобновимых природных ресурсов служит

- ① Пресная вода.
2. Почва.
3. Железная руда
4. Солнечная энергия.

24. Отметьте религию, которой придерживаются народы финно-угорской группы:

1. Буддизм.
2. Иудаизм.
3. Ислам.
4. Православие.

25. Укажите ошибку в составе «Большой восьмерки»:

1. США.
2. Япония.
3. Испания.
4. Великобритания.
5. Германия.
6. Франция.
7. Италия.
8. Канада.

26. Найдите единственную страну, в которой минимальны предпосылки для межрелигиозных или межэтнических конфликтов:

1. Великобритания.
2. Индия.
3. Япония.
4. Турция.
5. Канада.
6. Югославия.

27. Какой регион России в наибольшей степени пострадал от аварии на Чернобыльской АЭС:

1. Брянская область.
2. Воронежская.
3. Смоленская область.
4. Орловская область.

28. В какой стране младенческая смертность максимальна:

1. Индия.
2. Китай.
3. Иран.
4. Афганистан.
5. Бангладеш.

29. Вспомните экономический район, в котором больше всего республик в составе РФ, и найдите единственную страну, с которой он граничит:

1. Китай.
2. Монголия.
3. Казахстан.
4. Грузия.
5. Армения.
6. Финляндия.

30. Какая страна производит дешевую электроэнергию, экспортирует нефть и газ:

1. США;
2. Германия.

1. Чилийский.
2. Перуанский.
- ③ Зондский.
4. Марианский.

0

18. Выберите правильное утверждение, в котором указаны материки по мере увеличения их площади:

- 1) Австралия, Антарктида, Северная Америка, Южная Америка, Африка, Евразия.
- ② Евразия, Африка, Северная Америка, Южная Америка, Антарктида, Австралия.
- 3) Австралия, Антарктида, Южная Америка, Африка, Северная Америка, Евразия.
- 4) Австралия, Антарктида, Южная Америка, Северная Америка, Африка, Евразия.

0

19. С каким из перечисленных государств Россия имеет сухопутную границу?

- ① Финляндия.
2. Армения.
3. Болгария.
4. Турция.

1

20. На какой из перечисленных территорий России наиболее вероятны землетрясения?

1. Кольский полуостров.
2. острова Новая Земля.
- ③ остров Сахалин.
4. полуостров Таймыр.

1

21. На территорию какого экономического района приходится около половины валового сбора сахарной свёклы в России?

- ① Центрально-Чернозёмного.
- 2) Западно-Сибирского.
- 3) Восточно-Сибирского.
- 4) Центрального.

1

22. Европейский центр технологий и инвестиционных исследований Etirc планирует вложить в 2009–2010 годах в строительство в Иркутской области двух заводов по производству водородного топлива 300 млн. долларов. Стоимость строительства заводов составит около 220 млн. долларов. Остальные средства пойдут на обеспечение производства электроэнергии.

Компания выбрала две площадки под строительство: в районе поселка Листвянка и в районе Ангарска. Etirc намерен производить топливный водород путем его электролиза из воды, сжигать и поставлять в Японию

Картами какого географического района нужно воспользоваться для того, чтобы изучить территорию, на которой будет реализован названный в тексте проект?

- 1) Европейского Севера.
- ② Урала.
- 3) Сибири.
- 4) Дальнего Востока.

0

23. Примером исчерпаемых и невозобновимых природных ресурсов служит

- ① Пресная вода.
2. Почва.
3. Железная руда
4. Солнечная энергия.

0

- 3) Норвегия.
- 4. Украина.
- 5) Нигерия.
- 6. Бразилия.

1

### Теоретическая часть

1. Установите соответствие между страной и её столицей: к каждому элементу первого столбца подберите соответствующий элемент из второго и внесите в строку ответов выбранные цифры (2б.):

СТРАНА	СТОЛИЦА
А) Таиланд	1) Багдад
Б) Индонезия	2) Каир
В) Египет	3) Джакарта
4) Бангкок	

1

2. Расположите страны в порядке возрастания в них коэффициента рождаемости (на 1 тыс. жителей). Укажите ответ в виде последовательности буквенных обозначений выбранных элементов (3б.):

- А) Камерун
- Б) Венгрия
- В) США
- Г) Мексика

ВГАБ

0

3. Определите страну по ее краткому описанию (5б.)

Территория страны полностью расположена в западном полушарии и при этом пересекается экватором. Страна является крупнейшей по численности населения на материке, на котором она расположена. Страна обладает огромными гидроэнергетическими ресурсами, по ее территории протекает много полноводных рек, поэтому большая часть электроэнергии в этой стране производится на ГЭС. Бразилия

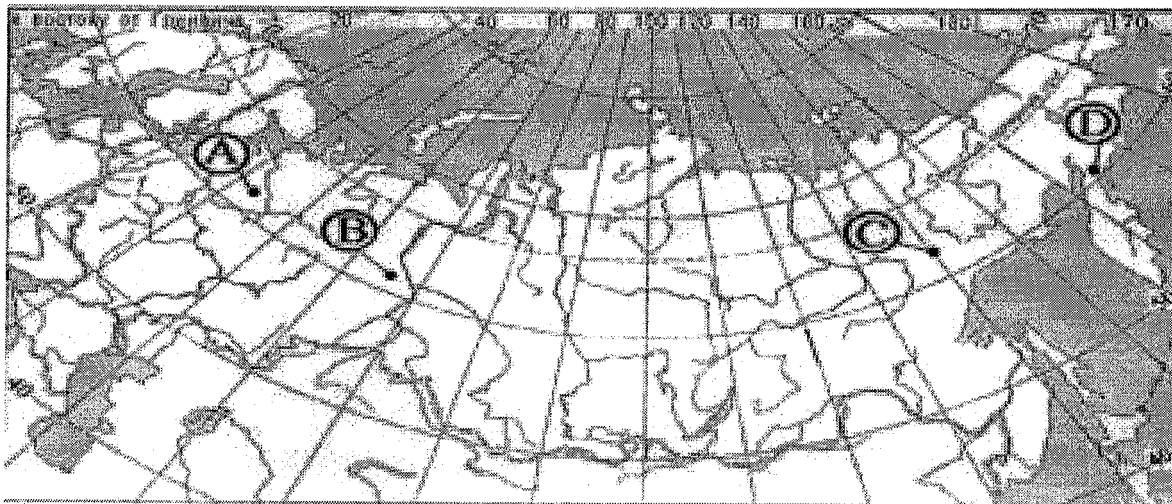
5

4. Установите соответствие (5б.):

Форма правления:	Страны
1) Монархия	А) Испания, Япония, Бельгия
2) Республика	Б) Марокко, Франция, Непал
	В) Гвинея, Либерия, Турция

0

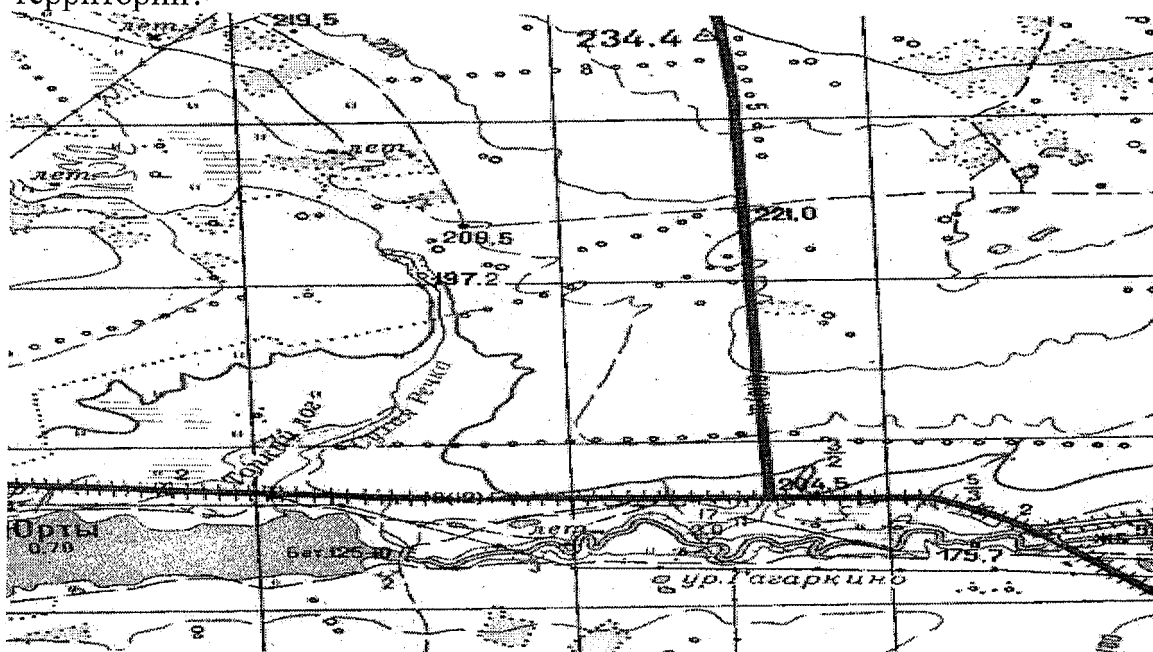
5. В каком из пунктов, обозначенных буквами на карте России, средние температуры января наиболее низкие? (5б.)



1) A; 2) B; 3) C; 4) D.

**6. Внимательно изучите фрагмент топографической карты и выполните задания (106.)**

- 1) Определите высшую точку изображенной территории. *234,4 м*
- 2) Определите азимут от точки с высотой 234,4 м к точке с высотой 219,5 м. *270°*
- 3) Назовите естественные формы рельефа, изображенные на топографической карте. *холмики, равнинный*
- 4) Какие растительные сообщества, обозначенные условными знаками, встречаются на изображенной территории? *кустарники (реки)*




---



---



---



---

**Тестовый тур** (за каждый правильный ответ- 1балл)

1. Россию омывают столько же океанов, сколько и территорию:  
 а) Австралии б) Японии в) Турции г) Канады 0
2. Россия граничит с:  
 а) Финляндией б) Киргизией в) Арменией г) Чехией 1
3. Какие ресурсы относятся к исчерпаемым возобновимым:  
 а) нефть, газ, уголь, руда  
 б) почвенные и биологические 1  
 в) энергия ветра, приливов и отливов  
 г) земельные и агроклиматические
4. В каком веке геополитическое влияние России было особенно велико?  
 а) XVII б) XVIII в) XIX  г) XX 1
5. С какого события началось падение глобальной роли СССР?  
 а) с распада СССР в 1991 году  
 б) со смерти И.В. Сталина в 1953 году 0  
 в) с вывода советских войск из Афганистана в 1980 году  
 г) со смерти Л.И. Брежнева в 1982 году
6. Приспособление организма человека к изменяющимся природным и социальным условиям окружающей среды называется:  
 а) ассимиляция  б) адаптация в) миграция г) рекреация 1
7. Численность населения России составляет:  
 а) 110 млн чел б) 125 млн чел  в) 142 млн чел г) 180 млн чел 1
8. Урбанизация – это:  
 а) процесс роста городского населения, повышения роли городов и распространения городского образа жизни 1  
 б) процесс переезда людей из сельской местности в города  
 в) процесс укрупнения городов  
 г) образование группы близкорасположенных городов, объединенных тесными связями
9. Трудовые ресурсы – это:  
 а) люди, способные и желающие трудиться  
 б) часть населения, обладающая необходимым физическим развитием, умственными способностями и знаниями для работы 1  
 в) часть населения, работающая в промышленности и на транспорте  
 г) часть населения, получающая зарплату за выполненную работу



10. Основной поток беженцев и переселенцев в Россию в последние годы шел из:  
 а) Закавказья б) Прибалтики **в)** Средней Азии г) Украины

**Теоретическая часть:**

1. Сопоставьте город и его функцию (не более одной)

- |              |                                      |
|--------------|--------------------------------------|
| 1. Воркута   | а) столица одной из республик России |
| 2. Дубна     | б) центр автономного округа          |
| 3. Ессентуки | в) краевой центр России              |
| 4. Краснодар | г) областной центр Поволжья          |
| 5. Майкоп    | д) областной центр Сибири            |
| 6. Находка   | е) горнопромышленный центр           |
| 7. Омск      | ж) морской порт Дальнего Востока     |
| 8. Самара    | з) научный центр Подмосковья         |
| 9. Тура      | и) курортный центр Кавказа           |
| 10. Углич    | к) историко-архитектурный центр      |

(56.)

*Майкоп - столица Чечни*

2. О чем «говорят» следующие имена:

- а) В.В. Докучаев б) А Никитин в) И. Москвитин г) И.Ф. Крузенштерн (56.)

*В.В. Докучаев - почвовед, ученый, профессор минералогии.*

*А.Никитин - был путешественником, писателем и тверским купцом.*

*И.Москвитин - землепроходец, автор книг о казанах*

*И.Ф. Крузенштерн - русский мореплавец.*

3. Выберите верные утверждения:

- а) за последние 12 лет в России наблюдается демографический кризис  
 б) рынок труда – это соотношение спроса на рабочую силу и ее предложения  
 в) к наиболее пострадавшим от департиации в середине 20 века народам относятся немцы, чеченцы, калмыки, эстонцы  
 г) самые большие по численности сельские населенные пункты России расположены на Крайнем Севере  
 д) самый маленький город России – Высоцк в Ленинградской области  
 е) в России 15 городов – миллионеров  
 ж) самый многочисленный после русских народ в России – украинцы  
 з) основными религиями, исповедуемыми народами России, являются православие и ислам

5 баллов

4. Найдите соответствие между городом и его образным названием, встречающимся, например, в поговорках, литературе, разговорной речи:

- |                    |  |
|--------------------|--|
| 1. Нижний Новгород | а) «Северная Пальмира»                 |
| 2. Ростов-на Дону  | б) «Столица» Урала                     |
| 3. Москва          | в) «Карман» России                     |
| 4. Сергиев Посад   | г) «Ворота» Кавказа                    |
| 5. Санкт-Петербург | д) духовный центр русского православия |
| 6. Екатеринбург    | е) «Третий Рим»                        |

5 баллов

5. Для получения статуса «город» населенный пункт в России должен соответствовать следующим критериям:

- а) площадь города должна превышать 100 км<sup>2</sup>  
 б) число жителей должно превышать 12 тыс человек  
 в) компактность застройки должна превышать 1000 домов на 1 км<sup>2</sup>  
 г) не менее 75% населения должно быть занято не в сельском хозяйстве

2 балла

6. По характеру рельефа большая часть республики равнинная, лишь одна возвышенная гряда пререзает ее с юго-востока на северо-запад. На востоке возвышаются невысокие древние горы: их высшая точка расположена на самой границе. В горах берет начало и протекает через всю территорию крупнейшая река Европейского Севера, судоходная на протяжении 1500 км.

- Назовите республику, гряду, горную систему, ее наивысшую точку и реку о которых идет речь.

Каштан, Каспий, г. Кавказская, Урал

5 баллов

7. Если бы земная ось имела наклон к плоскости орбиты не 66°30", а 45°, как это отразилось бы на длине летних дней и ночей. Как изменились бы времена года на территории России?

Летние дни длиннее, в коротких днях стало холоднее.

4 балла

8. Этот самый глубокий континентальный водоем содержит пятую часть запасов пресных вод на Земле (без ледников). Более 300 рек впадают в него, а вытекает только одна. У ее истока располагается поселок, в котором еще в 1920-х годах был открыт стационар по его изучению.

- Назовите этот водоем, реку из него вытекающую, 2 субъекта федерации, на территории которых он находится.

Озеро Байкал, вытекающая река Ангара, находящиеся на территории Бурятского автономного округа и в западной части Читинской области, и Иркутской области.

4 балла.

2

Теоретический тур**1. Посчитай, сколько спрятано топографических знаков в топографическом рассказе: «В гости к леснику»**

От пристани на реке мы пошли по лугу до деревянного моста. Перешли его и пошли по шоссе вдоль железной дороги. Скоро начался хвойный лес. Выйдя к линии электропередачи, мы свернули на просеку. Идти пришлось недолго. Наконец лес расступился, и мы вышли в озеро, берега которого оказались заболоченными. Напившись студёной воды из колодца, мы подошли к дому лесника-цели нашего пути. (26.) D

**2. Перед Вами перечень природных явлений: землетрясение, радуга, извержение вулкана.**

Выберите одно, или несколько, более опасных явлений, и объясните в чём их опасность.

(26.) Землетрясение - это очень опасное явление так как оно роняет дома и может вызвать цунами.  
Извержение вулкана опасно тем что оно может вызвать разрушение большого острова с помощью лавы. 2

**3. На Земле есть города, где в то время, когда в Москве наступает зима, людям не требуются шубы, меховые шапки и перчатки. Выберите из перечисленных городов те, жители которых в январе не нуждаются в тёплой зимней одежде. (26.)**

Канберра, Париж, Буэнос Айрес, Оттава. Канберра, Буэнос-Айрес. 2

**4. Исправьте географические ошибки (26.)**

Город Мадагаскар Остров Мадагаскар;  
Аравийский залив Аравийский полуостров;  
Ладожское море Ладожское озеро;  
Остров Гималаи Гора Гималаи;  
Озеро Амазонка Река Амазонка;  
Красное озеро Красное море;  
Вулкан Гренландия Остров Гренландия. 2

**5. В приведенном списке слов названы объекты и явления природы.**

Выпиши из этих слов такие, которые составляют группы. Каждую группу назови. В отдельную группу запиши исключённые названия.

Запад, гранит, Меркурий, берёза, Земля, восток, пемза, Юпитер, атмосфера, гидросфера, юг, север, жираф, биосфера, литосфера, град, каменный уголь, Тихий океан. (26)

Стороны света: Запад, восток, юг, север. Топонимы: Берёза, пемза, каменный уголь.  
Порядок: гранит, река, каменный уголь.  
Планеты: Меркурий, Земля, Юпитер.  
Сфера земли: атмосфера, гидросфера, биосфера, литосфера.  
Исключённые названия: берёза, жираф, град, Тихий океан. 2

**Тестовая часть (за каждый правильный ответ - 1б.)**

1. Первым предположил, что Земля имеет форму шара:

- а) Аристотель ✓  
б) Пифагор  
в) Птолемей 1

2. Первое кругосветное путешествие совершила экспедиция:

- а) Христофора Колумба  
б) Фернана Магеллана ✓  
в) Васко да Гамма 1

3. Распределите материки по мере уменьшения их размеров:

- 1) Южная Америка
- 2) Евразия
- 3) Африка
- 4) Австралия
- 5) Северная Америка
- 6) Антарктида

2, 3, 4, 6, 5, 1

4. Расположите объекты по их географическому положению с запада на восток:

- а) пустыня Сахара
- б) Атлантический океан
- в) г. Анды
- г) о. Новая Зеландия

2, 6, 5, 4

5. Нулевой меридиан проходит через город:

- а) Лондон
- б) Париж ✓
- в) Берлин
- г) Москва

6. Восточную окраину материка Евразия омывает:

- а) Индийский океан
- б) Тихий океан ✓
- в) Атлантический океан
- г) Северный Ледовитый океан

7. Какое кругосветное путешествие короче:

- а) по экватору
- б) 10° с. ш.
- в) 50° с. ш.
- г) 70° с. ш. ✓

8. Форму какой геометрической фигуры имеет Земля?

- А) шара
- Б) эллипса
- В) круга
- Г) геоида ✓

9. Укажите вариант, в котором представлена географическая координата:

- А) меридианы и параллели
- Б) долгота и широта ✓
- В) параллель и экватор
- Г) экватор и меридиан

10. Что изображается на контурных картах?

- А) Рельеф различных территорий;
- Б) Положение и название различных стран, городов;
- В) Положение и название рек, озёр, морей;
- Г) Только очертания материков, морей, озёр, рек, положение городов ✓

**Теоретический тур**

1. Посчитай, сколько спрятано топографических знаков в топографическом рассказе: «В гости к леснику»

От пристани на реке мы пошли по лугу до деревянного моста. Перешли его и пошли по шоссе вдоль железной дороги. Скоро начался хвойный лес. Выйдя к линии электропередачи, мы свернули на просеку. Идти пришлось недолго. Наконец лес расступился, и мы вышли в озеро, берега которого оказались заболоченными. Напившись студёной воды из колодца, мы подошли к дому лесника-цели нашего пути. (26.) **10**

2. Перед Вами перечень природных явлений: землетрясение, радуга, извержение вулкана.

Выберите одно, или несколько, более опасных явлений, и объясните в чём их опасность.

(26.) Землетрясение - резкие внутренние толчки и колебания на земной поверхности возникшие в результате движений в земной коре или в верхней мантии. 1

3. На Земле есть города, где в то время, когда в Москве наступает зима, людям не требуются шубы, меховые шапки и перчатки. Выберите из перечисленных городов те, жители которых в январе не нуждаются в тёплой зимней одежде. (26.)

Канберра, Париж, Буэнос Айрес, Оттава. Крым; Гринландия (полуостров) Буэнос Айрес 1

4. Исправьте географические ошибки (26.)

Город Мадагаскар Остров Мадагаскар  
Аравийский залив Аравийское море ;  
Ладожское море Ладожское озеро ;  
Остров Гималаи горы Гималаи ;  
Озеро Амазонка река Амазонка ;  
Красное озеро море ;  
Вулкан Гренландия остров . 2

5. В приведенном списке слов названы объекты и явления природы.

Выпиши из этих слов такие, которые составляют группы. Каждую группу назови. В отдельную группу запиши исключённые названия.

Запад, гранит, Меркурий, берёза, Земля, восток, пемза, Юпитер, атмосфера, гидросфера, юг, север, жираф, биосфера, литосфера, град, каменный уголь, Тихий океан. (26)

Планеты: Меркурий, Земля, Юпитер;  
Стороны света: Запад, Восток, Юг, Север;  
Палеонные ископаемые: гранит, пемза, каменный уголь;  
Сферы земли: атмосфера, гидросфера, биосфера, литосфера;  
Исключённые названия: берёза, жираф, град, Тихий океан 2

Тестовая часть (за каждый правильный ответ- 1б.)

1. Первым предположил, что Земля имеет форму шара:

- а)** Аристотель
- б) Пифагор
- в) Птолемей

2. Первое кругосветное путешествие совершила экспедиция:

- а) Христофора Колумба
- б)** Фернана Магеллана
- в) Васко да Гамма

3. Распределите материки по мере уменьшения их размеров:

- 1) Южная Америка
- 2) Евразия
- 3) Африка
- 4) Австралия
- 5) Северная Америка
- 6) Антарктида

2) 4) 5) 1) 3) 6)

4. Расположите объекты по их географическому положению с запада на восток:

- а) пустыня Сахара
- б) Атлантический океан
- в) г. Анды
- г) о. Новая Зеландия

5. Нулевой меридиан проходит через город:

- а) Лондон
- б) Париж
- в) Берлин
- г) Москва

6. Восточную окраину материка Евразия омывает:

- а) Индийский океан
- б) Тихий океан
- в) Атлантический океан
- г) Северный Ледовитый океан

7. Какое кругосветное путешествие короче:

- а) по экватору
- б) 10° с.ш.
- в) 50° с.ш.
- г) 70° с.ш.

8. Форму какой геометрической фигуры имеет Земля?

- А) шара
- Б) эллипса
- В) круга
- Г) геоида

9. Укажите вариант, в котором представлена географическая координата:

- А) меридианы и параллели
- Б) долгота и широта
- В) параллель и экватор
- Г) экватор и меридиан

10. Что изображается на контурных картах?

- А) Рельеф различных территорий;
- Б) Положение и название различных стран, городов;
- В) Положение и название рек, озёр, морей;
- Г) Только очертания материков, морей, озёр, рек, положение городов

**Теоретический тур (за каждый правильный ответ- 2б.)**

1. Выберите «лишнее звено» в каждой логической цепочке. Объясните свой выбор.

А. Литосфера, атмосфера, стратосфера, биосфера, гидросфера.

Б. Глобус, план местности, карта России, карта полушарий, топографическая карта.

В. Юго-запад, северо-восток, северо-запад, север, юго-восток.

Г. Китай, Индия, Казахстан, Белоруссия, Монголия, Финляндия.

Д. Гималаи, Уральские горы, Кавказские горы, Альпы, Кордильеры

«Лишнее звено»

А. стратосфера Б. Глобус В. север Г. Индия Д. Кордильеры

Объяснение: А. Это слой атмосферы. Б. Это модель Земли. В. Это направление горизонта отбивает. Г. Не пересекает с Россией. Д. Эти горы находятся не в Европе.

2. Рассмотрите фрагмент топографической карты и ответьте на следующие вопросы:

1. Какие природные и антропогенные объекты изображены на выделенном фрагменте территории?

Сад, сарай, теплица, мелиоративный канал

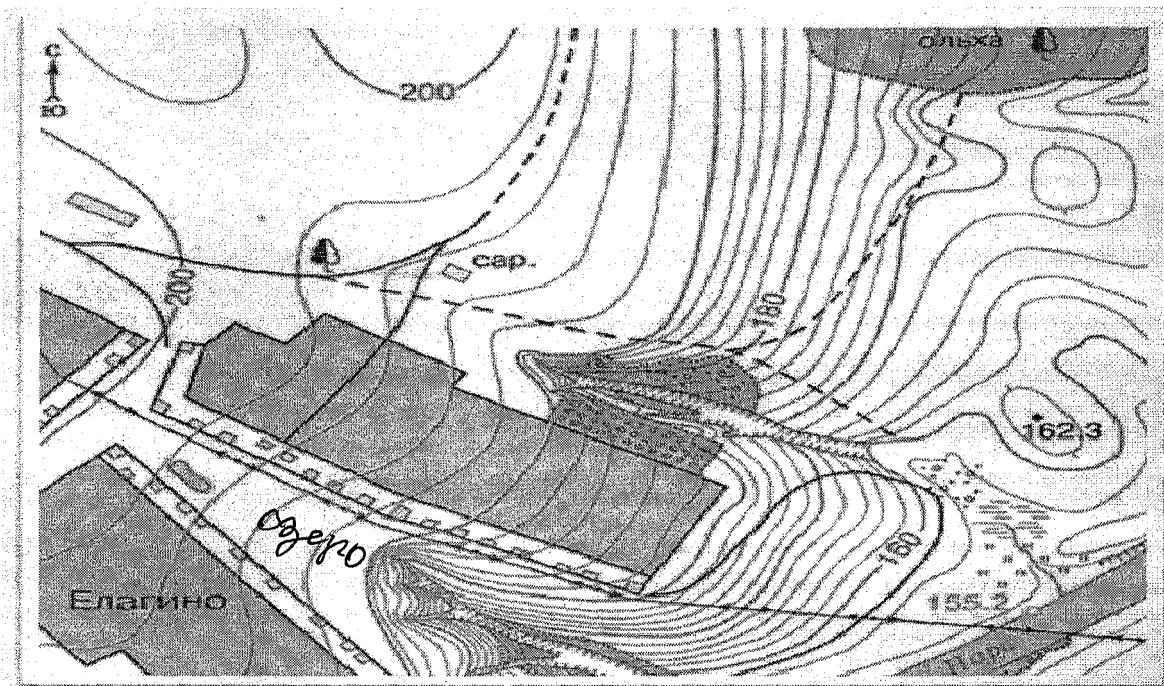
2. В каком направлении от сарая находятся

...  юго-западом.

Чему равно расстояние от деревенского пруда до сарая, если изображение выполнено в масштабе в 1 см 100 м? ок. 450 м.

Почему велосипедист, который едет по грунтовой дороге к реке, может практически не крутить педали? Как Вы это поняли?

Потому что идет по уклонам.



3. Можно ли совершить кругосветное путешествие по меридиану, двигаясь, все время на север?

Да, так как Земля круглая и можно всегда 0

4. Соотнесите названия стран и характерные для них особенности территории или географического положения.

- А) «страна-материк»; \_\_\_\_\_ 1. Австралия
- Б) «карликовое государство»; \_\_\_\_\_ 2. Монако
- В) островное государство; \_\_\_\_\_ 3. Монголия
- Г) приморское положение; \_\_\_\_\_ 4. Филиппины
- Д) не имеет выхода к морю. \_\_\_\_\_ 5. Франция

2

5. Проходя Торресовым проливом, легендарный подводный корабль «Наутилус» сел на мель. По этому поводу капитан Немо сделал следующее замечание: «Сегодня 4 января, через пять дней будет полнолуние, и я буду очень удивлен, если любезный спутник нашей планеты не поднимет воды и тем не окажет мне услугу, которой я ни от кого не приму, кроме него».

Почему капитан Немо надеялся на полнолуние? О каком литературном произведении идет речь? Немо надеялся на полнолуние потому что тогда были полные звезды, там 0

**Тестовый тур (за каждый правильный ответ- 1 б.)**

1. Какой румб будет находиться напротив Запада?

0

2. Что расположено не в России

о. Гренландия, г. Альпы; р. Янцзы; р. Енисей; р. Амур о. Гренландия, г. Альпы, р. Янцзы 7

3. Какая последовательность океанов Земли по площади (начиная с наименьшего) является верной:

- А) Тихий – Атлантический – Индийский – Северный Ледовитый.
- Б) Северный Ледовитый – Индийский – Атлантический – Тихий.
- В) Тихий – Северный Ледовитый – Индийский – Атлантический.
- Г) Атлантический – Индийский – Северный Ледовитый – Тихий.

*Северный Ледовитый самый маленький* 1

4. Нулевым меридианом пересекаются:

- А) Африка, Евразия и Антарктида; Б) Африка и Евразия;
- В) Австралия и Евразия; Г) Северная и Южная Америка.

7

5. Северная Америка отделена от Южной:

- А) Беринговым проливом; Б) Гибралтарским проливом;
- В) Панамским каналом; Г) Суэцким каналом.

7

6. Наиболее изрезанная береговая линия у материков:

- А) Евразия и Северная Америка; Б) Евразия и Южная Америка;
- В) Северная и Южная Америка; Г) Австралия и Африка.

7

7. У какого материка крайняя восточная точка находится в западном полушарии?

- А) Евразия; Б) Африка; В) Северная Америка; Г) Южная Америка.

7

8. На какой из параллелей 22 декабря наблюдается полярная ночь?

- А) 50° с.ш.; Б) 80° с.ш.; В) 50° ю.ш.; Г) 80° ю.ш.

1

9. Как называется прибор, фиксирующий состояние земной коры?

- А) компас Б) нивелир В) барометр Г) сейсмограф

7

10. Какая гора является высочайшей вершиной суши?

- А) Килиманджаро Б) Эльбрус В) Аконкагуа Г) Джомолунгма

7



**Теоретический тур (за каждый правильный ответ- 2б.)**

1. Установите правильную последовательность расположения облаков, начиная от поверхности земли:

А) Перистые; 2) слоистые; 3) кучево-дождевые; 4) слоисто-кучевые; 5) кучевые

3); 2); 4); 5); А)

0

2. Укажите соответствие

Горы	Материк
1. Кордильеры	А) Южная Америка
2. Анды	Б) Евразия
3. Гималаи	В) Северная Америка
4. Скандинавские	Г) Африка
5. Костюшка	<del>Д) Австралия</del>

1-В; 2-А; 3-Б; 5-Австралия; 4-Г.

3. Определите, какие продукты вулканического извержения описываются в стихотворении А. С. Пушкина.

Везувий зев открыл –  
 Дым хлынул клубом – пламя  
 Широко развилось,  
 Как боевое знамя.  
 Земля волнуется –  
 С шатнувшихся колонн  
 Кумиры падают!  
 Народ, гонимый страхом,  
 Под каменным дождем,  
 Под воспаленным прахом.  
 Толпами, стар и млад,  
 Бежит из града вон.

Дым хлынул клубом - это вулканический пепел или пепел.  
Под каменным дождем, под воспаленным прахом - это твердые породы, опять таки вулканический пепел и лавы.

4. Определите, какие из перечисленных ветров относятся к постоянным: муссон, пассат, фен, бриз, стоковые, западные ветры.

пассат, западные ветры.

5. Туристическое судно отходит из порта Владивосток 20 июня в 12 часов. Конечный пункт назначения – г. Сан-Франциско (США). Туристы пробудут в плавании 5 суток. Какого числа судно прибудет в пункт назначения? Объясните почему.

они прибудут туда в 16 часов 21 июня  
1) (24 из 30) приехали даг

1

2

2

**Тестовый тур** (за каждый правильный ответ- 1б.)

1. Как называется форма Земли?

- а) Шар;
- б) Эллипсоид;
- в) Параболоид;
- г) Геоид

0

2. Как называется международный север?

- а) Вест;
- б) Ост;
- в) Зюйд;
- г) Норд

1

3. Какой газ преобладает в земной атмосфере?

- а) Кислород;
- б) Азот;
- в) Водород;
- г) Углекислый газ

1

4. Через какой город мира проходит нулевой меридиан?

- а) Гринборо;
- б) Гринвич;
- в) Глазго;
- г) Гронинген

0

5. Какого моря не существует?

- а) Черное;
- б) Красное;
- в) Синее;
- г) Желтое

1

6. Какой незамерзающий российский порт зовется «воротами в Арктику»?

- а) Мурманск;
- б) Архангельск;
- в) Новороссийск;
- г) Магадан.

1

7. Россия занимает ведущее место в мире по запасам:

- а) природного газа, алмазов, угля
- б) медных руд, угля, золота
- в) золота, алмаз

0

8. Какие из перечисленных периодов относятся к палеозойской эре.

- а) кембрий
- б) ордовик
- в) девон
- г) палеоген
- д) юрский
- е) четвертичный

1

9. Установите соответствие:

Материк

Высшая точка

- а) Африка → 1) гора Косцюшко
- б) Южная Америка → 2) гора Джомолунгма
- в) Северная Америка → 3) гора Аконкагуа
- г) Австралия → 4) гора Мак – Кинли
- д) Евразия → 5) вулкан Килиманджаро

1

10. Дополните:

- 1) Наибольшие площади зона саванн и редколесий занимает в ~~Южной~~ Азии
- 2) Наиболее безжизненна зона ~~Атланта~~ Атланта Пустынь.
- 3) Леса полностью отсутствуют на материке Антарктида
- 4) Кампос – это природная зона, которая находится на ..... плоскогорье Бразильском

1

**Тестовый тур** (за каждый правильный ответ- 1б.)**1 Наука, изучающая географические названия:**1) геодезия 2) картография 3) топонимика ④ топография 0**2. К опасным природным явлениям литосферного происхождения НЕ относятся**А. Сели Б Ураганы В. Лавины Г. Оползни 1**3. Причиной сильных землетрясений на северо-востоке России является**А Столкновение Северо-Американской и Евразийской плит 0

Б. Столкновение Амурской и Евразийской плит

В. Столкновение Тихоокеанской и Евразийской плит

Г. Раздвижение Северо-Американской и Евразийской плит 1

**4. Самое большое море, омывающее территорию России – это:**1) Балтийское; 2) Охотское; 3) Японское; ④ Берингово.**5. Назовите основную причину существования поверхностных течений в Мировом океане:**

1) рельеф дна океанов; 2) характер очертания материков; 1

3) различия в солёности воды в океанах; ④ постоянные ветры Земли.**6. Жаркий (+25...+30°C), сухой (влажность 30%), сильный (скорость более 5 м/с) ветер в течении нескольких дней. О каком неблагоприятном климатическом явлении, встречающемся на территории России, идет речь:**1) засуха ② суховеи 3) пыльная буря 4) ураган? 1**7. Какое происхождение имеют такие формы рельефа как озы и камы:**1) тектоническое ② ледниковое; 3) карстовое; 1

4) эоловое (связанное с деятельностью ветра).

**8. Бурный грязе-каменный поток, часто возникающий на окончании ледника при сильных ливнях или при интенсивном таянии снега, перемещающийся по склону и несущий с собой массу камней – это:**1) оползень 2) наводнение ③ сель 4) морена. 1**9. С какими республиками (краями) граничит Кабардино-Балкария**на севере со Ставропольским краем.на юг с Ингушиейна востоке с Северной Осетией (Алания)на западе с Карачаево-Черкесией 1**10. Карта, на которой показаны древние платформы, зоны землетрясений, складчатые горные области разного возраста:**1) комплексная карта ② тектоническая карта; 1

3) климатическая карта 4) физическая карта.

**11. Портами Северного морского пути являются:**

1) Архангельск, Владивосток и Санкт-Петербург

2) Астрахань, Калининград и Магадан 0

③ Диксон, Мурманск и Хатанга

4) Находка, Новороссийск и Тикси.

**12. Длинная река России, протекающая по территории Кабардино-Балкарии?**1) Волга 2) Двина ③ Малка 4) Печора 1**13. Самое большое море, омывающее территорию России – это:**1) Балтийское 2) Охотское 3) Японское ④ Берингово. 1**14. Каково количество субъектов Российской Федерации**А. 90 Б. 83 ③ 85 Г. 93 1**15. Выберите правильное соответствие: тип почв – природная зона (тип растительности)**1) Подзолистые – тундра ② Чернозёмы – степи 3) Серые лесные- пустыня 1

4) Дерново-подзолистые – тайга. 1

**Теоретический тур (за каждый правильный ответ- 3б.)**

№1. Известно, что каждый новый день, новый год первыми на земле встречают жители мыса Дежнева и о. Ратманова. С какой скоростью приближается новый год к Москве? Может ли самолет, летящий со скоростью 900 км/ч, перегнать приближение нового года?

Ответ обоснуйте.

Со скоростью 697 км/ч Новый год приближается от мыса Дежнева до Москвы. Новый год в России в некоторых областях на востоке (на восточном востоке) примерно в 14-15 часов и каждый час переходит один часовой пояс. Поэтому самолет летит быстрее.

№2

В Карелии часто встречаются «гнилые» камни. Ударьте такой валун палкой, и он рассыплется, превратится в красноватую труху. Почему «сгнила» эта крепчайшая горная порода – гранит?

Камни «сгнили» под влиянием лишайников, которые на нём поселились. Эти растения выделяют вещества, разъедающие даже такую прочную породу, как гранит. Камни вветрив под воздействием факторов: перепада температур, кислыми водами торфяников и т.д.

№3

В своей книге «Засекреченный полюс» известный полярный исследователь, врач В. Волович так описывает это явление: «Небо пылало, перепоясанное гирляндами разноцветных огней. На юго-востоке с небес до верхушек торосов опустился полупрозрачный, переливающийся розовыми, зелеными и золотистыми красками занавес. Его складки трепетали словно под порывами ветра. По небосводу катились яркие разноцветные волны, а в зените неистовствовал огненный смерч, то свиваясь в единый гигантский багровый клубок, то распадаясь на бесчисленные красные языки. Но это там, в космическом пространстве, а здесь, внизу, царил тишина. Ни треска льда, ни шорохов поземки, ни посвистов ветра. В этом было что-то нереальное. Казалось, где-то в безднах космоса разразилась галактическая катастрофа и вот-вот этот бушующий ураган огня обрушится на землю и поглотит все».

О каком явлении идет речь? Какие причины вызывают это явление? В каких районах Земли и в какое время года можно наблюдать подобное явление?

Речь идет о Северном сиянии. Оно возникает в стратосфере вблизи магнитного полюса, оно видно в виде зеленоватого свечения, иногда с примесью красного.

№4

Определите страну по её краткому описанию.

Страна СНГ, имеет густую сеть железных дорог, крупный производитель зерна, подсолнечника и сахарной свеклы, есть мощный район черной металлургии вблизи месторождения угля, железной руды и марганца. Украина.

№5

Какой пролив одновременно соединяет 2 океана, два моря, разделяет 2 материка, две части света, два полуострова, два государства?

Укажите название пролива и названия объектов, которые он соединяет и разъединяет.

Это Берингов пролив 2 океана, кот. он соединяет Тихий и Северный, 2 моря - Чукотское и Берингово, 2 материка - Евразия и Сев Америка, 2 части света - Азия и Америка, 2 полуострова - Чукотский и Сьюард.

**Тестовый тур** (за каждый правильный ответ- 16.)

1. На границе с каким государством расположена крайняя западная точка России?

- 1) Латвия 2) Белоруссия  3) Польша 4) Эстония

2. Установите соответствие между путешественником и его вкладом в науку

Путешественник	Вклад в науку
1. Е.П. Хабаров	А. исследователь Сибири и Камчатки, автор знаменитой книги "Описание земли Камчатки"(1756) Б. прошёл на судах весь Амур, построил укреплённый острог
2. С.П. Крашенинников	
3. С. И. Дежнёв	
1 - Б 2 - А 3 - В	В. исследователь Северной и Восточной Сибири, первым прошёл проливом между Северной Америкой и Евразией

3. Самый крупный масштаб - это:

- 1) 1: 10000  2) 1: 25000 3) 1: 40000 4) 1: 250000

4. В каком их морей, омывающих берега России, плыл корабль, если капитана два дня подряд поздравляли с днём рождения?

- 1) в Чёрном море 2) в Белом море 3) в море Лаптевых  4) в Беринговом море

5. Самым верхним слоем материковой земной коры является

- 1) базальтовый 2) гранитный 3) кварцевый  4) осадочный

6. Относительную высоту склонов измеряют

- 1) рулеткой 2) анемометром  3) нивелиром 4) метром

7. Об образовании какого полезного ископаемого идет речь в сказке-были М.М. Пришвина «Кладовая солнца»:

«В болотах вода не дает родителям-растениям передать все свое добро детям, тысячу лет хранится под водой и становится кладовой солнца, и дается человеку в наследство»?

- 1) газ  2) торф 3) уголь 4) нефть

8. По радио передали "Влажность воздуха в городе 50 %. О чём идёт речь?

- 1) об абсолютной влажности  
 2) об относительной влажности  
3) об абсолютной и относительной влажности  
4) о повышении давления

9. Какие горы мешают прохождению западных морских воздушных масс?

- 1) Кавказские  2) Уральские 3) Сихотэ - Алинь 4) Бырранга

10. Самая длинная река европейской части России - это

- 1) Обь 2) Днепр  3) Волга 4) Северная Двина

11. В какой части света находится Кавказ?

- 1) в Европе 2) в Евразии  3) в Азии 4) в Европе и Азии

12. Какие виды почв преобладают на территории Кабардино-Балкарии?

- 1) подзолистые  2) чернозёмные 3) дерново - подзолистые 4) серые лесные

13. Прочитайте текст и вставьте пропущенные слова:

Самые высокие горы... Тимломан ..... расположены на материке... Северная ..... в части света... Азия ..... Наивысшая точка над уровнем моря 8848 м, называется... Джомолунгма

**14. Определите природную зону по описанию**

Весь год держатся низкие температуры, осадки выпадают редко, преимущественно в виде снега, растительность карликовая, встречаются лемминги и песцы, бывают полярные ночи и дни. 1) степь ② тундра 3) арктические пустыни 4) саванна 7

**15. С какими республиками (краями) граничит Кабардино-Балкария**

на севере со Ставропольским краем

на юг с Грузией

на востоке с Сев. Осетией (Алания)

на западе с Чечено-Ингушской Республикой

**Теоретический тур**

1. Самолёт вылетел из пункта А, пролетел 555 км на север, 555 км на запад, 555 км на юг и вернулся в исходную точку. Что это за точка? Определите широту начального пункта путешествия. Подробно опишите ход своих рассуждений. (3б.)

Самолёт летит по траектории тригонометрического треугольника. Также возможно лишь когда самолёт вылетает с полюса. По направлению это может быть только Южный полюс, а его широта 90°. Ю. ш.

2. Почему города и поселки среднего и нижнего Поволжья, находящиеся на правом берегу, стоят у самой реки, а населенные пункты левого берега, за редким исключением, расположены на один-два километра и далее от Волги? (3б.)

Из-за рельефа местности. Правые берега Евр. рек высокие а левые низкие - это связано с вращением земли.  
Из-за сильных камышей

3. В поэме А.С. Пушкина «Медный всадник» есть слова (3б.):

И не пуская тьму ночную

На золотые небеса,

Одна заря сменить другую

Спешит, дав ночи полчаса.

О каком явлении пишет А.С. Пушкин? Где он наблюдал подобное явление? 3

Белые ночи. В Санкт-Петербурге.

4. В какое время года копают колодцы? Почему именно тогда? (3б.)

Удачная с конца ноября и до февраля, когда уровень воды самый низкий в рамках годового цикла.

5. Определите страну по описанию. Назовите её столицу. Какой официальный язык этой страны? О какой низменности и каком плоскогорье говорится в тексте?

Это одна из крупнейших стран в мире как по площади территории, так и по численности населения. Она занимает около половины площади материка и омывается водами Атлантического океана. В центре и на юге находится обширное плоскогорье. На значительной, но наименее освоенной части страны расположена низменность, по которой протекает самая полноводная река планеты. Страна богата рудными полезными ископаемыми, водными и лесными ресурсами. Много крупных городов, основная часть которых сосредоточена у побережья. (3б.)

Страна - Бразилия, язык - португальский, бразильская низменность.

**Тестовый тур** (за каждый правильный ответ- 1балл)

1. Сколько субъектов Российской Федерации насчитывается в настоящее время:

- 1) 88;     ⑤ 85
- 2) 83;
- 3) 22;
- 4) 45?

1

2. Самый большой по площади территории субъект Российской Федерации – это:

- 1) Красноярский край;
- 2) город Москва;
- ③ Республика Саха (Якутия);
- 4) Новосибирская область?

1

3. Подумайте, какой известный физико-географический объект объединяет такие страны как Россия, Туркмения, Иран, Казахстан, Азербайджан:

- 1) Уральские горы;
- 2) Кавказские горы;
- ③ Каспийское море;
- 4) Прикаспийская низменность?

1

4. Выберите вид транспорта, лидирующий по грузообороту в России:

- ① железнодорожный;
- 2) автомобильный;
- 3) трубопроводный;
- 4) внутренний водный.

1

5. Производство какого вида продукции транспортного машиностроения представлено в таких центрах как Брянск, Людиново, Коломна, Муром, Калуга:

- 1) пассажирских вагонов;
- 2) вагонов метро;
- 3) электровозов;
- ④ тепловозов?

1

6. Выберите субъект РФ, лидирующий по добыче угля:

- ① Кемеровская обл.;
- 2) Красноярский край;
- 3) Республика Коми;
- 4) Ростовская обл.

1

7. Выберите экономический район, в котором производство электроэнергии на душу населения наивысшее:

- 1) Центральный;
- 2) Северный;
- 3) Северо-Кавказский;
- ④ Восточно-Сибирский.

1

8. Выберите регион, лидирующий по добыче природного газа на европейской территории России:

- 1) Ямало-Ненецкий авт. округ;
- 2) Оренбургская обл.;
- 3) Ханты-Мансийский авт. округ;
- 4) Астраханская обл.

1

9. Какой из показателей доли детей и подростков до 16 лет может быть в регионе Северного Кавказа:

- 1) 25-35%;
- 2) 22-25%;
- 3) 20-22%;

1

10. Какой из обозначенных на карте России городов расположен в пределах главной полосы расселения?

- 1) Красноярск;
- 2) Норильск;
- 3) Якутск;
- 4) Магадан?

0

**Теоретическая часть:**

1. Представьте, что Вам поступило предложение от одного известного автоконцерна мира о размещении сборочного производства автомобилей в России. В каком из предложенных центров Вы бы разместили такое производство. Выбор обоснуйте. (5б.)

- 1) Владивосток;
- 2) Саратов;
- 3) Новороссийск;
- 4) Сыктывкар.

0

---



---



---



---



---

2. Вам необходимо разместить промышленное предприятие, основным фактором размещения которого является только наличие трудовых ресурсов. В каком из предложенных городов Вы это сделаете не сомневаясь. Выбор обоснуйте. (5б.)

- 1) Москва;
- 2) Нальчик;
- 3) Санкт-Петербург;
- 4) Ханты-Мансийск.

0

---



---



---



---



**Тестовый тур** (за каждый правильный ответ- 1балл)

1. Сколько субъектов Российской Федерации насчитывается в настоящее время:

- 1) 88;     ③ 85
- 2) 83;
- 3) 22;
- 4) 45?

1

2. Самый большой по площади территории субъект Российской Федерации – это:

- 1) Красноярский край;
- 2) город Москва;
- ③ Республика Саха (Якутия);
- 4) Новосибирская область?

1

3. Подумайте, какой известный физико-географический объект объединяет такие страны как Россия, Туркмения, Иран, Казахстан, Азербайджан:

- 1) Уральские горы;
- 2) Кавказские горы;
- ③ Каспийское море;
- 4) Прикаспийская низменность?

1

4. Выберите вид транспорта, лидирующий по грузообороту в России:

- ① железнодорожный;
- 2) автомобильный;
- 3) трубопроводный;
- 4) внутренний водный.

1

5. Производство какого вида продукции транспортного машиностроения представлено в таких центрах как Брянск, Людиново, Коломна, Муром, Калуга:

- 1) пассажирских вагонов;
- 2) вагонов метро;
- 3) электровозов;
- ④ тепловозов?

1

6. Выберите субъект РФ, лидирующий по добыче угля:

- ① Кемеровская обл.;
- 2) Красноярский край;
- 3) Республика Коми;
- 4) Ростовская обл.

1

7. Выберите экономический район, в котором производство электроэнергии на душу населения наивысшее:

- 1) Центральный;
- 2) Северный;
- 3) Северо-Кавказский;
- ④ Восточно-Сибирский.

1

3. В последнее время обострились проблемы одного из видов городов, название которых уже устоялось в отечественной экономической географии. К их особенностям можно отнести наличие так называемых градообразующих предприятий (т.е. предприятия, на которых занято более 30% трудоспособного населения данного города и инфраструктурные объекты этого предприятия обслуживают более 30% населения данного города). Как называются эти города в экономической географии (3б.)

- 1) агломерации;
- 2) города-спутники;
- 3) моногорода;
- 4) вахтовые поселения.

3

4. Вам предстоит за короткий срок открыть энергоемкое производство, но в интересуемом регионе существует острый дефицит электроэнергии. Однако ваш проект может позволить крупные инвестиции в развитие производственной инфраструктуры, в том числе и в энергетiku. Какой вид электростанции вы выберете для строительства при условии наличия в данном месте гидроэнергоресурсов и недалеко прохождение газопровода. Выбор обоснуйте. (5б.)

- 1) ГЭС;
- 2) АЭС;
- 3) ТЭС;
- 4) солнечную.

5

ТЭС строится за короткий срок и здесь неограниченное  
прохождение газопровода.  
В дальнейшем лучше перейти на ГЭС

### 5. «Дорожная география»

В вагоне поезда Москва – Владивосток мой спутник – техник с золотых приисков – рассказал мне отрывок из своей биографии:

«Родился я и вырос в городе, название которому дано по имени реки, на которой он расположен. Учился я в другом городе, который находился восточнее первого: расстояние между ними 945 км по железной дороге. Имя второму городу дала также река, на которой он лежит. Кстати, название этих городов и рек схожи, разница лишь в одной начальной букве. Один из этих городов мы будем проезжать. Еду я домой, в город, название которого читается одинаково справа и слева. Начальная буква в названии этого города та же, что и города, где я родился. А находится он в бассейне реки, имя которой носит моя дочь. Если хотите знать, как меня зовут, то следите за станциями, мимо которых мы будем проезжать. В названии одной из них. В названии одной из них, данной в честь русского казака-землепроходца Хабарова, вы прочтете мое имя и отчество».

Попробуйте, пользуясь данными, которые приведены в рассказе, ответить на следующие вопросы:

1. В каком городе родился рассказчик, и на какой реке этот город расположен?

Омск, река Омь

2. Где он учился (название города и реки)? Тамск, река Тамь

3. В какой город он едет. Шамшот

4. В бассейне какой реки находится этот город? Дена

5. Имя и отчество рассказчика? Евгений Павлович

8

Количество баллов — 8.

6. Определите, о каком географическом объекте идет речь, и ответьте на дополнительные вопросы. (4б.)

Этот географический объект X, образовавшийся на уступе куэсты и состоящий из двух потоков, принадлежит двум соседним государствам, граница между которыми проходит по реке, на которой он расположен. Левый поток шириной около 800 м и высотой падения воды 48 м принадлежит одному государству, правый шириной 300 м и высотой 51 м – другому.

Интересной особенностью этого географического объекта X является то, что он все время находится «в пути». По подсчетам ученых, за историческое время он продвинулся вверх по реке уже на 11 км, двигаясь в среднем по 80 см в год.

1. Назовите географический объект X.
2. Каким государствам принадлежат правый и левый его потоки?
3. На какой реке он расположен?
4. Почему он движется?

1. Никарагуа
2. левый - Канада, правый - США
3. Никарагуа
4. Потому что каждый год подмывает берега